

N

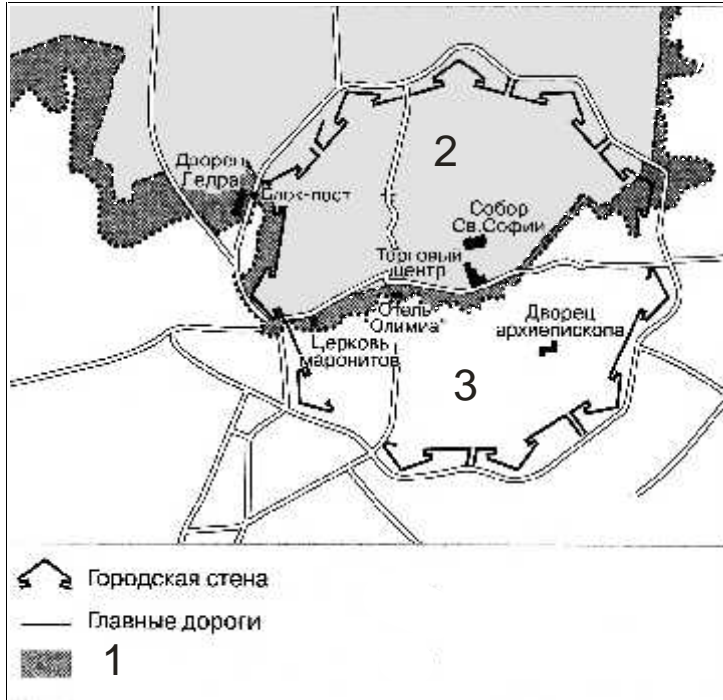
)?

(

?

?

1 – 3?



— — — — — (

« »).

1

, , « » (« ») —

!

: (, , (« - »).

— , !

Готический собор св. Софии (XIII-XIV века), церкви Богоматери и августинцев (обе ок. 1330), ансамбль рынка (готическая базилика, расширена в 14-16 вв.), «Ворота Фамагусты» (16 в), собор св. Иоанна (перестроен в 1665; цикл росписей — ок. 1730), архиепископский дворец (1950-59).

— , , XIII . , , , . XIII . , , , . , , , . (,) - , ? , .

Z

,	,
,	,
,	.

:

(A - F).

(-

, -),

Z A - F.

,

:

-
-
-
-
-

, (I),

(II),

(III),
(IV),

(V).

Z

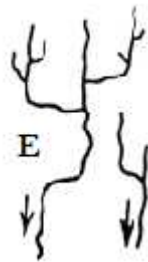
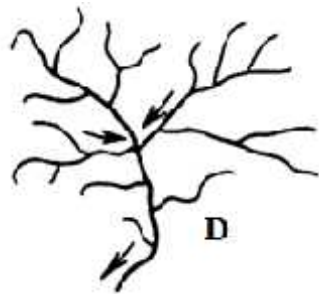

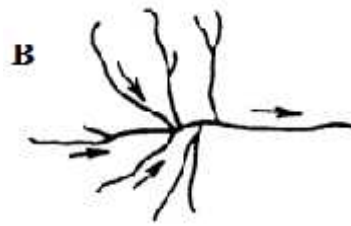
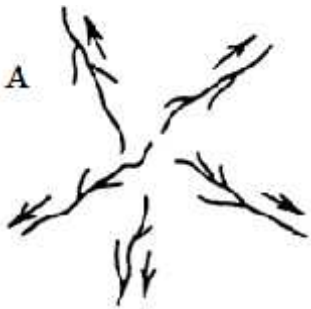
?

():

(), (), , .

(), (), (), .

, (), (), .



. Z

XX

«

».

$$R = \frac{\sqrt{S/n}}{2},$$

R –
S –
n –

« »,

, 0,9 100 ²,

()

R

R:

1

R

(

«
«

»,

«

»).

:

«

»,

«

»
».

2

()

1

« »

« »

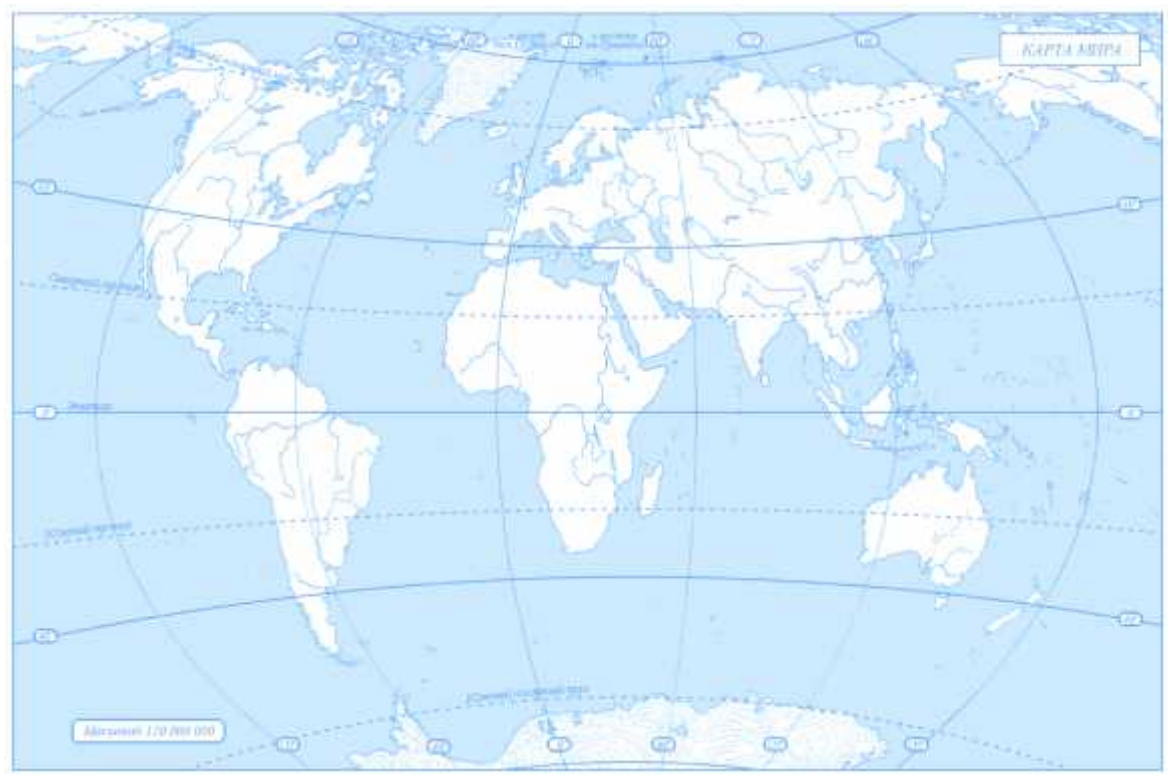
2

*

* : , 1.

« » . - . .

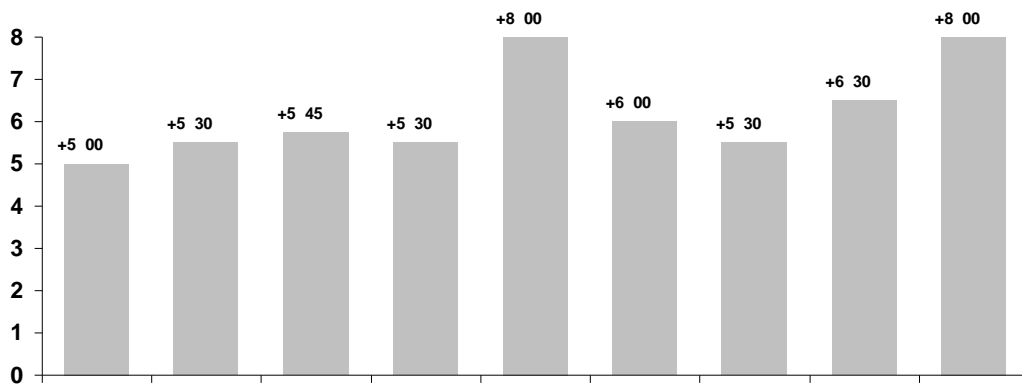
1(/ 7)



27°30' . .

« »

« ».



« » — « ».

;

« ».

3,5

(,

)

?

) (

Нанесите на карты А и Б на листе для ответа моря Мирового океана, названные в честь путешественников, исследователей и географов. Дайте краткое описание основных географических достижений любых трёх путешественников, в честь которых именуется моря Южного океана.