

11 класс

- 11.5. Бессмертная блоха прыгает по целым точкам на числовой прямой, стартуя с точки 0. Длина первого прыжка равна 3, второго — 5, третьего — 9, и так далее (длина k -го прыжка равна $2^k + 1$). Направление прыжка (вправо или влево) блоха выбирает самостоятельно. Может ли так случиться, что блоха рано или поздно побывает в любой натуральной точке (возможно, побывав в некоторых точках больше, чем по разу)? (С. Берлов)

Ответ. Да.

Решение. Покажем, как блоха может прыгать, попадая последовательно в точки 0, 1, 2, 3, ... (каждый раз — за несколько прыжков). Для этого достаточно показать, как, попав в точку n , за несколько прыжков попасть в точку $n + 1$.

Пусть до попадания в точку n блоха совершила $k - 1$ прыжков (т.е. длина следующего прыжок будет равна $2^k + 1$). Тогда она может сделать $\ell = 2^k$ прыжков влево, а затем один прыжок вправо. В результате она сместится вправо на

$$\begin{aligned} & (2^{k+\ell} + 1) - (2^k + 1) - (2^{k+1} + 1) - \dots - (2^{k+\ell-1} + 1) = \\ & = (2^{k+\ell} - 2^k - 2^{k+1} - \dots - 2^{k+\ell-1}) + 1 - 2^k = 2^k + 1 - 2^k = 1, \end{aligned}$$

что и требовалось.

- 11.6. Действительные числа a, b, c, d , по модулю большие единицы, удовлетворяют соотношению

$$abc + abd + acd + bcd + a + b + c + d = 0.$$

Докажите, что

$$\frac{1}{a-1} + \frac{1}{b-1} + \frac{1}{c-1} + \frac{1}{d-1} > 0.$$

Решение. Обозначим $x = \frac{a+1}{a-1}$, $y = \frac{b+1}{b-1}$, $z = \frac{c+1}{c-1}$, $t = \frac{d+1}{d-1}$. Поскольку модули чисел a, b, c, d больше единицы, числа x, y, z, t положительны (и не равны 1).

Данное соотношение переписывается в виде

$$(a+1)(b+1)(c+1)(d+1) = (a-1)(b-1)(c-1)(d-1),$$

или $xyzt = 1$. Из равенства $\frac{1}{a-1} = \frac{x-1}{2}$ и аналогичных получаем, что

$$\frac{1}{a-1} + \frac{1}{b-1} + \frac{1}{c-1} + \frac{1}{d-1} = \frac{x+y+z+t-4}{2}.$$

Таким образом, нам надо доказать, что $x + y + z + t > 4$.

Поскольку $xyzt = 1$, но числа x, y, z, t отличны от единицы, среди них есть различные. Тогда по неравенству о средних получаем

$$x + y + z + t > 4\sqrt[4]{xyzt} = 4,$$

что и требовалось.

- 11.7. Неравнобедренный треугольник ABC вписан в окружность ω . Касательная к этой окружности в точке C пересекает прямую AB в точке D . Пусть I — центр окружности, вписанной в треугольник ABC . Прямые AI и BI пересекают биссектрису угла CDB в точках Q и P соответственно. Пусть M — середина отрезка PQ . Докажите, что прямая MI проходит через середину дуги ACB окружности ω . (М. Кунгожин)

Первое решение. Пусть, без ограничения общности, точка D лежит на луче BA . Пусть биссектрисы AI и BI углов треугольника пересекают ω вторично в точках A' и B' соответственно. Пусть, наконец, L — середина дуги ACB (см. рис. 4).

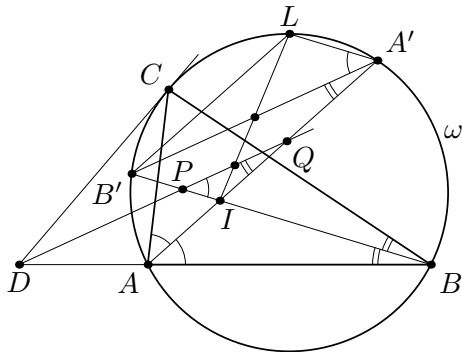


Рис. 4

Заметим, что $\angle LA'A = \angle LBA = (\angle A + \angle B)/2 = \angle B'IA$. Значит, $LA' \parallel IB'$ и, аналогично, $LB' \parallel IA'$. Поэтому $IA'LB'$ — параллелограмм, и прямая LI делит $A'B'$ пополам.

Далее, $\angle CDB = \angle CAB - \angle ACD = \angle A - \angle B$. Значит, $\angle PQA = \angle QAB - \angle QDB = \angle A/2 - (\angle A - \angle B)/2 = \angle B/2 = \angle B'A'A$, так что $PQ \parallel A'B'$. Но тогда прямая LI , делящая

отрезок $A'B'$ пополам, делит пополам и отрезок PQ , что и требовалось доказать.

Второе решение. Как и в предыдущем решении, обозначим через L середину дуги ACB и покажем, что $\angle PQA = \angle B/2 = \angle PBA$. Это значит, что точки Q, P, A и B лежат на одной окружности. А значит, прямые PQ и AB антипараллельны друг другу относительно прямых PI и QI . Поэтому, чтобы доказать, что LI — медиана треугольника PIQ , достаточно доказать, что LI — симедиана треугольника AIB .

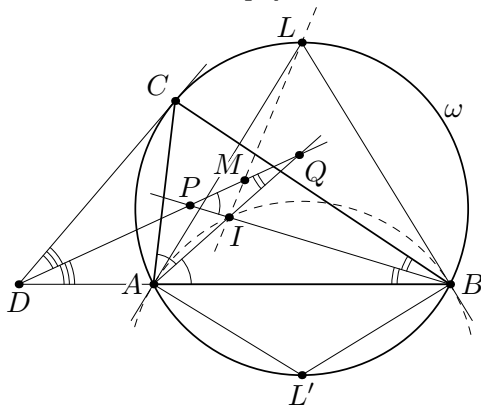


Рис. 5

Пусть L' — точка окружности ω , диаметрально противоположная точке L . Тогда по лемме о трезубце L' — центр окружности, описанной около треугольника AIB . При этом $\angle L'AL = \angle L'BL = 90^\circ$. Значит, LA и LB — касательные к окружности, описанной около треугольника AIB . Значит, по теореме о симедиане LI — симедиана треугольника ABI .

- 11.8. Даны натуральные числа a и b , причём $a < b < 2a$. На клетчатой плоскости отмечены некоторые клетки так, что в каждом клетчатом прямоугольнике $a \times b$ или $b \times a$ есть хотя бы одна отмеченная клетка. При каком наибольшем α можно утверждать, что для любого натурального N найдётся клетчатый квадрат $N \times N$, в котором отмечено хотя бы αN^2 клеток?

(И. Богданов, О. Подлипский)

Ответ. $\alpha = 1/(2a^2 - 2ab + b^2)$.

Решение. Введём на плоскости систему координат так, что-

бы центры клеток, и только они, имели целые координаты. Будем говорить, что клетка имеет те же координаты, что и её центр. Назовём прямоугольник $a \times b$ *вертикальным* или *горизонтальным*, если его сторона длины b вертикальна или горизонтальна, соответственно.

1. Положим $D = a^2 + (b - a)^2 = 2a^2 - 2ab + b^2$. Отметим на плоскости клетку $(0, 0)$ и все клетки, полученные из неё сдвигами на целые кратные векторов $(a, b - a)$ и $(b - a, -a)$; на рис. 6 приведён пример такой разметки при $a = 3, b = 5$. Центры этих клеток находятся в вершинах квадратной сетки со стороной \sqrt{D} ; при этом клетки $(D, 0) = (a^2 + (b - a)^2, (b - a)a - a(b - a))$ и $(0, D)$ отмечены. Значит, при горизонтальном или вертикальном сдвиге на D отмеченная клетка переходит в отмеченную. Отсюда нетрудно получить, что в любом квадрате $D \times D$ ровно D отмеченных клеток.

Покажем, что такая разметка удовлетворяет условию; отсюда будет следовать, что $\alpha \leq D/D^2 = 1/D$. Действительно, рассмотрим любую полосу из b последовательных горизонталей. Ясно, что в ней есть хотя бы одна отмеченная клетка. Далее, если (x, y) — координаты любой отмеченной клетки в ней, то одна из двух клеток $(x + a, y + (b - a))$ или $(x + (b - a), y - a)$ также находится в этой полосе, и смещена относительно предыдущей не более, чем на a вправо. Значит, в любых a вертикалях нашей полосы найдётся отмеченная клетка. Доказательство для горизонтальных прямоугольников аналогично.

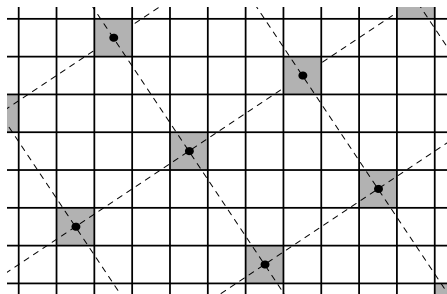


Рис. 6

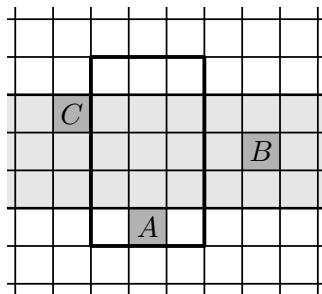


Рис. 7

2. Осталось показать, что $\alpha = 1/D$ подходит. Рассмотрим произвольную разметку, удовлетворяющую условию. Каж-

дому вертикальному прямоугольнику сопоставим любую из самых верхних отмеченных в нём клеток. Оценим, какому количеству прямоугольников может быть сопоставлена одна отмеченная клетка A ; пусть её координаты $(0, 0)$. Её содержат ab вертикальных прямоугольников.

Рассмотрим горизонтальную полосу из клеток, ординаты которых не меньше 1 и не больше a . Пусть B — отмеченная клетка в этой полосе с наименьшей неотрицательной абсциссой, а C — отмеченная клетка в этой полосе с наибольшей отрицательной абсциссой. Тогда между B и C расположено не более $b - 1$ вертикалей, в противном случае в нашей полосе между этими клетками нашёлся бы горизонтальный прямоугольник без отмеченных клеток.

Рассмотрим теперь все $a \cdot (b - a)$ вертикальных прямоугольников, содержащих A и пересекающих хотя бы a горизонталей сверху от A . Каждый из них содержит B или C , за исключением тех, которые расположены строго между B и C ; таковых по доказанному выше не более $(b - a) \cdot (b - a)$. Значит, хотя бы $a(b - a) - (b - a)^2 = (2a - b)(b - a)$ прямоугольников, содержащих A , содержат также B или C , и A им не сопоставлена. Итого, клетка A сопоставлена не более, чем $ab - (2a - b)(b - a) = D$ вертикальным прямоугольникам.

Пусть теперь N — произвольное число. Положим $K = (a + b)N^2$ и рассмотрим произвольный квадрат $K \times K$; пусть в нём s отмеченных клеток. В этом квадрате расположено не меньше $(K - a)(K - b)$ вертикальных прямоугольников; каждому из них сопоставлена одна из s отмеченных клеток. По доказанному, получаем

$$s \geq \frac{(K - a)(K - b)}{D} > \frac{K(K - a - b)}{D} = \frac{(a + b)^2 N^2 (N^2 - 1)}{D}.$$

Разделив наш квадрат $K \times K$ на $(a + b)^2 N^2$ квадратов размера $N \times N$, получаем, что в одном из них больше, чем $\frac{N^2 - 1}{D}$ отмеченных клеток; значит, их не меньше, чем $\frac{N^2 - 1}{D} + \frac{1}{D} = \frac{N^2}{D}$, что и требовалось доказать.