

**ВСЕРОССИЙСКАЯ ОЛИМПИАДА ШКОЛЬНИКОВ  
ПО ИСТОРИИ 2014–2015 г.  
МУНИЦИПАЛЬНЫЙ ЭТАП. 8 КЛАСС**

**Критерии оценивания**

***В заданиях 1–3 дайте один верный ответ. Ответ внесите в таблицу.***

**1** **Каким французским монархом был принят документ, отрывок из которого представлен ниже?**

«Повелеваем, чтобы католическая апостольская римская религия была восстановлена во всех местах нашего королевства... где отправление её было прервано, и да исповедуется она мирно и свободно без всяких смут и препятствий...»

Чтобы не дать никакого повода к смутам и распрям среди наших подданных, мы позволили и позволяем исповедующим так называемую реформированную религию жить и обитать во всех городах и местах нашего королевства...»

- 1) Генрихом IV
- 2) Людовиком IX
- 3) Людовиком XIII
- 4) Людовиком XIV

**2** **В каком году произошли описываемые ниже события?**

«Голпа черни, числом до 5 тыщ, двинулась к царю в Коломенское, требуя отмены медных денег... В Москве разорён был дом гостя Шорина и бояр, близких к князю Милославскому...»

- 1) 1648 г.
- 2) 1662 г.
- 3) 1670 г.
- 4) 1682 г.

**3** **Каким правителем России был издан приведённый ниже документ?**

«Все находящиеся в разных наших службах дворяне могут оную продолжить, сколь долго пожелают... состоящие на военной службе могут просить у командующих над ними об увольнении со службы или отставки, и ожидать резолюции...»

- 1) Анной Ивановной
- 2) Елизаветой Петровной
- 3) Петром III
- 4) Екатериной II

**По 1 баллу за каждый верный ответ.  
Максимум 3 балла за задания 1–3.**

**В заданиях 4 и 5 выберите несколько верных ответов из предложенных. Ответы внесите в таблицу.**

**4** При каких из представленных ниже правителей были приняты сборники законов?

- 1) Мстислав Удалой
- 2) Всеволод Большое Гнездо
- 3) Иван Калита
- 4) Иван III
- 5) Алексей Михайлович

Ответ: 45.

**5** Какие из представленных ниже деятелей являлись руководителями народных восстаний на территории Российского государства?

- 1) Иван Мазепа
- 2) Франциск Скорина
- 3) Степан Разин
- 4) Емельян Пугачёв
- 5) Иван Болотников

Ответ: 345.

**2 балла за полностью верный ответ. 1 балл за ответ с одной ошибкой (не указан один из верных ответов или наряду с указанными всеми верными ответами приводится один неверный).**

**Всего 4 балла за задания 4,5.**

**6** Перед Вами перечень событий, произошедших в правление трёх российских монархов. Запишите в верхнюю строку таблицы имена монархов, а в нижнюю – порядковые номера событий, произошедших в их правление.

- 1) строительство первой железодельательной мануфактуры
- 2) начало проведения церковной реформы патриарха Никона
- 3) отмена местничества
- 4) Переяславская рада
- 5) Смоленская война
- 6) установление 10-летнего срока сыска беглых крестьян
- 7) Бахчисарайский мир между Россией, Османской империей и Крымским ханством
- 8) издание Новоторгового устава

**Ответ:**

Правитель	Михаил Фёдорович	Алексей Михайлович	Фёдор Алексеевич
События	1, 5, 6	2, 4, 8	3, 7

**По 1 баллу за каждое верно названное имя.**

**По 0,5 балла за каждое верное соотнесение.**

**Всего 7 баллов.**

**7** Дайте краткое обоснование ряда (что объединяет перечисленные элементы) и укажите, какой из элементов является лишним по данному основанию.

- 1) копейщики, мушкетёры, стрельцы, рейтары
- 2) Ништадтский мир (1721), Белградский мир (1739), Кючук-Кайнарджийский мир (1774), Ясский мир (1791)

**Ответы:**

1. Рода войск из полков «нового строя». Лишнее – стрельцы
2. Мирные договоры России с Османской империей. Лишний – Ништадтский мир.

**2 балла за каждый верный ответ.**

**Всего 4 балла за задание.**

**8** По какому принципу образованы ряды? Дайте максимально точный ответ.

- 1) 1497 г., 1581 г., 1597 г., 1649 г.
- 2) Бурбоны, Габсбурги, Гогенцоллерны, Вазы

**Ответы:**

1. Годы, связанные с поэтапным введением крепостного права в России.
2. Династии европейских правителей.

**2 балла за каждый верный ответ.**

**Всего 4 балла за задание.**

**9** Расположите в хронологической последовательности события.

- А) поход новгород-северского князя Игоря на половцев
- Б) битва на реке Калке
- В) любечский съезд князей
- Г) первое летописное упоминание о Москве
- Д) перенос митрополичьей кафедры в Москву
- Е) строительство белокаменного Кремля в Москве

**Ответ:**

В	Г	А	Б	Д	Е
---	---	---	---	---	---

**4 балла – полностью верная последовательность.**

**3 балла – последовательность с одной ошибкой (т. е. верная последовательность восстанавливается путём перестановки любых двух символов).**

**0 баллов – допущено более 1 ошибки.**

- 10** Установите соответствие между русскими литературными произведениями и событиями зарубежной истории, произошедшими в том же веке, в котором были написаны данные произведения. Запишите в таблицу выбранные цифры под соответствующими буквами.

## ПРОИЗВЕДЕНИЕ

## СОБЫТИЕ ЗАРУБЕЖНОЙ ИСТОРИИ

- |                               |                            |
|-------------------------------|----------------------------|
| А) «Хождение за три моря»     | 1) третий крестовый поход  |
| Б) «Домострой»                | 2) Варфоломеевская ночь    |
| В) «Поучение детям»           | 3) казнь Карла I Стюарта   |
| Г) «Житие протопопа Аввакума» | 4) начало Столетней войны  |
|                               | 5) война Алой и Белой розы |

Ответ:

А	Б	В	Г
5	2	1	3

По 0,5 баллу за каждое верное соотнесение.  
Всего за задание 2 балла.

- 11** Установите соответствие между битвой и войной, в ходе которой она произошла. Запишите в таблицу выбранные цифры под соответствующими буквами.

## БИТВА

## ВОЙНА

- |  |  |
|--|--|
| А) осада Азова   | 1) Северная война                      |
| Б) сражение при Гренгаме                               | 2) Русско-турецкая война 1735–1739 гг. |
| В) штурм Измаила                                       | 3) Ливонская война                     |
| Г) героическая оборона Пскова от войск Стефана Батория | 4) Смоленская война                    |
|  | 5) Русско-турецкая война 1787–1791 гг. |

Ответ:

А	Б	В	Г
2	1	5	3

По 0,5 балла за каждое верное соотнесение.  
Всего за задание 2 балла.

**12** Определите пропущенные в тексте названия, слова, имена, даты, обозначенные порядковыми номерами. При необходимости при порядковых номерах даются пояснения о характере требуемой вставки. Необходимые вставки впишите под соответствующими номерами в помещённую в бланке ответа таблицу.

Анна после смерти отца жила с матерью и сёстрами в подмосковном селе Измайлово. В 1710 году была выдана дядей (1 – имя) за курляндского (2 – титул) Фридриха. Брак призван был закрепить права России в использовании курляндских портов на (3 – название) море. Во время длительных свадебных торжеств Фридрих простудился и, выехав с женой в столицу Курляндии (4), умер в дороге. Но российский император приказал Анне жить в Митаве. Так Анна осталась одна. В 1727 г. её внимание привлек один из придворных, камер-юнкер (5 – фамилия), ставший её фаворитом.

После неожиданной смерти императора (6 – имя) в январе (7) года ключевую роль в (8 – государственное учреждение), определявшем политику России, захватили князя Долгорукие и Голицыны. Полагая, что 37-летняя Анна не имеет сторонников и связей в России, они решили позвать её на российский престол, навязав ей условия, изложенные в («9»), ограничивавшие её власть. В случае неисполнения условий она лишалась короны.

Анна подписала бумаги, но оказалась хитрее заговорщиков. 15 февраля она въехала в родную ей Москву. Пока инициаторы планов переустройства России совещались, офицеры верных императрице (10 – тип) полков заявили, что «не следует предписывать государыне такие законы», что она «должна быть самодержицей», и подали челобитную о восприятии самодержавия. После этого Анна надорвала документы и объявила себя самодержавной императрицей.

**Ответ:**

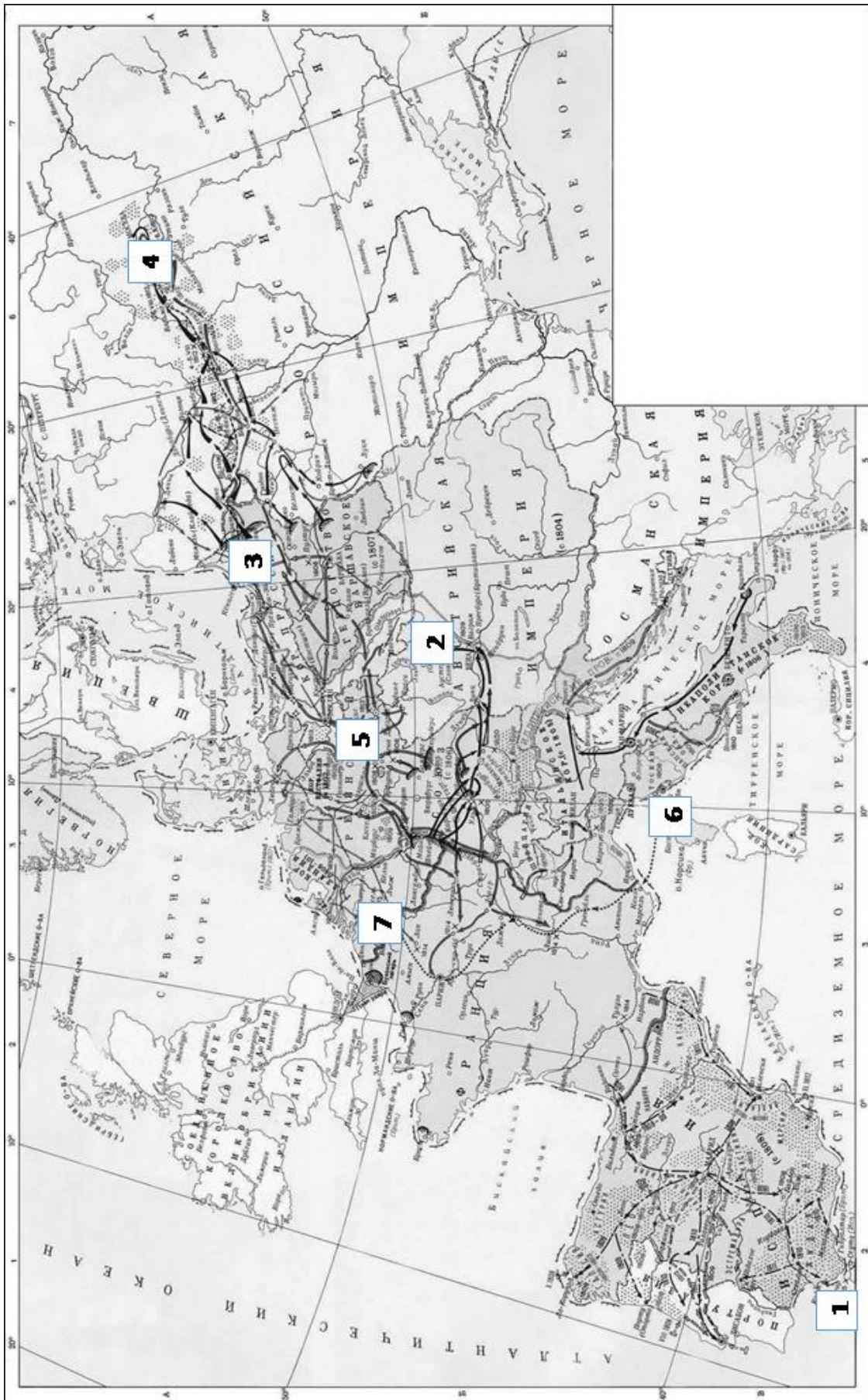
- 1) Петром I
- 2) герцога
- 3) Балтийском
- 4) Миттаву
- 5) Э.И. Бирон
- 6) Петра II
- 7) 1730
- 8) Верховном тайном совете
- 9) Кондиции
- 10) гвардейских

**По 1 баллу за каждую верную вставку.**

**Всего 10 баллов.**

13

Внимательно рассмотрите карту и заполните пропуски в предложениях, внося ответ в таблицу.



А) Место битвы, после которой Наполеон сказал: «Французы показали себя достойными победы, а русские заслужили быть непобедимыми», обозначено на карте цифрой\_\_\_\_\_.

Б) Место битвы, которая вошла в историю как «Битва трёх императоров», обозначено на карте цифрой\_\_\_\_\_.

В) Место, где состоялась битва, в которой Наполеон потерпел своё последнее поражение, обозначено на карте цифрой\_\_\_\_\_.

Г) Место битвы, получившей название «Битва народов», обозначено на карте цифрой\_\_\_\_\_.

Д) Место первой ссылки Наполеона обозначено на карте цифрой\_\_\_\_\_.

Е) Место битвы, перед началом которой адмирал Нельсон отдал приказ своим морякам: «Пусть каждый исполнит свой долг», обозначено на карте цифрой\_\_\_\_\_.

Ж) Место, где был подписан мир между Россией и Францией, который в России называли «гибельным», а императору предлагали «совершить въезд в столицу на ослах», обозначено на карте цифрой\_\_\_\_\_.

**Ответ:**

<b>А</b>	<b>4</b>
<b>Б</b>	<b>2</b>
<b>В</b>	<b>7</b>
<b>Г</b>	<b>5</b>
<b>Д</b>	<b>6</b>
<b>Е</b>	<b>1</b>
<b>Ж</b>	<b>3</b>

**По 2 балла за каждый верный ответ.**

**Всего за задание 14 баллов.**



**14** Перед Вами картины и текстовые фрагменты, посвящённые различным событиям в истории России. Заполните таблицу: во вторую колонку таблицы запишите номер текстового фрагмента, в котором описывается изображенное на картине событие, в третью колонку запишите, какое событие изображено на картине и описывается в текстовом фрагменте, в четвертую колонку таблицы запишите год, когда это событие произошло.

А)



Б)




В)



Г)




Д)



Е)



Ж)



З)



<p><b>1.</b> «...Князь перед русскими полками Коня с разлёта повернул, Закованными в сталь руками Под облака сердито ткнул. “Пусть с немцами нас Бог рассудит Без проволочек тут, на льду, При нас мечи, и, будь что будет, Поможем Божьему суду!”»</p>	<p><b>2.</b> «Иртыш кипел в крутых берегах, Вздымались седые волны, И рассыпались с рёвом в прах, Бия о брег, козачьи челны. С вождём покой в объятых сна Дружина храбрая вкушала; С Кучумом буря лишь одна На их погибель не дремала».</p>
<p><b>3.</b> «Пусть ночь. Домчимся. Озарим кострами Степную даль. В степном дыму блеснёт святое знамя И ханской сабли сталь...  И вечный бой! Покой нам только снится. Сквозь кровь и пыль... Летит, летит степная кобылица И мнёт ковыль...»</p>	<p><b>4.</b> «Собрались князья, бояре, Горожане всей страны И казённые крестьяне, Что пахали для казны. Подошли стрельцы, казаки, Последить народ пришёл, Чтобы шведы и поляки Не попали на престол. Горожане рассуждали: “Хоть бы русского избрали!” И крестьянин думал так: “Русский всё ж не пан поляк!”»</p>
<p><b>5.</b> «Будь славен вовек, о муже избранне, Волности отче, герою Богдане!»</p>	<p><b>6.</b> «Пусть враги нас порубят, побьют, Пусть обратно добычу отымут, Но певцы про нас славу споют, Ибо мёртвые сраму не имут!»</p>
<p><b>7.</b> «Целый день прохозяйничали стрельцы во дворце и Кремле. Когда смерклось, они разошлись по своим слободам, но в Кремле, Китае и Белом городе оставили крепкие караулы при всех воротах, наказав не пускать никого ни в Кремль, ни из Кремля».</p>	<p><b>8.</b> «Турки с моря в оборону многие приходили кораблями, фуркатами и со шулами. Желающе ко Азову силни ся пробити и сидящим во осаду помощ учинити. Адмирал же против турков войско оружует, камандора славна, мудра с ними посылает: Петра храбра, добронравна, во смелости явна».</p>

**Ответ:**

Буквенное обозначение иллюстрации картины	Номер отрывка	Событие	Год
А	3	Куликовская битва(поединок Пересвета с Челубеем)	1380
Б	4	призвание Романовых на царство (или венчание Михаила Романова)	1613
В	8	взятие Азова	1696
Г	7	Стрелецкий бунт	1682
Д	1	Ледовое побоище	1242
Е	5	Переяславская рада	1654
Ж	6	битва при Доростоле (или встреча князя Святослава с императором Цимисхием)	971
З	2	разгром Сибирского ханства (поход Ермака в Сибирь)	1582 (1581– 1585)

**По 1 баллу за каждый верный элемент ответа.****Всего за задание 24 балла.**

**15** **Внимательно изучите представленный ниже отрывок из документа и ответьте на вопросы к нему.**

*«Король:* Вы должны всё приготовить к нападению на ...; вы должны вести осаду и сказать нам, в какой день мы возьмём крепость.

*Гилленкрок:* Я думаю, что и сам Вобан призадумался бы, если б увидал, как здесь у нас недостаток во всём, что нужно для осады.

*Король:* У нас довольно материала, чтоб взять такую ничтожную крепость, как ...

*Гилленкрок:* Крепость не сильна, но в ней 4000 гарнизона, кроме козаков.

*Король:* Русские сдадутся при первом пушечном выстреле с нашей стороны.

*Гилленкрок:* А я думаю, что русские будут защищаться до последней крайности, и пехоте вашего величества сильно достанется от продолжительных осадных работ.

*Король:* Я вовсе не намерен употреблять на это мою пехоту, а запорожцы Мазепины на что?

*Гилленкрок:* Но разве можно употреблять на осадные работы людей, которые не имеют об них никакого понятия, с которыми надобно объясняться чрез толмачей и которые разбегутся, как скоро работа покажется им тяжёлой и товарищи их начнут падать от русских пуль?»

**1. Какое событие описывается в источнике? В каком году оно произошло?**

**2. Назовите имя короля.**

**3. Король, обращаясь к собеседнику, утверждает: «Вы должны все приготовить к нападению на ...; вы должны вести осаду и сказать нам, в какой день мы возьмём крепость».**

**Какие аргументы приводит король в пользу того, что сделать это легко?**

**Какие аргументы приводит его собеседник в пользу того, что сделать это затруднительно?**

**Приведите по три аргумента, используя источник.**

**4. Чья позиция, короля или Гилленкрока, оказалась более реалистичной?**

**Обоснуйте свой ответ, опираясь на знание исторических фактов.**

**Приведите два обоснования.**

**Ответ:**

1. Осада Полтавы шведской армией во время Северной войны, 1709 год.
2. Карл XII.
3. Аргументы короля:
  - 1) ничтожность крепости;
  - 2) достаточность сил армии для её взятия;
  - 3) готовность русских войск быстро сдаться;
  - 4) возможность использования запорожцев для осадных работ.

## Аргументы Гиленкрока:

- 1) недостаток необходимого для осады;
  - 2) наличие мощного гарнизона в крепости;
  - 3) готовность обороняющихся защищаться до конца;
  - 4) тяжесть осадных работ для армии;
  - 5) неспособность запорожцев справиться с осадными работами.
4. Оценка Гиленкрока оказалась более реалистичной. Шведы не сумели быстро взять Полтаву и потерпели поражение в Полтавской битве.

1. По 2 балла за каждый элемент ответа. Всего 4 балла.
  2. 1 балл.
  3. По 2 балла за каждый приведённый аргумент. Всего 12 баллов.
  4. 1 балл за ответ. По 2 балла за каждое обоснование. Всего 5 баллов.
- Всего за задание 22 балла.

**Максимум за работу 100 баллов.**

**В случае, если общий балл за работу получился дробный (например, 47,5), итоговый балл округляется в пользу участника.**

**Развернутые ответы учащихся могут быть даны в иных, содержательно верных формулировках.**