

ВСЕРОССИЙСКАЯ ОЛИМПИАДА ШКОЛЬНИКОВ  
ПО ОБЖ 2015–2016 уч. г.  
МУНИЦИПАЛЬНЫЙ ЭТАП  
9 класс

***Уважаемый участник!***

При выполнении заданий Вам предстоит выполнить определённую работу, которую лучше организовать следующим образом:


- внимательно прочитайте задание;
- если Вы отвечаете на теоретический вопрос или решаете ситуационную задачу, обдумайте и сформулируйте конкретный ответ (ответ должен быть кратким, и его содержание следует вписать в отведённое поле, пишите чётко и разборчиво);
- при ответе на тесты определите верный ответ обведите кружком, букву (буквы), соответствующую(-ие) выбранному Вами ответу.

За каждый правильный ответ Вы можете получить определённое членами жюри количество баллов, не выше указанной максимальной оценки.

Сумма набранных баллов за все решённые вопросы в двух форматах – итог Вашей работы. Максимальное количество баллов – 100.

Задания считаются выполненными, если Вы вовремя сдали их членам жюри.

***Желаем успеха!***



**Тестовые задания**

***Определите один правильный ответ.***

1. Можно ли братья за трубку раструба голой рукой у огнетушителя ОУ-3 при тушении пожара?
  - а) да
  - б) нет
  - в) да, если направлять раструб вниз
  - г) у огнетушителя ОУ-3 нет раструба
2. Вы едете вечером в пустом автобусе или троллейбусе. Где безопаснее сидеть, чтобы не стать жертвой грабежа или разбоя?
  - а) ближе к водителю
  - б) ближе к двери
  - в) рядом с кнопкой экстренной остановки
  - г) в центре салона
3. Дымом какого цвета Вы будете пользоваться при подаче сигналов в ясную погоду?
  - а) любым
  - б) чёрным
  - в) белым
  - г) красным
4. Какую повязку можно наложить при ранении головы?
  - а) чепец
  - б) спиральную
  - в) циркулярную
  - г) окклюзионную (герметизирующую)
5. Какие последствия вызывает однократное общее облучение до 500 бэр?
  - а) тяжёлую степень лучевой болезни
  - б) незначительное недомогание
  - в) лёгкую степень лучевой болезни
  - г) крайне тяжёлую степень лучевой болезни
6. Как называется длительный, очень сильный ветер со скоростью от 40 до 100 км/ч?
  - а) ураган
  - б) смерч
  - в) циклон
  - г) буря
7. Сколько куплетов в Государственном гимне Российской Федерации?
  - а) 2
  - б) 3
  - в) 4
  - г) 1

8. С учётом какого фактора размещают взрыво- и пожароопасные объекты на конкретной местности?
- а) расстояние до водоёмов
  - б) роза ветров
  - в) особенности местности
  - г) среднегодовая температура
9. В каком из перечисленных продуктов содержание белка наибольшее?
- а) сыр
  - б) макароны
  - в) фасоль
  - г) горох
10. Укажите признак улучшения погоды.
- а) угли в костре тлеют ярко и долго
  - б) повышение атмосферного давления
  - в) появление на небе перистых облаков
  - г) на закате летнего дня красный диск Солнца садится в тучу

***Определите все правильные ответы.***

11. Каким из перечисленных требований должна отвечать пешая дорога к Вашему дому, чтобы Вы не стали жертвой грабежа или разбоя?
- а) быть короткой
  - б) быть освещённой
  - в) быть широкой
  - г) быть оживлённой
12. Телефонное мошенничество является одним из основных видов преступлений в телекоммуникационной сфере. Что из перечисленного наиболее вероятно относится к видам телефонного мошенничества?
- а) SMS-просьба
  - б) звонок с радио
  - в) ошибочный звонок
  - г) звонок классного руководителя



- 13.** Если человек оказался в заложниках у террористов, то какие правила ему нужно соблюдать, чтобы спасти жизнь до освобождения (возможного штурма)?
- а) выполнять все требования террористов
  - б) всегда внимательно смотреть террористам в глаза
  - в) занять нейтральную позу, по возможности дальше от окон и дверей
  - г) часто задавать вопросы террористам
- 14.** Какие действия необходимо предпринять, если в метро Вы упали на путь и видите приближающийся электропоезд?
- а) лечь лицом вниз в лоток между рельсами головой к поезду
  - б) ждать помощи от персонала
  - в) спрятаться под край пассажирской платформы
  - г) попытаться самостоятельно выбраться с пути
- 15.** Во время завтрака в школьной столовой пострадавший опрокинул на предплечье чашку с горячим чаем. Предложите наиболее целесообразные действия для сохранения здоровья пострадавшего до приезда «Скорой помощи».
- а) закатать рукав и смазать поражённое место маслом
  - б) наложить тугую влажную повязку
  - в) закатать рукав и наложить на поражённое место чистую ткань
  - г) приложить к поражённой поверхности холод
- 16.** Какие из перечисленных средств относятся к индивидуальным средствам защиты при пожаре?
- а) спасательный трап
  - б) самоспасатель фильтрующий
  - в) специальная огнестойкая накидка
  - г) натяжное спасательное полотно
- 17.** Укажите национальные интересы России в экономической сфере.
- а) поддержание высокого уровня жизни
  - б) развитие производства и рынка
  - в) стабильность конституционного строя
  - г) обеспечение национального согласия
- 18.** Как размещены полосы на Государственном флаге Российской Федерации сверху вниз и каково соотношение ширины флага к его длине?
- а) красная, синяя, белая
  - б) белая, синяя, красная
  - в) 3:2
  - г) 2:3


19. Что регулирует Семейный кодекс Российской Федерации?

- а) имущественные отношения в семье
- б) возникновение гражданских прав
- в) порядок открытия наследства
- г) условия вступления в брак

20. Какой категорией и подкатегорией транспортных средств разрешается управление по достижении шестнадцатилетнего возраста?

- а) категория «М»
- б) подкатегория «А1»
- в) категория «А»
- г) подкатегория «С1»
- д) категория «D»
- е) подкатегория «В1»

***Не забудьте перенести Ваши ответы в таблицу на титульном листе.***



**Теоретические задания**

1. Вы сошли на остановке наземного городского транспорта. Для дальнейшего следования к выбранному месту на востоке города Вам необходимо с помощью карты определить направление движения.

1.1. Опишите порядок ориентирования в городе с использованием карты.

1.2. Сопоставьте изображение улицы Люсиновская и карты. Впишите в поле под изображениями улицы соответствующие стороны горизонта.



Сторона горизонта: \_\_\_\_\_



Сторона горизонта: \_\_\_\_\_

***Не забудьте перенести Ваши ответы в бланк работы.***

2. Два туриста пострадали от укусов лесных обитателей, последствия которых приведены в колонках таблицы.

2.1. По симптомам укуса определите, кем он нанесён, и укажите ответ под таблицей на бланке работы.

<b>Первый пострадавший:</b>	<b>Второй пострадавший:</b>
– покраснение и зуд	– боль и отёчность
– боль и отёчность	– рана с кровотечением
– нарушение дыхания и глотания	
– тошнота и рвота	
– боли в животе	
– шоковое состояние	

2.2. Укажите основные приёмы первой помощи для каждого из пострадавших (на бланке работы).


1. Для первого пострадавшего.

2. Для второго пострадавшего.

3. Пострадавшему необходимо провести мероприятия сердечно-лёгочной реанимации. Перечислите порядок проведения безвентиляционного варианта реанимации.

4. Вы собираетесь в туристическую поездку на поезде. Подумайте и назовите, какие правила Вы будете соблюдать в вагоне для обеспечения транспортной безопасности.






***Не забудьте перенести Ваши ответы в бланк работы.***



5. Современного человека постоянно окружают различные потребители электроэнергии. При нахождении в общественных местах важно безошибочно определять знаки электробезопасности.

Укажите стрелками соответствие между знаками и их названиями.

**Вариант ответа:**

	Не прикасаться! Под напряжением!
	Осторожно! Заземление!
	Не включать!
	Опасность поражения электрическим током!
	Внимание! Прочие опасности.

***Не забудьте перенести Ваши ответы в бланк работы.***