

ВСЕРОССИЙСКАЯ ОЛИМПИАДА ШКОЛЬНИКОВ
ПО ТЕХНОЛОГИИ 2015–2016 уч. г.

ШКОЛЬНЫЙ ЭТАП

7–8 классы

Номинация «Культура дома и декоративно-прикладное творчество»

Теоретический тур





1. Подберите слово, чтобы получить известную поговорку: «На чужой _____, рот не разевай».

Какими пищевыми веществами он богат?

2. «Приготовьте» завтрак на шесть человек, рассчитайте необходимое количество продуктов и заполните таблицу.

№	Блюдо	Продукты	Количество продуктов на одного человека	Необходимое количество продуктов
1	сложный бутерброд	хлеб		
		колбаса	30 г	
		сыр		180 г
		зелень	10 г	
2	йогурт			6 баночек
3	какао	какао-порошок	1 чайная ложка	
		сахар	30 г	
		молоко	1 стакан	

2. Установите соответствие между продуктами, изображёнными на рисунках, и витаминами, которыми они богаты.

 <p style="text-align: center;">А</p>	 <p style="text-align: center;">Б</p>
 <p style="text-align: center;">В</p>	 <p style="text-align: center;">Г</p>

- 1) витамин А
2) витамин В

- 3) витамин С
4) витамин D

А	Б	В	Г

4. Какую обработку нужно произвести с отгадкой загадки: «Без окон, без дверей, полна горница людей», чтобы использовать этот продукт для приготовления рассольника?

5. Как модельер-конструктор одежды для животных запишет мерку полуобхват хвоста?




6. Выберите самую толстую иглу для швейной машины из предложенного списка.

- а) № 80 б) № 70 в) № 60 г) № 90



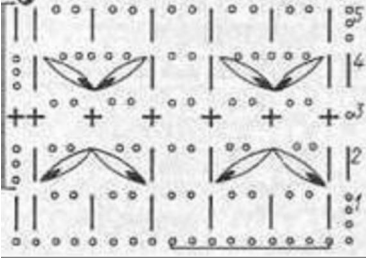





7. Установите соответствие между рисунком шва и его названием.

1	Стебельчатый шов	А	
2	Тамбурный шов	Б	
3	Петельный шов	В	
4	Шов «назад иголку»	Г	
5	Шов «козлик»	Д	

8. Укажите период истории Европы (древняя Греция, эпоха Возрождение, XIX век), для которого характерна такая одежда.

		
1	2	3

9. Какой вид рукоделия представлен в таблице? Установите соответствие схем и образцов.

Схема	Образец
<p style="text-align: center;">1</p> 	<p style="text-align: center;">А</p> 
<p style="text-align: center;">2</p> 	<p style="text-align: center;">Б</p> 
<p style="text-align: center;">3</p> 	<p style="text-align: center;">В</p> 
<p style="text-align: center;">4</p> 	<p style="text-align: center;">Г</p> 

1	2	3	4

10. Творческое задание.

Выберите одну из предложенных конструкций юбки:

- а) прямая;
- б) клиньевая;
- в) коническая.

Для выбранной юбки выполните следующие задания.

- 10.1.** Выполните эскиз модели.
- 10.2.** Перечислите материалы, которые необходимы для его изготовления.
- 10.3.** Какие инструменты и оборудование потребуются?
- 10.4.** Опишите технологическую последовательность изготовления изделия.
- 10.5.** Предложите способы декорирования изделия.