

ВСЕРОССИЙСКАЯ ОЛИМПИАДА ШКОЛЬНИКОВ  
ПО ТЕХНОЛОГИИ 2015–2016 уч. г.

ШКОЛЬНЫЙ ЭТАП

9 класс

Номинация «Культура дома и декоративно-прикладное творчество»

Теоретический тур

1. Подберите слово, чтобы получить известную поговорку: «Не красна изба углами, а красна \_\_\_\_\_».

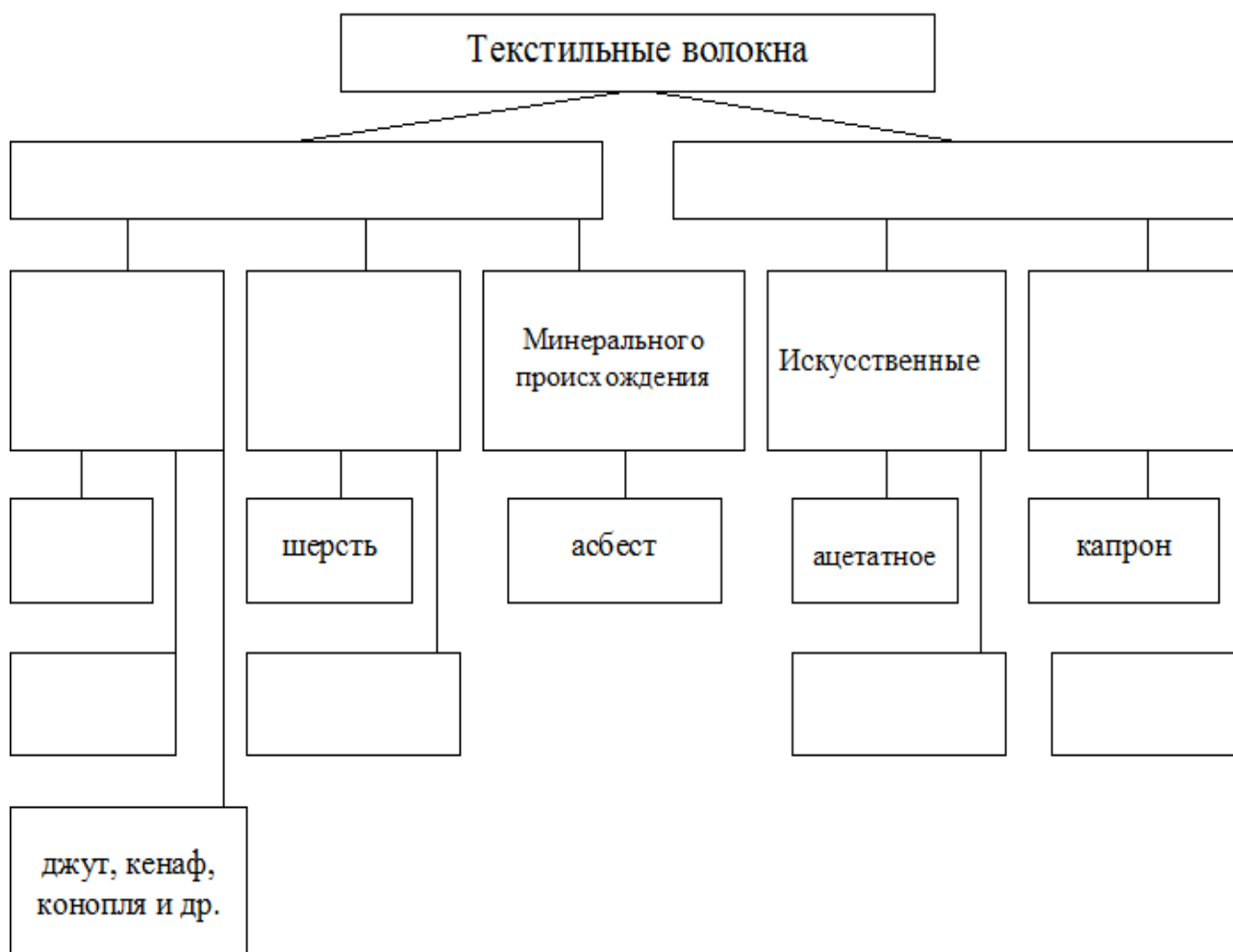
Назовите три вида этих блюд.

---

---

---

2. Допишите в схеме классификации волокон пропущенные слова.



3. Какую обработку нужно произвести с отгадкой загадки: «Без окон, без дверей, полна горница людей», чтобы использовать этот продукт для приготовления винегрета?

---

4. Какое свойство электрического тока используется в электроутюгах?

---

5. Определите длину пояса для брюк, если  $O_t = 60$  см,  $P_t = 1$  см,  $P_z$  (припуск на застёжку) = 10 см.

Расчёт длины пояса:

$D_n =$  \_\_\_\_\_

---

6. Какую иглу для швейной машины из предложенного списка лучше всего использовать для шифона?

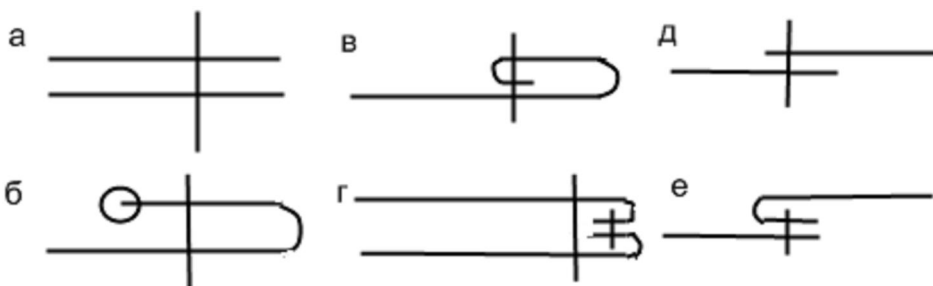
а) № 80

б) № 90




в) № 60

г) № 110





7. Выберите швы для обработки низа юбки, напишите их названия.



8. Укажите период истории Европы (эпоха Возрождения, готика, XIX век), для которого характерна такая одежда.

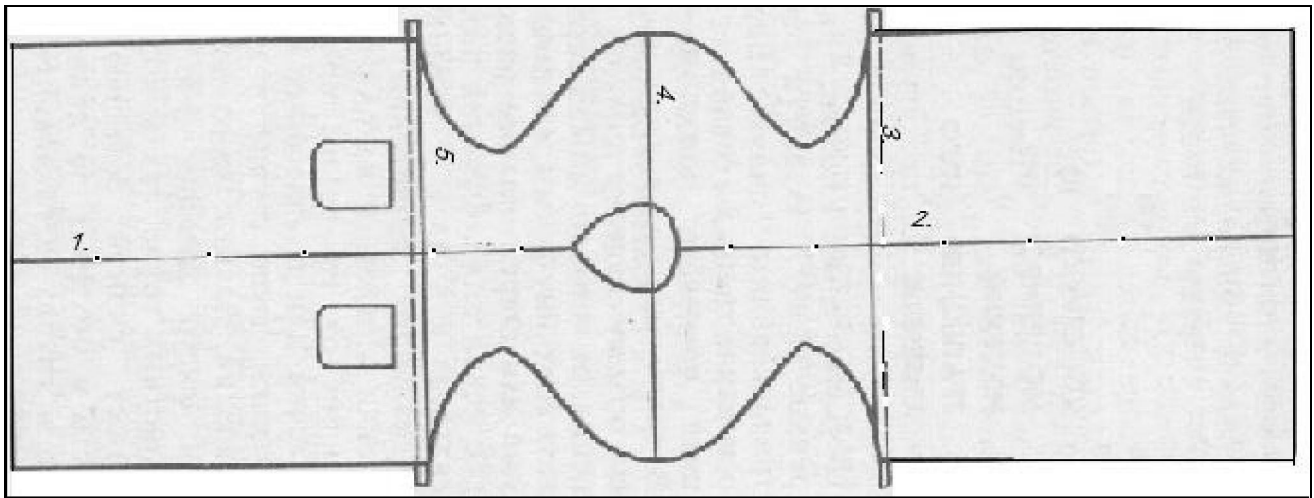
		
1	2	3

9. Определите по рисункам виды рукоделия и подпишите их.

			
1	2	3	4

**10.** Творческое задание.

**Вам предложена выкройка изделия.**



- 10.1.** Какое это изделие? Опишите предложенную модель.
- 10.2.** Какую потребность оно удовлетворяет?
- 10.3.** Подпишите отмеченные линии на чертеже (1, 2, 3, 4, 5).
- 10.4.** Выполните эскиз изделия согласно выкройке.
- 10.5.** Какие материалы можно использовать для его изготовления?