

Министерство образования и науки Российской Федерации
ВСЕРОССИЙСКАЯ ОЛИМПИАДА ШКОЛЬНИКОВ ПО ОСНОВАМ БЕЗОПАСНОСТИ
ЖИЗНЕДЕЯТЕЛЬНОСТИ
(ЗАКЛЮЧИТЕЛЬНЫЙ ЭТАП)

ТЕОРЕТИЧЕСКИЙ ТУР

средняя возрастная группа (9 классы)

Код/шифр участника

--	--	--	--	--	--	--

Уважаемый участник Олимпиады!

Вам предстоит выполнить теоретические (письменные) и тестовые задания.

Время выполнения заданий теоретического тура 4 академических часа (180 минут).

Выполнение теоретических (письменных) заданий целесообразно организовать следующим образом:

- не спеша, внимательно прочитайте задание и определите, наиболее верный и полный ответ;
- отвечая на теоретический вопрос, обдумайте и сформулируйте конкретный ответ только на поставленный вопрос;
- если Вы отвечаете на задание, связанное с заполнением таблицы или схемы, не старайтесь детализировать информацию, вписывайте только те сведения или данные, которые указаны в вопросе;
- особое внимание обратите на задания, в выполнении которых требуется выразить Ваше мнение с учетом анализа ситуации или поставленной проблемы. Внимательно и вдумчиво определите смысл вопроса и логику ответа (последовательность и точность изложения). Отвечая на вопрос, предлагайте свой вариант решения проблемы, при этом ответ должен быть кратким, но содержать необходимую информацию;
- после выполнения всех предложенных заданий еще раз удостоверьтесь в правильности выбранных Вами ответов и решений.

Выполнение тестовых заданий целесообразно организовать следующим образом:

- не спеша, внимательно прочитайте тестовое задание;
- определите, какой из предложенных вариантов ответа наиболее верный и полный;
- обведите кружком букву, соответствующую выбранному Вами ответу;
- продолжайте, таким образом, работу до завершения выполнения тестовых заданий;
- после выполнения всех предложенных заданий еще раз удостоверьтесь в правильности выбранных Вами ответов;
- если потребуется корректировка выбранного Вами варианта ответа, то неправильный вариант ответа зачеркните крестиком, а новый выбранный ответ обведите кружком.

Предупреждаем Вас, что:

- при оценке тестовых заданий, где необходимо определить один *правильный ответ*, 0 баллов выставляется как за неверный ответ, а также, если участником отмечены несколько ответов (в том числе правильный), или все ответы;
- при оценке тестовых заданий, где необходимо определить все *правильные ответы*, 0 баллов выставляется, если участником отмечено большее количество ответов, чем предусмотрено в задании (в том числе правильные ответы) или все ответы.

Задание теоретического тура считается выполненным, если Вы вовремя сдаете его членам жюри. **Максимальная оценка - 200 баллов.**

Желаем вам успеха!

Общая оценка результата выполнения участником






заданий теоретического тура

_____ баллов

Председатель жюри _____

МОДУЛЬ 1








ЗАДАНИЕ 1. Укажите стрелочками, какие грибы съедобные, а какие ядовитые и назовите их.

Название		←	Грибы	→		Название
	ЯДОВИТЫЕ ГРИБЫ					
						
						
						
						
					СЪЕДОБНЫЕ ГРИБЫ	

Оценочные баллы: максимальный – 15 баллов; фактический – _____ баллов

Подписи членов жюри _____

ЗАДАНИЕ 5. Заполните схему правил тушения возгораний в лесу.

Оценочные баллы: максимальный – **14 баллов**; фактический – _____ **баллов**

Подписи членов жюри _____

ЗАДАНИЕ 6. Ваш друг, переписывая правила управления велосипедом пропустил несколько слов. Впишите их.

Водителям мопедов и велосипедов запрещается:

- управлять мопедом (велосипедом) с неисправными _____

_____, а также без
освещения _____

_____ и в условиях недостаточной видимости;

- двигаться по проезжей части, если рядом есть _____

_____;

- двигаться по _____

_____ (кроме детей на
детских велосипедах под присмотром взрослых);

- во время движения держаться за другое _____

_____;

- ездить, не держась за _____ и снимать ноги с педалей (подножек);

- перевозить пассажиров, за исключением _____

_____, на
дополнительном сиденье, оборудованном надежно закрепленными подножками;

- буксировка мопедов и _____;

- буксировка _____ (кроме
предназначенного для эксплуатации с этими транспортными средствами).

Оценочные баллы: максимальный – 18 баллов; фактический – _____ баллов

Подписи членов жюри _____




ЗАДАНИЕ 9. Впишите в правый столбец таблицы названия (значения) знаков представленных в левом столбце таблицы





	
	
	
	
	

Оценочные баллы: максимальный – 10 баллов; фактический – _____ баллов

Подписи членов жюри _____

ЗАДАНИЕ 12. На картинках отображены правила поведения на железнодорожном транспорте. Напишите основные правила, которые Вы знаете, в соответствии с рисунком.

Оценочные баллы: максимальный – **13 баллов**; фактический – _____ **баллов**

Подписи членов жюри _____

МОДУЛЬ 2
Тестовые задания

№ п/п	Тестовые задания	Макс. балл	Кол-во набранных баллов
<i>Определите один правильный ответ</i>			
1.	Выложенная на земле буква «К» в соответствии с Международной таблицей сигналов бедствия означает: а) всё в порядке; б) нужны медикаменты; в) укажите направление следования; г) нужна пища и вода.	1	
2.	Специальный знак в виде треугольника из световозвращающихся планок красного цвета, выставляется водителем позади транспортного средства как знак аварийной остановки в случае дорожно-транспортного происшествия, вне населенного пункта на расстоянии не менее: а) 30 метров; б) 15 метров; в) 5 метров; г) 50 метров.	1	
3.	Очень сильный порывистый холодный ветер приморских районов (Италия, Югославия, Россия), приводящий в зимнее время к обледенению портовых сооружений и кораблей называется: а) бора; б) ураган; в) фён.	1	
4.	Причиной дифтерии, дизентерии и Сибирской язвы являются следующие из перечисленных возбудителей: а) паразитарные грибы; б) вирусы; в) риккетсии; г) патогенные бактерии.	1	

5.	<p>В названии огнетушителя ОУ-3, цифра «3» обозначает:</p> <p>а) вес огнетушителя в килограммах;</p> <p>б) объем огнетушителя в литрах;</p> <p>в) массу огнетушащего вещества в килограммах;</p> <p>г) объем огнетушащего вещества в литрах.</p>	1	
6.	<p>Область возникновения подземного удара в толще земной коры или верхней мантии, являющегося причиной землетрясения называется:</p> <p>а) эпицентр землетрясения;</p> <p>б) очаг землетрясения;</p> <p>в) сейсмоопасная область.</p>	1	
7.	<p>При вероятном переломе костей голени необходимо иммобилизовать:</p> <p>а) один сустав ниже перелома;</p> <p>б) два сустава, один сустав ниже перелома, другой – выше перелома;</p> <p>в) два сустава, оба выше перелома;</p> <p>г) три сустава, один сустав ниже перелома, два – выше перелома.</p>	1	
8.	<p>Колонна людей при движении по дороге в темное время суток должна обозначаться:</p> <p>а) фонарями с белым светом спереди сзади;</p> <p>б) фонарем с красным светом позади;</p> <p>в) фонарями с белым светом впереди красным позади.</p>	1	
9.	<p>Чаще всего заторные наводнения бывают на следующих реках в России:</p> <p>а) Енисей, Амур, Урал, Колыма, Индигирка;</p> <p>б) Нева, Онега, Селенга, Дон, Терек, Амур, Колыма;</p> <p>в) Северная Двина, Печора, Енисей, Обь, Иртыш, Томь.</p>	1	
10.	<p>При посадке и высадке детей из автобуса, имеющего опознавательный знак «Перевозка детей» должны быть включены:</p> <p>а) ближний свет фар;</p> <p>б) аварийная сигнализация;</p> <p>в) габаритные огни.</p>	1	

11.	Смертельно ядовитым из перечисленных растений является: а) кислица; б) горец змеиный; в) вороний глаз четырёхлистный; г) ревеня.	1	
<i>Определите все правильные ответы</i>			
12.	Согласно классификации, цунами по интенсивности бывают: а) мощные; б) слабые; в) катастрофические; г) высокие.	2	
13.	Из перечисленных явлений природы атмосферными вихрями являются: а) смерч; б) бриз; в) буря; г) торнадо.	2	
14.	Назовите, какие растения можно использовать, чтобы заварить чай: а) ясенец; б) листья малины; в) волчьи ягоды; г) листья вишни.	2	
15.	Причинами изменения теплового баланса в атмосфере Земли являются: а) ураганы, бури, смерчи; б) загрязнение атмосферы мелкодисперсной пылью, которая остается в верхних слоях, образуя тепловые облака; в) техногенные аварии; г) энергия (теплота), выделяемая в результате хозяйственной деятельности человека.	3	

16.	Отравление бытовым газом в квартире (доме) может произойти в результате: а) полного сгорания газа; б) неполного сгорания газа; в) повышенного содержания кислорода в воздухе; г) утечки газа.	2	
17.	По интенсивности (силе) пожары бывают: а) беглые; б) слабые; в) средние; г) сильные; д) гигантские; е) устойчивые.	3	
18.	Из перечисленных признаков характерны для отравления угарным газом в тяжелой форме следующие: а) покраснение слизистых оболочек; б) потеря сознания; в) судороги; г) сужение зрачков; д) паралич.	3	
19.	К основным источникам загрязнения атмосферы относят: а) биосферные; б) антропогенные; в) естественные; г) искусственные.	2	
20.	Из перечисленных веществ огнеопасными являются: а) хлорэтил; б) скипидар; в) клей ПВА; д) воск.	2	
21.	Оказывать первую помощь из нижеперечисленных лиц обязан: а) водитель личного автомобиля; б) пожарный; в) полицейский; г) спасатель; д) кассир в магазине.	3	
	Количество баллов	<i>max 35</i>	

Подписи членов жюри _____