

ВСЕРОССИЙСКАЯ ОЛИМПИАДА ШКОЛЬНИКОВ

ПО АСТРОНОМИИ 2016–2017 уч. г.

МУНИЦИПАЛЬНЫЙ ЭТАП. 8–9 КЛАССЫ

Задание 1

На фотографиях представлены различные небесные явления. Укажите, что за явление изображено на каждом снимке, имея в виду, что изображения не перевернутые, а наблюдения проводились из средних широт Северного полушария Земли.

1



2



3



4




5



6



7




8




9



10



11



12



Максимум за задание – 12 баллов.

Всероссийская олимпиада школьников по астрономии 2016–2017 уч. г.
Муниципальный этап.

Иллюстрации к заданию 1.

1



2



3



4



5



6




7

8

9


10



11



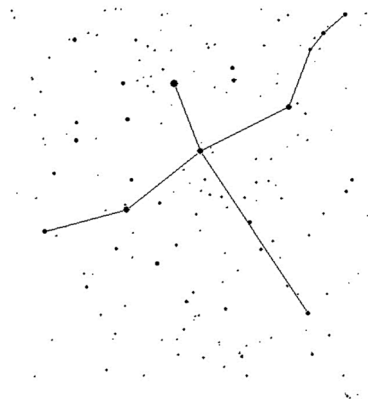
12



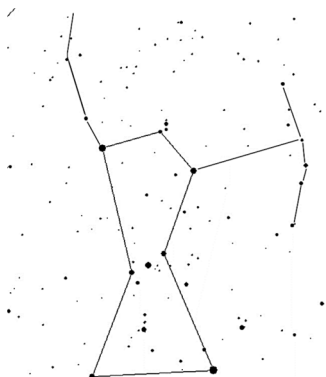
Задание 2

На рисунках представлены фигуры нескольких созвездий. Под каждой фигурой указан её номер. Укажите в ответе название каждого созвездия (выпишите пары «номер рисунка – название на русском языке»).

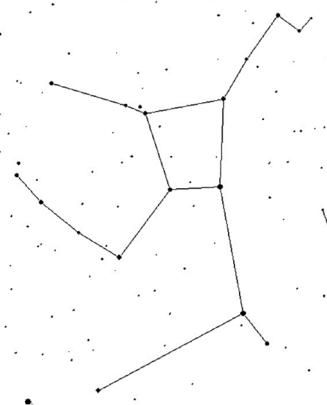
1



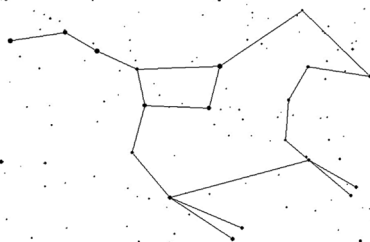
2



3



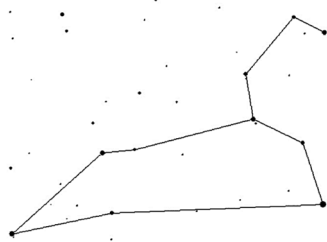
4



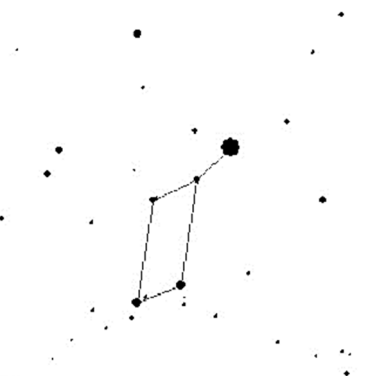
5



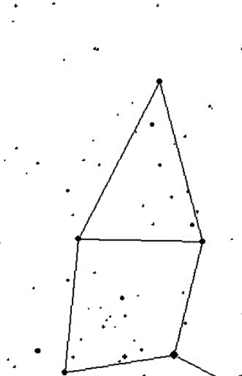
6



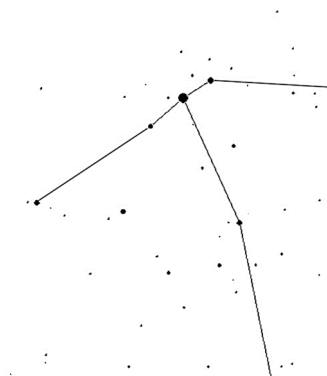
7



8



9



Максимум за задание – 9 баллов.

Задание 3

Нарисуйте верную последовательность смены лунных фаз (достаточно нарисовать основные фазы) при наблюдении из средних широт Северного полушария Земли. Подпишите их названия. Рисунок начните с полнолуния, не освещённые Солнцем части Луны заштриховывайте.

Максимум за задание – 5 баллов.

Задание 4

Марс, находящийся в восточной квадратуре, и Луна наблюдаются в соединении. Какова фаза Луны в этот момент? Ответ объясните, приведите рисунок, на котором изобразите описываемую ситуацию.

Максимум за задание – 5 баллов.

Задание 5

С какой средней скоростью движется граница день/ночь по поверхности Луны ($R = 1738$ км) в районе её экватора? Ответ выразите в км/ч и округлите до целого. Для справки: синодический период обращения Луны (период смены лунных фаз) примерно равен 29,5 суток, сидерический период обращения (период осевого вращения Луны) примерно равен 27,3 суток.

Максимум за задание – 6 баллов.

Задание 6

Есть ли на Земле такие регионы (если да, то где они находятся), где в некоторый момент времени все зодиакальные созвездия находятся на горизонте?

Максимум за задание – 6 баллов.

Задание 7

Люди запустили на низкую орбиту Луны (высота 50 км) станцию. С каким интервалом времени мы будем её видеть то с одного края лунного диска, то с другого? Масса Луны $M=7,35 \times 10^{22}$ кг, радиус Луны $R=1738$ км, гравитационная постоянная $G=6.67 \times 10^{-11}$ Н \times м² / кг².

Максимум за задание – 6 баллов.

Задание 8

Предположим, учёные создали неподвижный Большой полярный телескоп для наблюдения суточного вращения звёзд непосредственно вблизи полюса мира, направив его трубу точно на северный полюс мира. Точно в центре поля зрения они обнаружили Очень Интересный Внегалактический Источник. Поле зрения этого телескопа составляет 10 угловых минут. Через сколько лет учёные не смогут больше наблюдать этот Источник с помощью этого телескопа?

Максимум за задание – 8 баллов.

Всего за работу – 57 баллов.

Выполняйте задания на бланке работы!