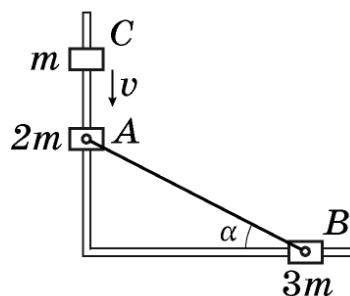
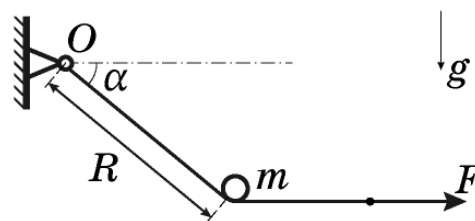


11 класс

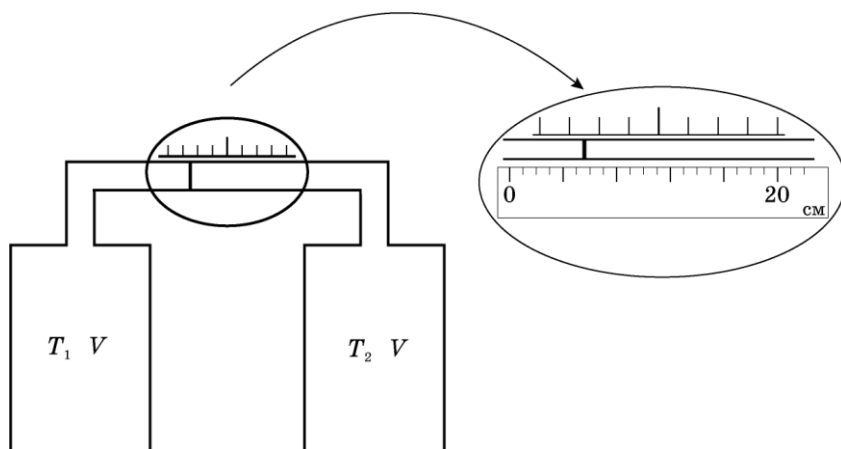
Задача 1. Три муфты. Три муфты (A , B и C) массы которых равны $2m$, $3m$ и m , соответственно, могут скользить без трения по двум горизонтальным направляющим, пересекающимся под прямым углом. Муфты A и B с помощью шарниров соединены с лёгким, жёстким, неупругим стержнем так, что угол между стержнем и направляющей, на которой надета муфта B , равен α . Между муфтой C , движущейся со скоростью v , и покоящейся муфтой A , происходит неупругое столкновение. Определите скорости муфт сразу после соударения.



Задача 2. Отрыв цилиндра. Тонкая лёгкая нерастяжимая лента прикреплена к стене в точке O (см. рис.). На ленте удерживают небольшой цилиндр массой m так, что наклонный участок ленты длины R образует угол α с горизонталью. К свободному концу ленты приложили силу F и цилиндр отпустили. Найдите его скорость в момент отрыва от ленты. Сила F все время направлена горизонтально и постоянна по величине. Считайте, что трения нет, ускорение свободного падения равно g .

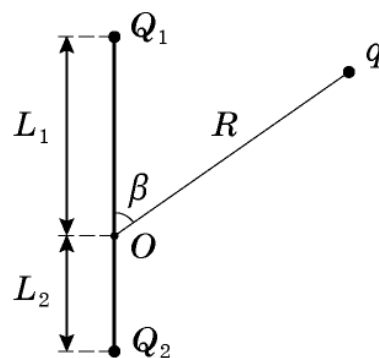


Задача 3. Дифференциальный термометр. Два одинаковых сосуда с объемами $V = 1,0$ л каждый соединены трубкой длиной $L = 300$ см и поперечным сечением $S = 1$ см² с небольшим поршнем внутри, который может скользить в ней без трения (см. рис.). Когда температуры газов в сосудах равны $T_0 = 300$ К поршень располагается посередине трубки. При незначительных изменениях температур в сосудах, поршень смещается вдоль шкалы, нанесенной рядом. Перерисовав в тетрадь, проградуируйте эту шкалу (оцифруйте ее деления в градусах Кельвина) чтобы по ней можно было считывать разность температур $\Delta T = T_1 - T_2$ (с учетом знака!). Будет ли эта шкала линейной? На выносном рисунке рядом со шкалой помещена линейка.



18 января, на портале <http://abitunet/vseros> будет проведён онлайн-разбор решений задач теоретического тура. Начало разбора (по московскому времени): 7 класс – 11.00; 8 класс – 12.00; 9 класс – 13.00; 10 класс – 14.30; 11 класс – 16.00. Для участия в разборе необходимо зарегистрироваться на портале <http://abitunet/vseros>

Задача 4. И так можно измерять. В точке O к стержню привязана непроводящая нить длиной R с зарядом q на конце. Известный эталонный заряд Q_2 и измеряемый заряд Q_1 установлены на расстояниях L_2 и L_1 от точки O . Все заряды одного знака и могут считаться точечными.



- Найдите величину заряда Q_1 , если в состоянии равновесия нить отклонена на угол β от отрезка, соединяющего заряды Q_2 и Q_1 .
- Какой величины заряды Q_1 можно измерить таким способом в случае, если $L_1 = 2L_2$, $R = 3L_2$?

Задача 5. Составной конденсатор. Электрическая цепь состоит из катушки индуктивностью L , трёх пластин (1, 2, 3) площадью S и ключа. Расстояние между пластинами равны d и $2d$ (рис. 1). Внешние пластины имеют заряды q и $-q$.

- 1) Определите максимальную силу тока через катушку после замыкания ключа.
- 2) Определите максимальную силу тока через катушку после замыкания ключа в случае, если половина пространства между пластинами 1 и 2 заполнена диэлектриком с проницаемостью ε (рис. 2).

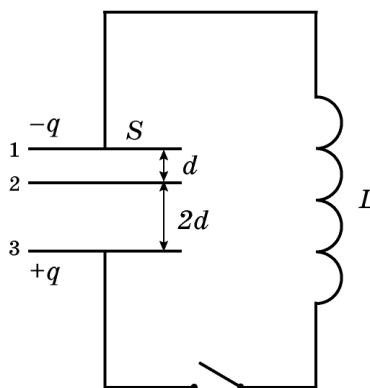


Рис. 1

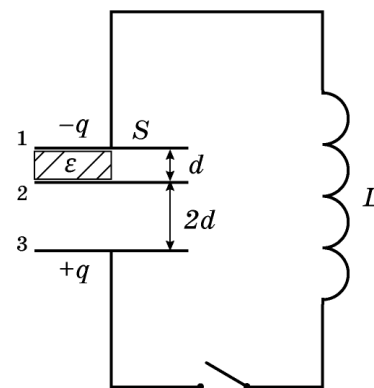


Рис. 2