

**ВСЕРОССИЙСКАЯ ОЛИМПИАДА ШКОЛЬНИКОВ  
ПО ОБЖ 2018–2019 уч. г.  
ШКОЛЬНЫЙ ЭТАП**

**7–8 классы**

*Уважаемый участник!*

При выполнении заданий Вам предстоит выполнить определённую работу, которую лучше организовать следующим образом:

- внимательно прочитайте задание;
- если Вы отвечаете на теоретический вопрос или решаете ситуационную задачу, обдумайте и сформулируйте конкретный ответ (ответ должен быть кратким, и его содержание следует вписать в отведённое поле; пишите чётко и разборчиво);
- при ответе на тестовые задания определите верный ответ и обведите кружком букву (буквы), соответствующую(-ие) выбранному Вами ответу.

За каждый правильный ответ Вы можете получить определённое членами жюри количество баллов, не выше указанной максимальной оценки.


Сумма набранных баллов за все решённые вопросы в двух форматах – итог Вашей работы. Максимальное количество баллов – 100.

Задания считаются выполненными, если Вы вовремя сдали их членам жюри.

*Желаем успеха!*

### Тестовые задания

**Определите один правильный ответ.**  
За правильный ответ начисляется 2 балла.

- 1. Движение организованной пешеходной колонны по проезжей части дороги разрешается только по направлению движения транспортных средств по правой стороне не более чем по**
  - а) два человека в ряд
  - б) три человека в ряд
  - в) четыре человека в ряд
  - г) пять человек в ряд
- 2. Что означает следующий символ, используемый в международной кодовой таблице сигналов бедствия?** 
  - а) нужны медикаменты
  - б) нужны оружие и боеприпасы
  - в) нужны компас и карты
  - г) нужны продовольствие и вода
- 3. Сколько классов разрушений включает специальная шкала, разработанная для оценки разрушительной силы смерчей?**
  - а) 4 класса
  - б) 5 классов
  - в) 6 классов
  - г) 7 классов
- 4. Объясните цель дезактивации.**
  - а) удаление или снижение радиоактивного загрязнения с какой-либо поверхности
  - б) нейтрализация отравляющих веществ до нетоксичных продуктов и удаление их с какой-либо поверхности
  - в) уничтожение биологических средств во внешней среде и на какой-либо поверхности
  - г) измерение уровня радиоактивного загрязнения какой-либо поверхности
- 5. Оцените силу землетрясения в 7 баллов по шкале Меркалли.**
  - а) в домах раскачиваются висящие предметы, скрипят полы, дребезжат стёкла, осыпается побелка
  - б) значительные повреждения некоторых зданий, трещины в штукатурке, отламываются её отдельные куски, тонкие трещины в стенах
  - в) лёгкое повреждение некоторых зданий, тонкие трещины в штукатурке
  - г) разрушения в зданиях, большие трещины в стенах, падают карнизы, дымовые трубы

6. **Определите комплект средств защиты органов дыхания, который обеспечит наилучшую защиту от окиси углерода.**
- а) ГП-7
  - б) ГП-7 + ДПГ-3
  - в) ГП-5 + ДПГ-1
  - г) ПДФ-2Ш
7. **С какого года отмечается День солидарности в борьбе с терроризмом?**
- а) 2001
  - б) 2004
  - в) 1999
  - г) 2011
8. **Какое негативное воздействие оказывает никотин на организм человека?**
- а) канцерогенное
  - б) нарушение способности эритроцитов переносить кислород
  - в) повреждение печени
  - г) в малых дозах возбуждает, а в больших дозах тормозит деятельность клеток центральной нервной системы
9. **Какое из перечисленных кровотечений в течение 3–5 минут приведёт к кровопотере, угрожающей жизни пострадавшего?**
- а) кровотечение из вен нижней трети предплечья
  - б) кровотечение из бедренной артерии
  - в) кровотечение из артерий стопы
  - г) носовое кровотечение
10. **Какой процент по отношению к площади общей поверхности тела составляет ладонь человека?**
- а) 10%
  - б) 5%
  - в) 3%
  - г) 1%

**Определите все правильные ответы.**

За каждый правильный ответ начисляется 2 балла.

11. **Что относят к опасным факторам пожара?**
  - а) пламя и искры
  - б) снижение видимости в дыму
  - в) опасные факторы взрыва, происшедшего вследствие пожара
  - г) воздействие огнетушащих веществ
  - д) обрушение зданий и сооружений
  
12. **По степени воздействия на организм вредные вещества бывают**
  - а) не опасные
  - б) малоопасные
  - в) высокотоксичные
  - г) умеренно опасные
  - д) смертельно опасные
  
13. **К спасательному инвентарю на оборудованном пляже относят**
  - а) спасательный жилет
  - б) спасательную шлюпку
  - в) спасательную лодку
  - г) спасательные шары
  - д) спасательный плот
  
14. **Выделите действия, которые целесообразно выполнить при подготовке к землетрясению.**
  - а) плотно разместить тяжёлые предметы на антресолях
  - б) приблизить кровати к наружным стенам
  - в) документы и рюкзак с набором вещей хранить в одном месте
  - г) отодвинуть мебель от стен
  - д) договориться о месте сбора после землетрясения
  
15. **Укажите основные признаки приближения бури.**
  - а) быстро увеличивается атмосферное давление
  - б) неожиданно прекращается ветер и образуется затишье
  - в) резко падает атмосферное давление
  - г) усиливается скорость ветра
  - д) солнце скрывается в тучах

16. **Какие возможны виды эвакуации по длительности проведения?**  
а) временная (с возвращением на место жительства в течение нескольких суток)  
б) продолжительная (на срок более одного месяца)  
в) годичная (на срок 12 месяцев)  
г) кратковременная (на срок 1–3 дня)  
д) сезонная (на срок от 3 до 6 месяцев)
17. **Слово «террор» в переводе (с латыни) означает**  
а) страх  
б) паника  
в) крайность  
г) ужас  
д) преступление
18. **Какие показатели самоконтроля, применяемые для профилактики переутомления, относятся к субъективным?**  
а) частота сердечных сокращений  
б) самочувствие  
в) сон  
г) частота дыхания  
д) величина артериального давления
19. **Какие из перечисленных средств входят в состав аптечки первой помощи (автомобильной)?**  
а) кожный антисептик (хлоргексидин)  
б) шина эластичная  
в) жгут кровоостанавливающий  
г) медицинские перчатки  
д) обезболивающее средство (анальгин)
20. **Какие признаки характерны для ушиба конечности?**  
а) отёк, гематома  
б) деформация конечности  
в) укорочение конечности  
г) нарушение функции конечности  
д) патологическая подвижность в месте повреждения






**Максимум за задания 60 баллов.**

### Теоретические задания

#### Задание 1

Впишите в таблицу смысловое значение знаков сервиса.

Ответ:

Максимум за задание 10 баллов.

#### Задание 2

Разработайте памятку из пяти пунктов по подготовке к эвакуации.

---

---

---

---

---

---

---

---

---

---

Максимум за задание 10 баллов.

### Задание 3

Укажите какие террористические акты являются наиболее опасными.

---

---

---

---

---

---

---

---

---

---

---

---

**Максимум за задание 10 баллов.**

### Задание 4

Термический ожог – повреждение тканей, возникшее вследствие местного воздействия высокой температуры.

Опишите мероприятия первой помощи пострадавшему с термическими ожогами, полученными во время пожара вследствие горения одежды. Локализация ожогов – преимущественно задняя поверхность туловища. Одежда уже не горит, сквозь остатки одежды видна мокнущая поверхность кожи (вскрывшиеся пузыри). Пострадавший в сознании.

---

---

---

---

---

---

---

---

---

---

---

---

**Максимум за задание 10 баллов.**

**Максимум за работу 100 баллов.**