

ВСЕРОССИЙСКАЯ ОЛИМПИАДА ШКОЛЬНИКОВ  
ПО ИСТОРИИ 2018–2019 уч. г.  
ШКОЛЬНЫЙ ЭТАП

7 класс

***Уважаемый участник!***

При выполнении работы внимательно читайте текст заданий.

Содержание ответа вписывайте в отведённые поля, записи ведите чётко и разборчиво.

За каждый правильный ответ Вы можете получить определённое членами жюри количество баллов, не выше указанной максимальной оценки.

Сумма набранных баллов за все решённые вопросы – итог Вашей работы. Максимальное количество баллов – 75.

Задания считаются выполненными, если Вы вовремя сдали их членам жюри.

Время на выполнение работы – 90 минут.

***Желаем успеха!***

**В заданиях 1–3 дайте один верный ответ. Ответ внесите в таблицу.**

**1. В каком году произошли описанные события?**

«Хочу вам, братья, поведать о новой победе в битве, как на Дону случилась брань великого князя Дмитрия Ивановича и всех православных христиан с поганым Мамаем и с безбожными язычниками. И возвысил Бог род христианский, а поганных унизил и посрамил их дикость, как и в старые времена помог Гедеону над мадиамлянами и преславному Моисею над фараоном...»

- 1) 1223
- 2) 1238
- 3) 1380
- 4) 1480

**2. Кто автор представленного письма?**

«Вы, король Англии, и вы, герцог Бедфордский, именующий себя регентом французского королевства, окажите справедливость королю неба: отдайте деве, посланной сюда Богом, небесным королём, ключи всех добрых городов, которые вы взяли и подвергли насилию во Франции. Она пришла сюда от Бога, чтобы потребовать обратно королевскую кровь...»

- 1) Жанна д'Арк
- 2) Софья Палеолог
- 3) Алиенора Аквитанская
- 4) Матильда Каносская

**3. Какое из перечисленных сооружений построено в эпоху «Каролингского возрождения»?**

- 1) Собор святого Петра в Риме
- 2) Палатинская капелла в Аахене
- 3) Собор святого Стефана в Вене
- 4) Собор Парижской Богоматери

**Ответы:**

1	2	3

**Максимум за задания – 6 баллов.**

**В заданиях 4–6 выберите верные ответы. Ответы внесите в таблицу.**

**4.** Кто из указанных исторических деятелей был правителем Древнего Египта?

- 1) Птолемей I
- 2) Гильгамеш
- 3) Клеопатра VII Филопатор
- 4) Ирод I
- 5) Дарий I
- 6) Тутмос III

**5.** Какие термины из указанных использовались в «Русской правде»?

- 1) вергельд
- 2) огнищанин
- 3) мещанин
- 4) смерд
- 5) сокольничий
- 6) вира

**6.** Какие понятия связаны с историей Англии до XVI века?

- 1) «Великая хартия вольностей»
- 2) Салическая правда
- 3) королевство Вестготов
- 4) англиканство
- 5) Адрианов вал
- 6) битва при Гастингсе

**Ответы:**

4	5	6

**Максимум за задания – 9 баллов.**

7. Что с исторической точки зрения объединяет перечисленные в ряду элементы? Дайте максимально точный ответ.

7.1. 1463, 1478, 1485, 1510.

7.2. Иларион Русин, Пётр, Алексей, Исидор, Макарий.

Ответ: 7.1.

---

7.2.

---

**Максимум за задание – 6 баллов.**

8. Дайте краткое обоснование ряда (что объединяет перечисленные элементы с исторической точки зрения) и укажите, какой из элементов является лишним по данному основанию.

8.1. Тамерлан, Узбек, Джанибек, Тохтамыш

8.2. Архангельский собор, церковь Ризоположения, Успенский собор, Дмитриевский собор

Ответ: 8.1.

---

8.2.

---

**Максимум за задание – 8 баллов.**

9. Расположите в хронологической последовательности перечисленные события.

А) окончание войны Алой и Белой розы

Б) Верденский раздел империи Карла Великого

В) строительство собора святой Софии в Киеве

Г) смерть Симеона Гордого от чумы

Д) победа Хлодвига I в битве при Суассоне

Е) убийство Михаила Черниговского в Орде

Ответ:

1	2	3	4	5	6

**Максимум за задание – 5 баллов.**

**10.** Определите пропущенные в тексте названия, слова, имена, даты, обозначенные порядковыми номерами. При необходимости при порядковых номерах даются пояснения о характере требуемой вставки. Необходимые вставки впишите под соответствующими номерами в помещённую ниже таблицу.

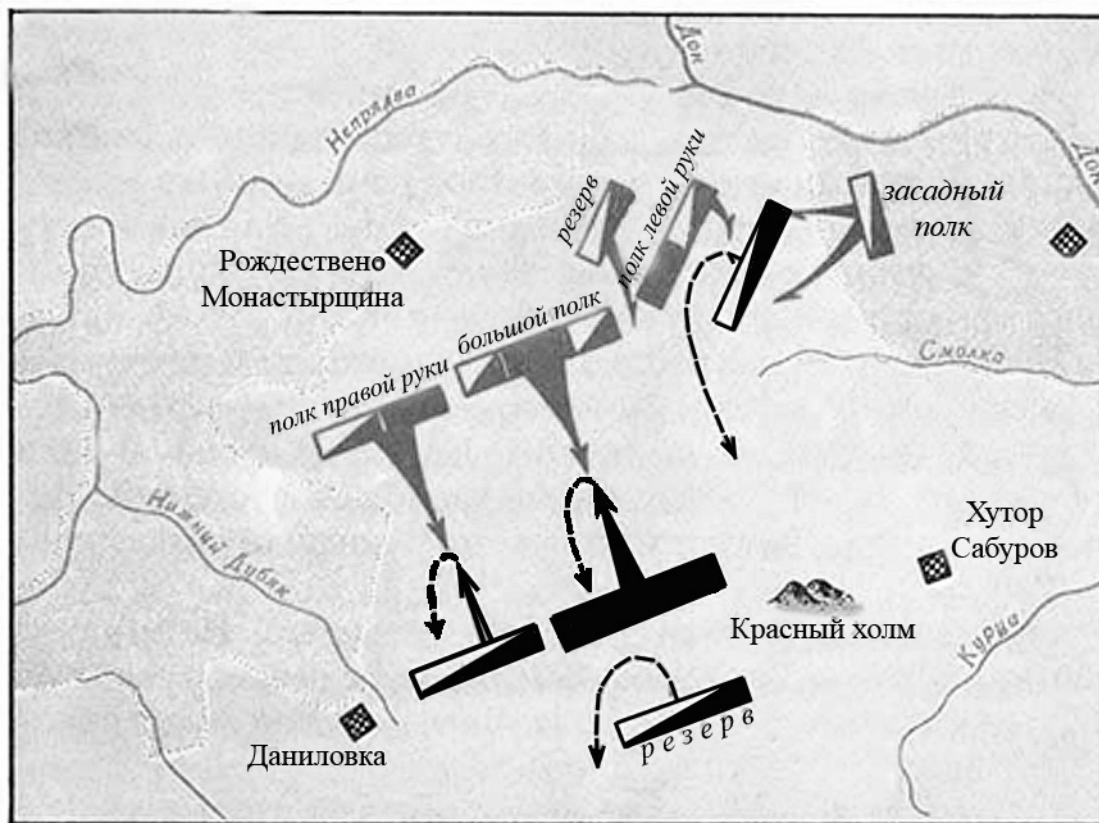
«События, известные как **(1 – устойчивое название событий)**, начались после смерти сына **(2 – имя князя)** – Василия I в 1425 году. Унаследовавший отцовский престол **(3 – имя наследника)** столкнулся с могущественным соперником в борьбе за власть – своим дядей **(4 – имя дяди)**, правившим в городе **(5 – название города)** и имевшим притязание на московский великокняжеский престол на основании завещания князя **(2)**. Судьбоносный же конфликт случился в **(6 – год)** на семейном мероприятии – свадьбе **(7 – имя жениха)**. Мать великого князя **(3)** и жена Василия I – **(8 – имя и отчество)** обвинила жениха в краже и сорвала с него золотой пояс».

**Ответ:**

<b>Номер</b>	<b>Вставка</b>
1	
2	
3	
4	
5	
6	
7	
8	

**Максимум за задание – 8 баллов.**

**11.** Внимательно рассмотрите схему и выполните задания.



**11.1.** Назовите битву, схема которой представлена выше. Укажите год, когда она произошла.

**Ответ:** \_\_\_\_\_

**11.2.** Назовите государство, войска которого отмечены чёрными прямоугольниками, а передвижения – чёрными стрелочками. Укажите полководца, руководившего этими войсками в битве, события которой представлены на схеме.

**Ответ:** \_\_\_\_\_

**11.3.** Назовите два военных столкновения с этим же государством, которые произошли при князе, командовавшем войсками, обозначенными серыми прямоугольниками и стрелочками. Укажите годы этих столкновений.

**Ответ:** \_\_\_\_\_

\_\_\_\_\_

\_\_\_\_\_

\_\_\_\_\_





**11.4.** Назовите любое русское средневековое литературное произведение, в котором отражены события, представленные на схеме.


**Ответ:** \_\_\_\_\_

---

**Максимум за задание – 11 баллов.**

**12.** Перед Вами изображения знаменитых памятников архитектуры. Заполните таблицу: во вторую колонку таблицы запишите название изображённого архитектурного памятника, в третью колонку запишите название государства, на территории которого этот памятник сегодня располагается.

1 	2 
3 	4 



**Ответ:**

№ памятника	Название	Страна, в которой он расположен
1		
2		
3		
4		
5		
6		

**Максимум за задание – 12 баллов.**

**13.** Ниже приводятся отрывки из исторических источников, повествующих о двух известных исторических событиях или непосредственно связанных с ними. Определите, о каких событиях идёт в них речь. Укажите год(-ы), когда произошло каждое из событий, и конфликтующие стороны. Назовите победившую сторону в каждом указанном Вами конфликте. Ответ внесите в таблицу.

1.

А) И услышал великий князь Юрий Ингорович об убийстве любимого сына своего князя Фёдора, других князей, людей посольских многих, убитых по приказу безбожного царя. И начал собирать войско и расставлять полки. Князь великий Юрий Ингорович, видя братьев своих, и бояр, и воевод, храбро и мужественно гарцюющих <верхом>, воздел руки к небу и со слезами сказал: «Огради нас от врагов наших, Боже, и от восстающих на нас избави нас, и спаси нас от сонма лукавствующих и от множества творящих беззаконие. Да будет путь их тёмн и скользок!»

Б) В тот же год зимой пришли из восточных стран на [название] землю лесом безбожные враги и начали завоёвывать [название] землю, и пленили её до Пронска, и взяли всё [название] княжество, и сожгли город, и князя их



убили. Много святых церквей предали они огню, и монастыри сожгли, и сёла, и взяли отовсюду немалую добычу; а потом враги пошли к Коломне.

2.

А) Многие же из них: прежние посадники, и тысяцкие, и знатные люди, а также и люди житьи говорили им: «Нельзя, братья, тому так быть, как вы говорите: к королю нам перейти и архиепископа поставить от его митрополита, католика. Ведь изначала вотчина мы великих князей русских, от первого великого князя нашего Рюрика, которого по воле своей взяла земля наша из варягов князем себе вместе с двумя его братьями. А после и правнук его, князь великий Владимир, крестился и все земли наши крестил: русскую, и нашу словенскую, и землю мери, и кривичскую, и весь, то есть белозерскую, и муромскую, и вятичей, и остальных. И от святого того великого князя Владимира вплоть до господина нашего великого князя Ивана Васильевича за латинянами мы не бывали и архиепископа от них себе не поставляли.

Б) В то же время князь великий Иван Васильевич послал войско своё за Волк, и князь Василий Васильевич и воевода заволоцкий Василий Никифорович вышли навстречу со своим войском и с жителями Заволочья и Печеры. И сошлись они в ратном бою, и пало многое множество с обеих сторон, и ополчение выбилось из сил, и заволоцких порубили, и двинян порубили тоже. А князь великий хотел пойти на Новгород. И поехал избранный на владычество архиепископ Феофил с посадниками новгородскими и заключил мир с князем великим; и дали князю великому Ивану Васильевичу новгородцы пятнадцать с половиною тысяч рублей, и целовали новгородцы крест князю великому в том, что королю новгородцам не передаваться и князей из Литвы не принимать.

**Ответ:**

<b>Группа</b>	<b>Событие</b>	<b>Год</b>	<b>Стороны</b>	<b>Победитель</b>
<b>1</b>				
<b>2</b>				

**Максимум за задание – 10 баллов.**

**Максимум за работу – 75 баллов.**