

ВСЕРОССИЙСКАЯ ОЛИМПИАДА ШКОЛЬНИКОВ

ПО ОБЩЕСТВОЗНАНИЮ. 2018–2019 уч. г.

ШКОЛЬНЫЙ ЭТАП

5 класс

Уважаемый участник!

При выполнении работы внимательно читайте текст заданий.

Содержание ответа вписывайте в отведённые поля, запись ведите чётко и разборчиво.

За каждый правильный ответ Вы можете получить определённое членами жюри количество баллов, не выше указанной максимальной оценки.




Сумма набранных баллов за все решённые вопросы – итог Вашей работы. Максимальное количество баллов – 35.




Задания считаются выполненными, если Вы вовремя сдали их членам жюри.

Время на выполнение работы – 60 минут.

Желаем успеха!

1. Рассмотрите иллюстрации и выполните задание.

1	 A black and white line drawing of two young boys playing tag. One boy is running to the left, and the other is chasing him from behind with his arms outstretched. They are both wearing short-sleeved shirts and shorts.
2	 A color illustration of a woman in a white headscarf and apron milking a cow. She is pouring milk from a large metal bucket into a can. In the background, another woman is visible, and there are cows in a field. The text "Хороший уход - высокие удои!" is written in the upper left corner of the illustration.
3	 A color photograph of a young girl with blonde hair in pigtails, wearing a pink shirt and blue overalls. She is smiling and holding a baby doll dressed in a pink outfit. The background shows a room with a bed and a window with yellow curtains.

4	
5	
6	





Перед Вами изображения, иллюстрирующие два вида деятельности. Запишите в таблицу ответов названия представленных видов деятельности. Распределите цифровые обозначения иллюстраций в две колонки в зависимости от того, какой вид деятельности иллюстрирует изображённая ситуация.

Ответ:

Вид деятельности		
Цифровое обозначение иллюстрации		

Максимум за задание – 6 баллов.

2. Рассмотрите ряд изображений.

А	Б
	
В	Г
	

Что объединяет ситуации (все, за исключением одной), представленные на изображениях? Дайте краткое обоснование ряда (что объединяет изображённые ситуации). Укажите, какой из элементов является лишним по данному основанию.

Ответ:

Максимум за задание – 5 баллов

3. Прочтите отрывок из сказки и выполните задания.

«Пришла она в самую глушь, в самую чащу. Видит – стоит избушка. Постучала Машенька в дверь – не отвечают. Толкнула она дверь – дверь и открылась.

Вошла Машенька в избушку, села у окна на лавочку. Села и думает: «Кто же здесь живёт? Почему никого не видно?..» А в той избушке жил большущий медведь. Только его тогда дома не было: он по лесу ходил. Вернулся вечером медведь, увидел Машеньку, обрадовался.

– Ага, – говорит, – теперь не отпущу тебя! Будешь у меня жить. Будешь печку топить, будешь кашу варить, меня кашей кормить.

Потужила Маша, погоревала, да ничего не поделаешь. Стала она жить у медведя в избушке. Медведь на целый день уйдёт в лес, а Машеньке наказывает никуда без него из избушки не выходить.

– А если уйдёшь, – говорит, – всё равно поймаю и тогда уж съем!»

Чем действия и слова медведя нарушают права Маши или угрожают нарушить? Укажите два нарушения.

Ответ:

Максимум за задание – 4 балла.

4. Рассмотрите изображения и выполните задания.

	
Государственная печать Ивана III	Государственный герб России

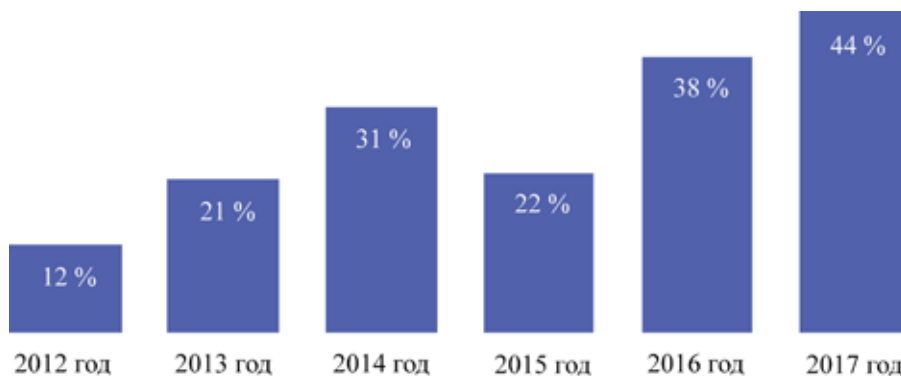
Сравните изображение современного герба России с изображением на печати Ивана III. В чём сходство? Что изменилось? Запишите не менее двух черт сходства и не менее двух черт отличия.

Ответ: _____

Максимум за задание – 8 баллов.

5. Центром изучения общественного мнения была проведена серия социологических опросов граждан страны Z. Респондентам (участникам опроса) было предложено ответить на вопрос: «Довольны ли Вы своим материальным положением?»

Процент ответивших на вопрос утвердительно



5.1. Как изменилось мнение граждан по данному вопросу в период с года, в котором был проведён первый опрос, до года, в котором был проведён последний опрос?

5.2. Подтвердите свой вывод, опираясь на приведённые результаты опроса.

5.3. Какие факторы могли способствовать такому изменению мнения граждан? Назовите три фактора.

Ответ: **5.1.**

5.2.

5.3.

Максимум за задание – 12 баллов.

Максимум за работу – 35 баллов.