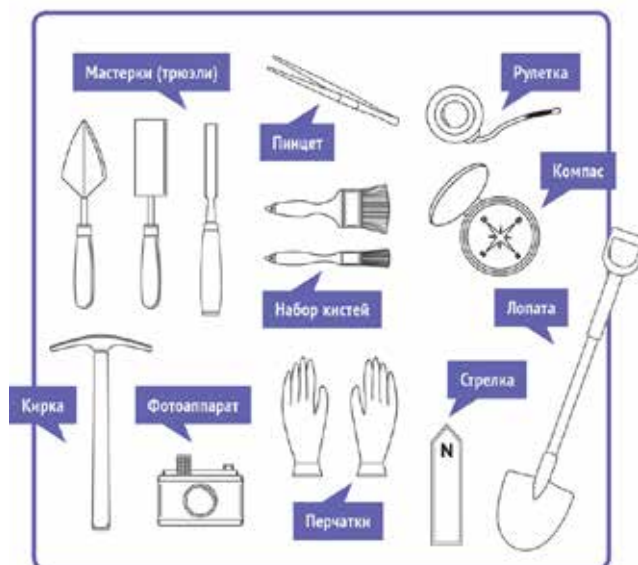


ВСЕРОССИЙСКАЯ ОЛИМПИАДА ШКОЛЬНИКОВ
ПО ИСТОРИИ 2019–2020 уч. г.
ШКОЛЬНЫЙ ЭТАП
5 класс

Ответы и критерии оценивания

1. Перед вами изображения инструментов. Назовите профессию учёного, использующего их в своей работе.



Ответ. Археолог (2 балла).
Максимум за задание – 2 балла.

2. Верны ли следующие утверждения о представленном изображении («да» – «нет»)? Ответы внесите в таблицу.

1. Учёные, к которым относится изображённый на иллюстрации человек, занимаются поиском останков первобытных людей.
2. Учёные – коллеги изображённого человека изучают только первобытную эпоху.
3. На заднем фоне изображено жилище первобытного человека.









Ответ.

1	2	3
да	нет	нет

По 2 балла за каждый верный ответ. Всего 6 баллов.
Максимум за задание – 6 баллов.

3. Люди, жившие много веков назад, видели и изображали окружающий мир своеобразно. Задача историка – расшифровать то, что они создали. Перед вами изображения животных, сделанные в эпоху древнего мира и средних веков. Вам необходимо узнать изображённое животное и внести ответ (название животного) в таблицу.

1		2	
3		4	
5		6	

Ответ.

1	Жираф (жирафы)
2	Слон
3	Обезьяна (мартышка)
4	Бык (корова/буйвол)
5	Овца
6	Кролик (заяц)

**По 2 балла за каждое верно указанное животное.
Максимум за задание – 12 баллов.**

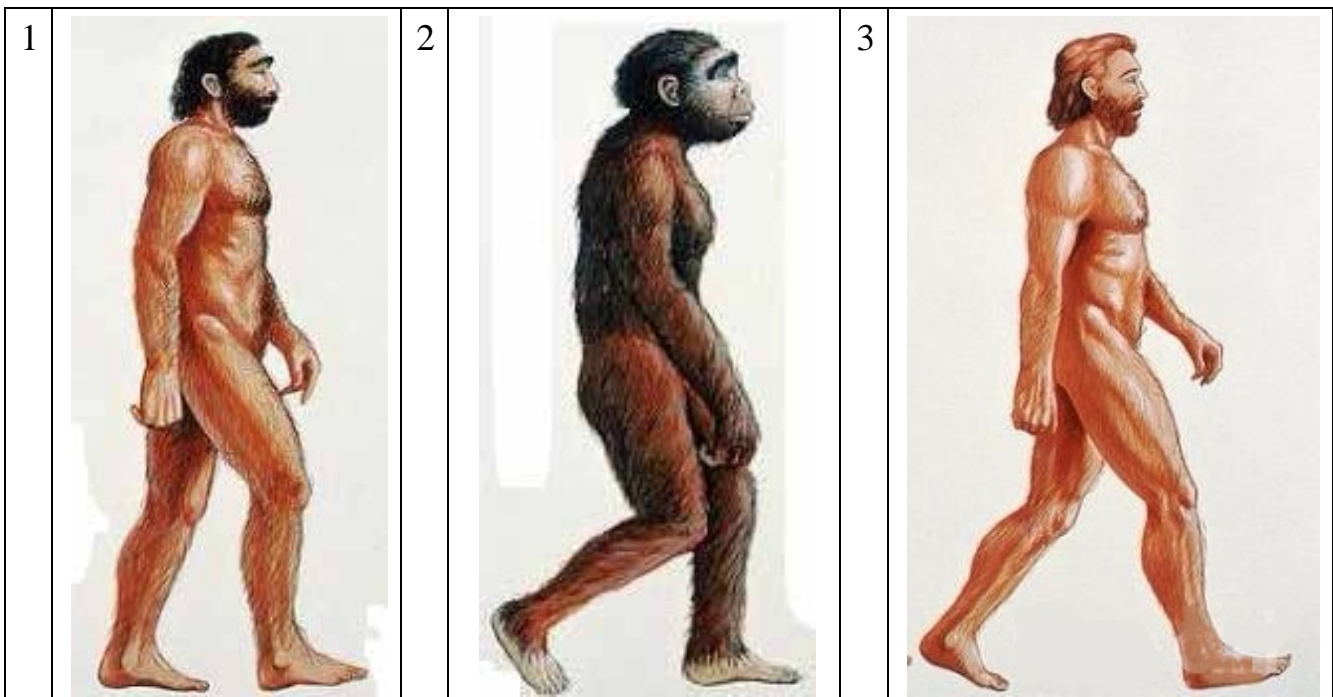
4. Расставьте даты в верной хронологической последовательности.
- 1) IV век до н. э.
 - 2) 104 год до Р. Х.
 - 3) 6999 год от Сотворения мира
 - 4) 1879 год н. э.
 - 5) XVII век н. э.


Ответ.

1	2	3	5	4
---	---	---	---	---

**4 балла за полностью верную хронологию.
Максимум за задание – 4 балла.**

5. Рассмотрите предложенные изображения и выполните задания.





5.1. Заполните пропуск в предложении: «Изображения отражают разные этапы процесса биологической _____ человека».

Ответ. Эволюции (эволюция) (2 балла).

5.2. Расставьте эти изображения в верной хронологической последовательности данного процесса.

Ответ.

4	5	2	1	3
---	---	---	---	---

4 балла за полностью верную хронологию.

Максимум за задание – 6 баллов.

6. Соотнесите названия представителей отряда приматов с представленными изображениями (см. рисунок на предыдущей странице).

А) кроманьонец

Б) дриопитек

В) неандерталец

Ответ.

А	Б	В
3	4	1

По 2 балла за каждое верное соотнесение. Всего 6 баллов.

Максимум за задание – 6 баллов.

7. Рассмотрите карту и выполните предложенные задания.



7.1. Укажите цифру, которой обозначен древнейший земледельческий район в истории человечества.

Ответ. 3.

7.2. Укажите цифру, которой обозначено место расположения пещеры Ласко, в которой были найдены наскальные изображения животных.

Ответ. 1.

7.3. Укажите цифру, которой обозначено место, где Луис Лики нашёл останки древнейшего первобытного человека.

Ответ. 5.

По 2 балла за каждый верный ответ.

Максимум за задание – 6 баллов.

8. Укажите порядковые номера медалей, которые связаны с событиями Великой Отечественной войны 1941–1945 гг.

1		2	
3		4	

Всероссийская олимпиада школьников по истории 2019–2020 уч. г.
Школьный этап. 5 класс. Критерии

5		6	
7		8	

**Ответ. 2, 3, 5, 7. По 2 балла за каждый верный ответ.
Максимум за задание – 8 баллов.**

Максимум за работу – 50 баллов.