

ВСЕРОССИЙСКАЯ ОЛИМПИАДА ШКОЛЬНИКОВ
ПО ИСТОРИИ 2019–2020 уч. г.
ШКОЛЬНЫЙ ЭТАП
6 класс

Уважаемый участник!

При выполнении работы внимательно читайте текст заданий.

Содержание ответа вписывайте в отведённые поля, записи ведите чётко и разборчиво.

За каждый правильный ответ вы можете получить определённое членами жюри количество баллов, не выше указанной максимальной оценки.

Сумма набранных баллов за все решённые вопросы – итог вашей работы. Максимальное количество баллов – 85.

Задания считаются выполненными, если вы вовремя сдали их членам жюри.

Время на выполнение работы – 60 минут.

Желаем успеха!

1. Верны ли следующие утверждения («да» – «нет»)? Ответы внесите в таблицу.

- 1) Еврипид считается одним из основателей древнегреческой математики.
- 2) Великая Китайская стена начала строиться в то время, когда существовала Римская республика.
- 3) В рамках древнегреческой колонизации Причерноморья были построены города на территории современной Российской Федерации.
- 4) Солон является одним из основателей древнегреческой демократии.
- 5) К концу I века н. э. Римская империя полностью контролировала территорию современной Германии.
- 6) Фраза «Карфаген должен быть разрушен» характеризует одно из направлений внешней политики Александра Македонского.
- 7) Юлий Цезарь был первым диктатором Рима.
- 8) При Константине Великом христианство было официально разрешено на территории Римской империи.

Ответ.

1	2	3	4	5	6	7	8

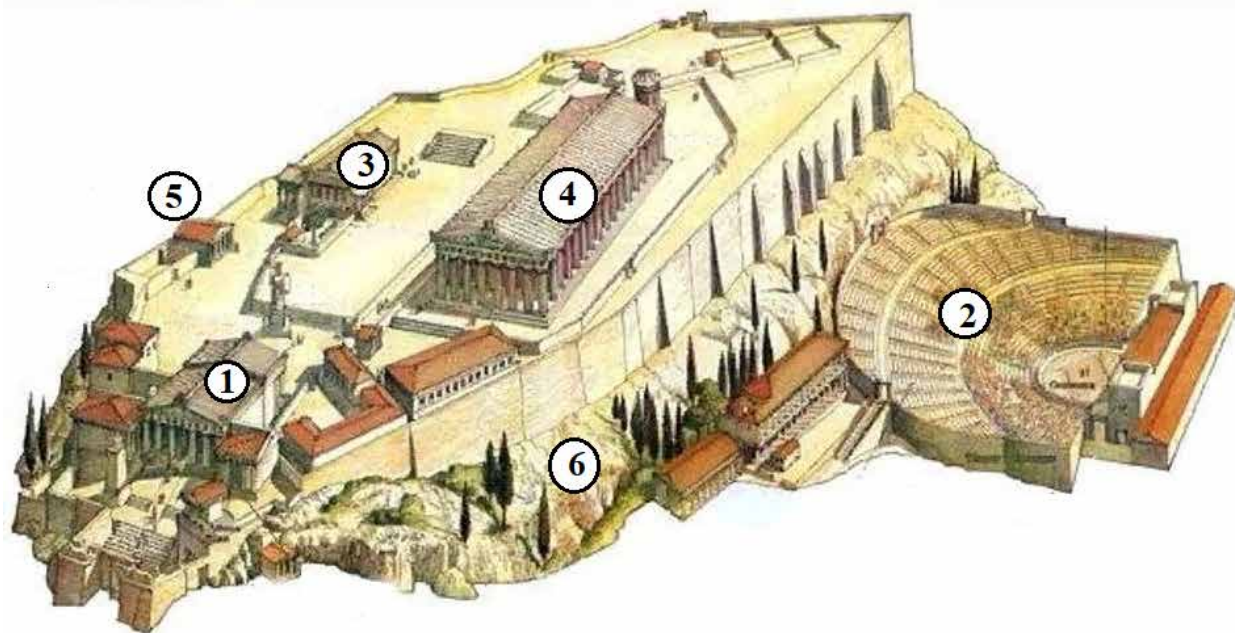
Максимум за задание – 16 баллов.

2. Перед вами фрагмент стихотворения русского поэта М. Волошина, посвящённого известнейшему архитектурному ансамблю. Вместо обозначенных буквами пропусков в тексте, запишите пропущенные названия, относящиеся к данному ансамблю. Укажите, каким цифрам соответствуют эти названия на изображении его реконструкции.

Серый шифер. Белый тополь.
Пламенеющий залив.
В серебристой мгле олив
Усечённый холм – _____ (А).
Ряд рассеченных ступеней,
Портик тяжких _____ (Б),
И за горами камней
В сетке лёгких синих теней
Искры мраморных аллей.

Луч заката брызнул снизу...
Над долиной сноп огней...
Рдеет пламенем над ней он –
В горне бронзовых лучей
Загорелый _____ (В)...
Ночь взглянула мне в лицо.
Чёрны ветви кипариса.

А у ног, свернув кольцо,
Спит театр _____ (Г).



Ответ.

	А	Б	В	Г
Буквенное обозначение пропуска в тексте				
Пропущенное понятие				
Цифровое обозначение соответствующего места на изображении				

Максимум за задание – 16 баллов.

3. Установите соответствие между историческими деятелями и событиями, связанным с ними. К каждому элементу первого столбца подберите соответствующий элемент из второго столбца.

Исторические деятели	События
А) Тиберий Гракх	1) принятие титула принцепса
Б) Нерон	2) написание трактата «О галльской войне»
В) Октавиан Август	3) написание поэмы «Энеида»
Г) Юлий Цезарь	4) проведение аграрной реформы, крупные земельные перераспределения
Д) Вергилий	5) один из крупнейших пожаров в Риме
Е) Публий Корнелий Сципион	6) успешные военные действия против Карфагена

Ответ.

А	Б	В	Г	Д	Е

Максимум за задание – 12 баллов.

4. Расставьте события в хронологической последовательности.

- 1) крещение Хлодвига
- 2) «Эпоха ленивых королей» во Франкском государстве
- 3) правление Калигулы в Древнем Риме
- 4) правление Клеопатры в Египте
- 5) поход Александра Македонского на Индию

Ответ.

--	--	--	--	--

Максимум за задание – 4 балла.

5. Укажите порядковые номера медалей, которые связаны с событиями Великой Отечественной войны 1941–1945 гг.

1	 A gold medal with a black and orange striped ribbon. The obverse features a profile of a man in military uniform with a star on his chest. The text around the edge reads "НАШЕ ДЕЛО ПРАВОЕ" at the top and "МЫ ПОБЕДИЛИ" at the bottom.	2	 A silver medal with a blue and yellow striped ribbon. The obverse features a profile of a woman with curly hair.
3	 A gold medal with a blue and white striped ribbon. The obverse features a figure of a person in a boat. The text around the edge reads "ЗА СПАСЕНИЕ" at the top and "УТОПАЮЩИХ" at the bottom.	4	 A gold medal with a red, black, and orange striped ribbon. The obverse features a star at the top, the text "ЗА ВЗЯТИЕ БЕРЛИНА" in the center, and a laurel wreath at the bottom.

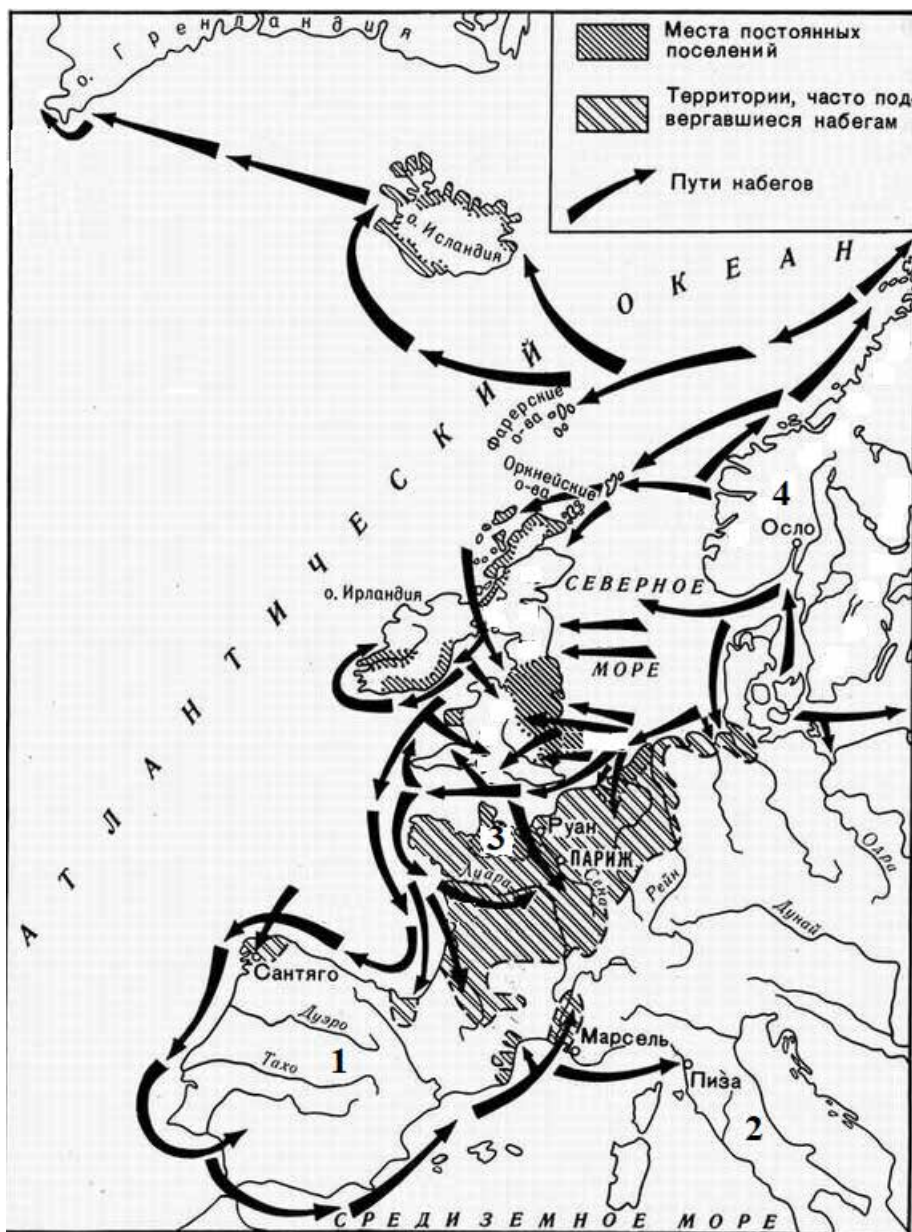
Всероссийская олимпиада школьников по истории 2019–2020 уч. г.
Школьный этап. 6 класс

5	 A silver circular medal with a ribbon. The obverse features a hammer and sickle, a sunburst, and a laurel wreath. The text "ОТЕЧЕСТВЕННАЯ ВОЙНА" is inscribed around the bottom edge.
6	 A gold circular medal with a ribbon. The obverse depicts the Kremlin and the Red Square. The text "ЗА ОБОРОНУ МОСКВЫ" is inscribed around the top edge.
7	 A gold circular medal with a ribbon. The obverse features a sunburst and a star. The text "ЗА ОСВОБОЖДЕНИЕ ВАРШАВЫ" is inscribed around the top edge.
8	 A bronze circular medal with a ribbon. The obverse depicts a group of soldiers. The text "В ПАМЯТЬ БОЮЩИХСЯ ЗА ОБОРОНУ КИЕВА" is inscribed around the top edge.

Ответ. _____

Максимум за задание – 8 баллов.

6. Внимательно рассмотрите схему и выполните предложенные задания.



6.1. Напишите в одно слово название скандинавских мореходов, походы которых изображены на представленной схеме.

Ответ. _____

6.2. Выберите три века, когда походы, обозначенные на схеме стрелками, были наиболее активны и многочисленны.

- 1) V век до н. э.
- 2) I век до н. э.
- 3) III век н.э.
- 4) VIII век н.э.
- 5) IX век н.э.
- 6) X век н.э.

Ответ. _____

6.3. В исторической науке существует точка зрения, что один из континентов был открыт неизвестным мореплавателем XV века, а именно в результате деятельности этих мореходов. Укажите название этого континента. Напишите имя и фамилию мореплвателя XV века, которого также считают первооткрывателем этого континента.

Ответ. _____

Максимум за задание – 7 баллов.

7. Верны ли представленные ниже утверждения («да» – «нет») о схеме на предыдущей странице? Ответы внесите в таблицу.


1. На схеме обозначены походы скандинавских мореплавателей. На территории, обозначенной цифрой 3, ими было образовано герцогство Нормандия.
2. На территории, обозначенной цифрой 4, располагалась римская провинция Галлия.
3. На побережье территории, обозначенной цифрой 2, греками были основаны колонии.
4. На территории, обозначенной цифрой 1, существовало государство франков.

Ответ.

1	2	3	4

Максимум за задание – 8 баллов.

8. Рассмотрите представленные изображения и запишите порядковые номера терминов и понятий, которые связаны с соответствующим изображением. Терминов и понятий дано больше, чем требуется в ответе. Ответ внесите в таблицу – запишите порядковые номера понятий/терминов под буквенными обозначениями соответствующих изображений.



Термины/понятия:

- 1) гиксосы
- 2) Луксор
- 3) папирус
- 4) Джосер
- 5) шадуф
- 6) Верхнее и Нижнее царство
- 7) Эхнатон
- 8) Гор
- 9) Александрия
- 10) сфинкс
- 11) Хапи
- 12) усыпальница
- 13) Бастет
- 14) Амон-Ра

Ответ.

Буквенное обозначение изображения	А	Б	В	Г
Порядковый номер термина/понятия				

Максимум за задание – 14 баллов.

Максимум за работу – 85 баллов.