

ВСЕРОССИЙСКАЯ ОЛИМПИАДА ШКОЛЬНИКОВ
ПО ОБЩЕСТВОЗНАНИЮ. 2019–2020 уч. г.
ШКОЛЬНЫЙ ЭТАП
8 класс

Уважаемый участник!

При выполнении работы внимательно читайте текст заданий.

Содержание ответа вписывайте в отведённые поля, записи ведите чётко и разборчиво.

За каждый правильный ответ Вы можете получить определённое членами жюри количество баллов, не выше указанной максимальной оценки.

Сумма набранных баллов за все решённые вопросы – итог Вашей работы. Максимальное количество баллов – 75.

Задания считаются выполненными, если Вы вовремя сдали их членам жюри.

Время на выполнение работы – 120 минут.

Желаем успеха!

1. Установите истинность или ложность суждений. Обозначьте «да» истинные суждения, «нет» – ложные. Ответы внесите в таблицу.

1.1. В рамках федеративного государственного устройства все вопросы государственного управления решаются федеральным центром.

1.2. Перед заключением трудового договора с несовершеннолетним работником работодатель обязан обеспечить за свой счёт прохождение им медицинского осмотра.

1.3. Правило снятия обуви при входе в дом в Японии можно рассматривать как пример неформальной социальной нормы.

1.4. Решение социального конфликта насильственным путем является наиболее эффективным.

1.5. Предложение труда – это то количество труда, которое люди готовы предложить вне зависимости от заработной платы.

Ответ.

1.1	1.2	1.3	1.4	1.5

Максимум за задание – 5 баллов.

2. Что объединяет приведённые ниже понятия? Дайте максимально точный ответ.

Становление мирового рынка, рост влияния международных организаций, возникновение мирового информационного пространства, обмен культурными ценностями между разными народами.

Ответ: _____

Максимум за задание – 2 балла.

3. Дайте краткое обоснование ряда (что объединяет перечисленные элементы) и укажите, какой из элементов является лишним по данному основанию.

Область, автономный округ, автономная область, край, автономный край.

Ответ: _____

Максимум за задание – 3 балла.

4. Решите логическую задачу.

Во время урока учитель Вениамин Родионович раздал школьникам самостоятельные работы. Один из школьников, Антон, оказался озадачен выставленной оценкой. Он обратился к учителю, чтобы оспорить поставленную ему оценку, на что тот резонно заметил, что во фрагменте рассуждений, представленных учеником в его работе, пропущена посылка, которую теперь Антону нужно восстановить. Вот этот фрагмент:

Любая коммерческая организация стремится максимизировать свою прибыль. Следовательно, некоторые образовательные организации не являются коммерческими организациями.

«Помните, что в любом вашем суждении имеются части – логическое подлежащее и логическое сказуемое. Логическое подлежащее (субъект) – это то, о чём идёт речь в суждении; логическое сказуемое (предикат) – это то, что говорится о логическом подлежащем,» – сказал учитель. «А ещё связь между логическим подлежащим и логическим сказуемым заключения обосновывается в посылках» – подхватил Антон. «Теперь вы легко всё приведёте в правильный вид» – отметил учитель.

Какую посылку пропустил Антон в своём рассуждении?

Ответ: _____

Максимум за задание – 5 баллов.

5. Решите правовую задачу.

Щеглов, закончивший школу, решил не поступать в вуз и год поработать, чтобы определиться с будущей профессией. Однако 15 апреля ему вручили повестку о призыве на военную службу. Щеглов хоть и явился в военкомат, но высказал мнение, что прохождение службы в армии – это его право и что вообще-то его убеждения противоречат прохождению военной службы, и попросил направить его на альтернативную гражданскую службу. Но призывная комиссия ему в этом отказала.

5.1. Является ли срочная служба в армии правом или обязанностью гражданина России? Свой ответ подтвердите ссылкой на нормативный акт с соответствующей статьёй.

5.2. Права ли призывная комиссия, отказавшая Щеглову в прохождении альтернативной гражданской службы? Свой ответ обоснуйте.

5.3. Какое право получил бы Щеглов, если бы после школы он поступил обучаться в организацию высшего образования?

Ответ. 5.1.

5.2.

5.3.

Максимум за задание – 7 баллов.

6. Решите экономическую задачу.

Аграфена Ивановна решила взять кредит. Проходя мимо соседнего дома, она наткнулась на объявление: «Быстрый кредит без справок и поручителей под 1 % в день». Аграфена Ивановна была приятно удивлена: «Всего один процент! Подумать только, а в банке мне соглашались дать кредит со ставкой 15% в год!» Насколько целесообразно Аграфене Ивановне брать предлагаемый быстрый кредит? Ответ обоснуйте, приведите два обоснования. Ответ без обоснования не оценивается.

Ответ:

Максимум за задание – 6 баллов.

7. Ознакомьтесь с представленными материалами и выполните задания.
Социологическая служба проводит опросы, посвященные празднованию 9 мая.

Таблица 1. Как Вы собираетесь провести 9 мая?

	2012 г.	2018 г.
Приму участие в праздничных торжествах (парады, возложения венков, шествия и т. д.)	37	55
Буду смотреть праздничный салют	28	31
Буду принимать гостей, сам пойду в гости	25	24
Буду смотреть телевизор	26	22
Буду гулять, отдыхать на природе (устраивать пикник, шашлыки и т. д.)	28	21
Буду заниматься домашними делами	13	15
Пойду в кино, театр, на концерт	2	4
Пойду в ресторан, клуб, на дискотеку	2	2

Таблица 2. В чём, по Вашему мнению, смысл парада 9 мая? (респонденты могли давать до пяти ответов)

	2010 г.	2018 г.
Чтобы история страны, память о подвиге народа не была забыта	31	34
Отдать дань памяти павшим в войне	20	32
Продемонстрировать военную мощь страны	18	21
Воспитание патриотизма у молодежи	11	19
Сделать приятное живущим ветеранам, поздравить их	9	8
Хорошая традиция, праздник	4	7
Бессмысленное мероприятие	2	1

Таблица 3. Вы лично обычно наблюдаете за парадом Победы или нет?

	2010 г.	2018 г.
Да, лично присутствую на параде в одном из городов России	10	29
Да, смотрю трансляцию парада Победы по телевидению	73	65
Нет, меня это событие не интересует	13	3
Затрудняюсь ответить	4	3

7.1. 9 мая в России является праздничным нерабочим днём. На основании данных таблицы 1 сформулируйте, в чём его отличие от обычного выходного дня для российских граждан. Свой ответ подтвердите данными таблицы. Приведите два аргумента.

7.2. На основании данных таблиц определите, как изменилась значимость Дня Победы в нашем обществе с 2010 г. по 2018 г. Приведите три аргумента, доказывающих Ваше утверждение.

7.3. Какие социальные институты играют значимую роль в праздновании Дня Победы? Назовите три института.

7.4. Назовите два наиболее значимых изменения представлений россиян о смысле парада 9 мая. Свой ответ подтвердите данными опроса.

Ответ. 7.1.







7.2.

7.3.

7.4.

Максимум за задание – 14 баллов.

8. Представленные изображения иллюстрируют одно обществоведческое понятие. Назовите это понятие. Распределите изображения на три группы в соответствии с составляющими этого понятия. Назовите эти группы.

А 	Б 
В 	Г 
Д 	Е 

Ответ.

Обобщающее понятие: _____

Группа 1: _____

Изображения: _____

Группа 2: _____

Изображения: _____

Группа 3: _____

Изображения: _____

Максимум за задание – 8 баллов.

9. Прочитайте текст и выполните задания.

Для начала я ставлю вопрос о том, каковы характеристики добротной научной теории. Среди набора совершенно обычных ответов я выбираю пять, не потому, что они исчерпывающие, а потому, что каждый из них в отдельности важен, а вкуче они достаточно разнообразны, чтобы обозначить то, что ставится на карту. В первую очередь теория должна быть точной: следствия, выведенные из теории, должны обнаруживать согласие с результатами существующих экспериментов и наблюдений. Во-вторых, теория должна быть непротиворечива, причём не только внутренне или сама с собой, но также с другими принятыми теориями, применимыми к близким областям природы. В-третьих, теория должна иметь широкую область применения, следствия теории должны распространяться далеко за пределы тех частных наблюдений, законов и подтеорий, на которые её объяснение первоначально было ориентировано. В-четвёртых (это тесно связано с предыдущим), теория должна быть простой, вносить порядок в явления, которые в её отсутствие были бы изолированы друг от друга и составляли бы спутанную совокупность. В-пятых, это менее стандартная, но весьма важная для реальных научных решений характеристика – теория должна быть плодотворной, открывающей новые горизонты исследования; она должна раскрывать новые явления и соотношения, ранее остававшиеся незамеченными среди уже известных.

Все эти пять характеристик: точность, непротиворечивость, область приложения, простота и плодотворность – стандартные критерии оценки адекватности теории. Каждый в отдельности критерий смутен: исследователи, применяя их в конкретных случаях, могут с полным правом расходиться в их оценке. Вместе с тем, используемые вместе, они время от времени входят в конфликт друг с другом; точность, к примеру, может предполагать выбор одной теории, область приложения – её конкурента.

В случае если стоит проблема выбора между альтернативными теориями, два исследователя, следующие одному и тому же набору критериев выбора, могут прийти к различным заключениям. Возможно, они по-разному интерпретируют простоту или у них разные убеждения о масштабах тех сфер

знания, в которых критерий непротиворечивости должен удовлетворяться. Возможно, они в этих вопросах согласны, но расходятся, приписывая различные относительные веса этим или другим критериям, когда последние применяются вместе. Можно объяснить, почему конкретные учёные делают конкретные выборы в конкретное время. При этом при таком объяснении приходится обращаться к характеристикам учёных, совершающих выбор.

(Т. Кун)

9.1. Назовите пять критериев адекватности научной теории, выделенные в тексте. Какой из них отражает связь между теоретическим и эмпирическим уровнями научного познания? (Сначала назовите критерий, затем укажите соответствующий фрагмент текста, объясняющий эту связь.)

9.2. Почему, по мнению автора, в научной работе следование одному и тому же набору критериев выбора может привести к различным заключениям исследователей? Назовите три причины.

9.3. Автор утверждает, что для объяснения почему ученые отдают предпочтение той или иной теории, надо обратиться к характеристикам этих ученых. Используя обществоведческие знания, назовите две возможные характеристики ученых, оказывающие влияние на их предпочтения той или иной научной теории.

Ответ. 9.1.

9.2.

9.3.

Максимум за задание – 25 баллов.

Всего за работу – 75 баллов.