



ВСЕРОССИЙСКАЯ ОЛИМПИАДА ШКОЛЬНИКОВ
ПО ИСТОРИИ 2020–2021 г.
МУНИЦИПАЛЬНЫЙ ЭТАП. 8 КЛАСС

Критерии

1. Какие из перечисленных событий относятся к тому же десятилетию, что и появление источника, фрагмент которого приведён?

«Московского государства разных Земель царевичи, и бояре, и окольнічиче, и чашиники, и стольники, и дворяне, и стряпчие, и жильцы, и приказные люди, и князи, и мурзы, и дворяне из городов, и дети боярские всех городов, и атаманы, и казаки, и всякие служилые люди, и дворовые, которые состоят за дом Пресвятыя Богородицы и за православную христианскую веру против разорителей веры христианские, польских и литовских людей, под Москвою приговорили, и выбрали всею землёю бояр и воевод, князя Дмитрия Тимофеевича Трубецкого, да Ивана Мартыновича Заруцкого да думнаго дворянина и воеводу Прокофья Петровича Ляпунова, на том, что им, будучи в правительстве, земским и всяким ратным делом промышляти и расправа всякая меж всяких людей чинити в правду, а ратным и земским всяким людем их бояр во всяких земских и в ратных делах слушати всем...»

- 1) избрание на царство М.Ф. Романова
- 2) гибель Лжедмитрия I
- 3) отказ Владислава Вазы от претензий на московский трон
- 4) заключение Столбовского мира со Швецией
- 5) заключение Плюсского перемирия со Швецией
- 6) возвращение патриарха Филарета из польского плена

Ответ: 146.

За верный ответ – 1 балл, за неверный вычитается 1 балл.

Максимум за задание - 3 балла.

2. Время активной деятельности каких из перечисленных исторических персонажей российской истории относится к тому же веку, что и создание источника, фрагмент которого приведён?

«Отсюда до угров и до ляхов, до чехов, от чехов до ятвягов, от ятвягов до литовцев, до немцев, от немцев до карелов, от карелов до Устюга, где обитают поганые тоймичи, и за Дышащее море; от моря до болгар, от болгар до буртасов, от буртасов до черемисов, от черемисов до мордвы – то всё с помощью Божьею покорено было христианскому народу, и эти страны повиновались великому князю Всеволоду, отцу его Юрию, князю киевскому, деду его Владимиру Мономаху, которым половцы своих малых детей в колыбели пугали... И в те дни, – от великого Ярослава, и до Владимира, и до нынешнего Ярослава, и до брата его Юрия, князя владимирского, – обрушилась беда на христиан...»

- | | |
|----------------------|------------------------------------|
| 1) Юрий Долгорукий | 4) Даниил Александрович Московский |
| 2) Ярослав Осмомысл | 5) Даниил Галицкий |
| 3) Александр Невский | 6) Иван Калита |

Ответ: 345.

За верный ответ – 1 балл, за неверный вычитается 1 балл.

Максимум за задание - 3 балла.

3. Возникновение каких из перечисленных терминов (выражений) в России относится к тому же правлению, что и источник, фрагмент которого приведён?

«А учинити государю у себя в опришнине князей и дворян, и детей боярских дворовых и городовых 1000 голов, и поместья им подавал в тех городех с одново, которые городы поимал в опришнину. А вотчинников и помещиков, которым не быти в опришнине, велел ис тех городов вывести и подавати земли велел в то место в иных городех, понеже опришнину повеле учинити себе особно...»

- | | |
|------------------------|-------------------------|
| 1) «кормление» | 4) «Судебник» |
| 2) «стрелецкое войско» | 5) «полки нового строя» |
| 3) «Стоглавый собор» | 6) «земский собор» |

Ответ: 236.

За верный ответ – 1 балл, за неверный вычитается 1 балл.

Максимум за задание - 3 балла.

4. В истории существует значительное число устойчивых выражений. Установите соответствие между выражением и событием (процессом, явлением), с которым связано его появление.

ФРАЗЫ	СОБЫТИЯ (ПРОЦЕССЫ, ЯВЛЕНИЯ)
А) «Утрехтская уния»	1) гражданская война в Англии в XVII в.
Б) «восстание "Ника"»	2) период расцвета культуры в средневековой Европе
В) «Крестовый поход в степь»	3) эпоха Великих географических открытий
Г) «Каролингское возрождение»	4) борьба Нидерландов против испанского владычества
	5) борьба русских князей против половцев
	6) борьба русских князей против Золотой Орды
	7) правление Юстиниана I в Византии

Ответ:

А	Б	В	Г
4	7	5	2

**За каждое верное соотнесение – 2 балла.
Максимум за задание – 8 баллов.**


5. Найдите «лишний», т. е. выбивающийся из принципа образования ряда, элемент.



Ответ: Д, так как Екатерина I не являлась потомком Алексея Михайловича.
Максимум за задание – 2 балла.

6. Найдите «лишний», т. е. выбивающийся из принципа образования ряда, элемент.


А




Б




В



Г



Д



Ответ: Г, так как собор Василия Блаженного, представленный на изображении, обозначенном буквой Г, построен не в период правления Ивана III.

Максимум за задание – 2 балла.

7. Расположите в хронологической последовательности события истории России середины XIII в.

- А) получение Александром Невским ярлыка на Великое княжение Владимирское
- Б) битва на реке Сити
- В) битва на Чудском озере
- Г) смерть князя Ярослава Всеволодовича в Орде
- Д) взятие Киева войсками Батыея

Ответ:

1	2	3	4	5
Б	Д	В	Г	А

За каждое верное соотнесение – 1 балл.

Максимум за задание – 5 баллов.

8. Расположите в хронологической последовательности события истории Раннего Средневековья.

- А) битва при Пуатье
- Б) Верденский раздел
- В) завоевание Англии нормандским герцогом Вильгельмом
- Г) свержение династии Меровингов Пипином Коротким
- Д) создание Священной Римской империи Оттоном I Великим

Ответ:

1	2	3	4	5
А	Г	Б	Д	В

За каждое верное соотнесение – 1 балл.

Максимум за задание – 5 баллов.

9. Установите соответствие между описаниями известных авторов древнерусских литературных произведений и названиями произведений их авторства.

АВТОРЫ	ПРОИЗВЕДЕНИЯ
А) Русский князь, боровшийся с княжескими усобицами	1) «Послание на Угру»
Б) Ростовский архиепископ, участвовал в освящении Успенского собора Московского Кремля	2) «Слово о законе и благодати»
В) Тверской купец, занимавшийся торговлей с другими странами	3) «Хождение за три моря»
Г) Киевский митрополит, избранный по желанию князя Ярослава Мудрого	4) «Поучение к детям»
Д) Русский духовный писатель, поэт, наставник детей русского царя	5) «Вертоград многоцветный»
	6) «Моление Даниила Заточника»
	7) «Повесть временных лет»

Ответ:

А	Б	В	Г	Д
4	1	3	2	5

По 1 баллу за каждое верное соотнесение.

Максимум за задание – 5 баллов.

10. Перед вами названия показателей, характеризующих развитие Русского государства в период правления Петра I. Подберите к каждому из показателей его числовое значение из приведённого списка.

- А) количество рангов в Табели о рангах
- Б) первоначальный размер подушной подати, копеек
- В) количество мануфактур к 1725 г.
- Г) количество губерний по реформе 1708 г.
- Д) количество гвардейских полков в русской армии к 1725 г.

ЧИСЛОВЫЕ ЗНАЧЕНИЯ:

- 1) 205
- 2) 14
- 3) 2
- 4) 80
- 5) 8

Ответ:

А	Б	В	Г	Д
2	4	1	5	3

По 2 балла за каждое верное соотнесение.

Максимум за задание – 10 баллов.

11–12. По итогам русско-польских и русско-шведских войн XVI–XVIII вв. был подписан ряд мирных договоров. Перед вами карты, отражающие территориальные изменения, к которым привело подписание этих договоров.

11. Установите соответствие между картой и названием мирного договора (перемирия).

1



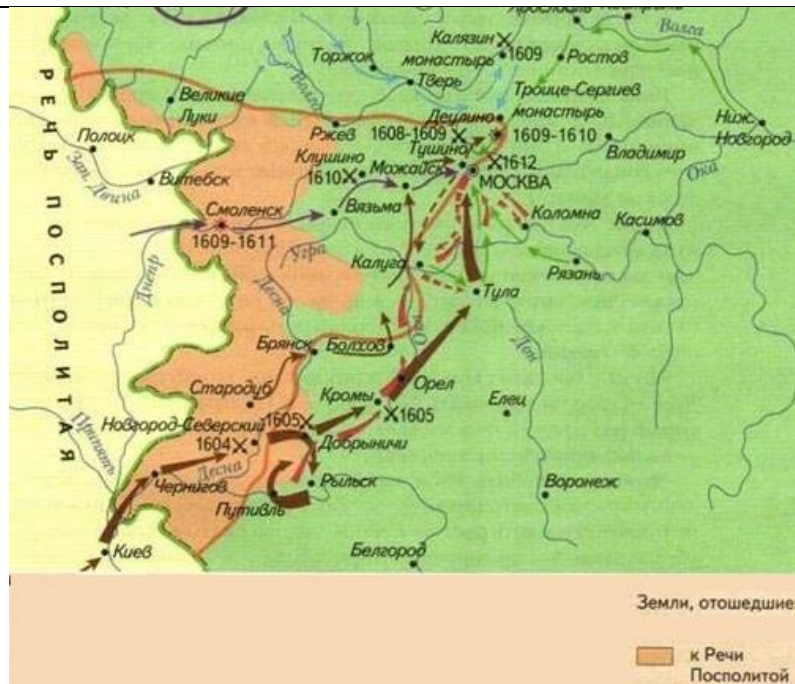
2



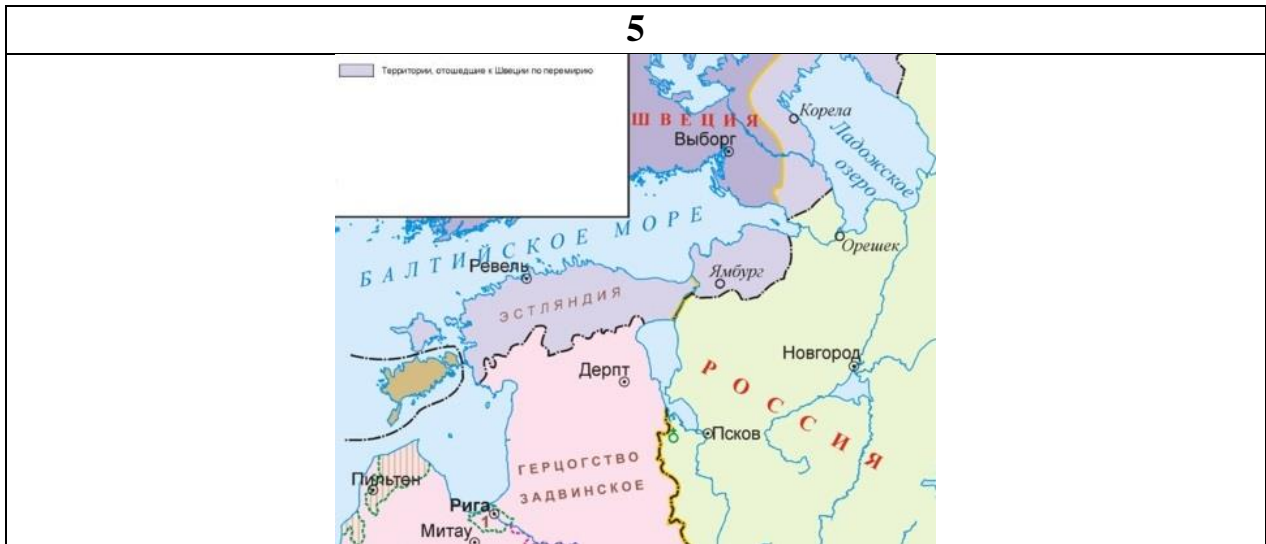
3



4



Всероссийская олимпиада школьников по истории 2020–2021 уч. г.
Муниципальный этап. 8 класс. Критерии



Ответ:

ПОРЯДКОВЫЕ НОМЕРА КАРТ	НАЗВАНИЯ МИРНЫХ ДОГОВОРОВ (ПЕРЕМИРИЙ)
1	Андрусовское перемирие
2	Ништадтский мир
3	Тявзинский мир
4	Деулинское перемирие
5	Плюсское перемирие
6	Поляновский мир

**По 2 балла за каждое верное соотнесение.
Максимум за задание – 12 баллов.**

12. Укажите годы, когда были подписаны эти договоры (перемирия).

Ответ:

НАЗВАНИЯ МИРНЫХ ДОГОВОРОВ (ПЕРЕМИРИЙ)	ГОДА ПОДПИСАНИЯ ДОГОВОРОВ (ПЕРЕМИРИЙ)
Ништадтский мир	1721
Поляновский мир	1634
Деулинское перемирие	1618
Плюсское перемирие	1583
Тявзинский мир	1595
Андрусовское перемирие	1667

По 2 балла за каждое верное указание года.

Максимум за задание – 12 баллов.

13–14. Перед вами описания московских князей XIV–XVI вв., сделанные историком Н.И. Костомаровым.

13. Соотнесите текстовые фрагменты с периодами правления описанных в них князей в Московском княжестве. Обратите внимание на то, что период может быть шире, чем годы правления князя, описание которого приведено.

1) «За князя, кроме сил Московской и Владимирской волостей, ополчились подручные Москве князья, обязанные помогать ей на войне. Его тесть, князь суздальский, с братьями и детьми вёл рати суздальские, нижегородские и городецкие, шли князья: ростовские, ярославские: кроме того, к Москве пристали тогда князья: смоленский и южные, из древней земли вятичей, – новосильский, оболенский, тарусский. Последние не хотели подчиняться власти литовской и потому добровольно признали над собою первенство Москвы и вступили в число её подручников. Были ещё в этом ополчении и князья только по имени, называвшиеся именами бывших уделов, так как их уделы находились в руках других князей, поставленных Ольгердом: так, например, стародубский и брянский; а иные, как белозерский и моложский, не были уже владетелями своих уделов, непосредственно присоединённых к Москве, и находились на службе у великого московского князя: эта участь впоследствии постигла безразлично и всех удельных князей...»

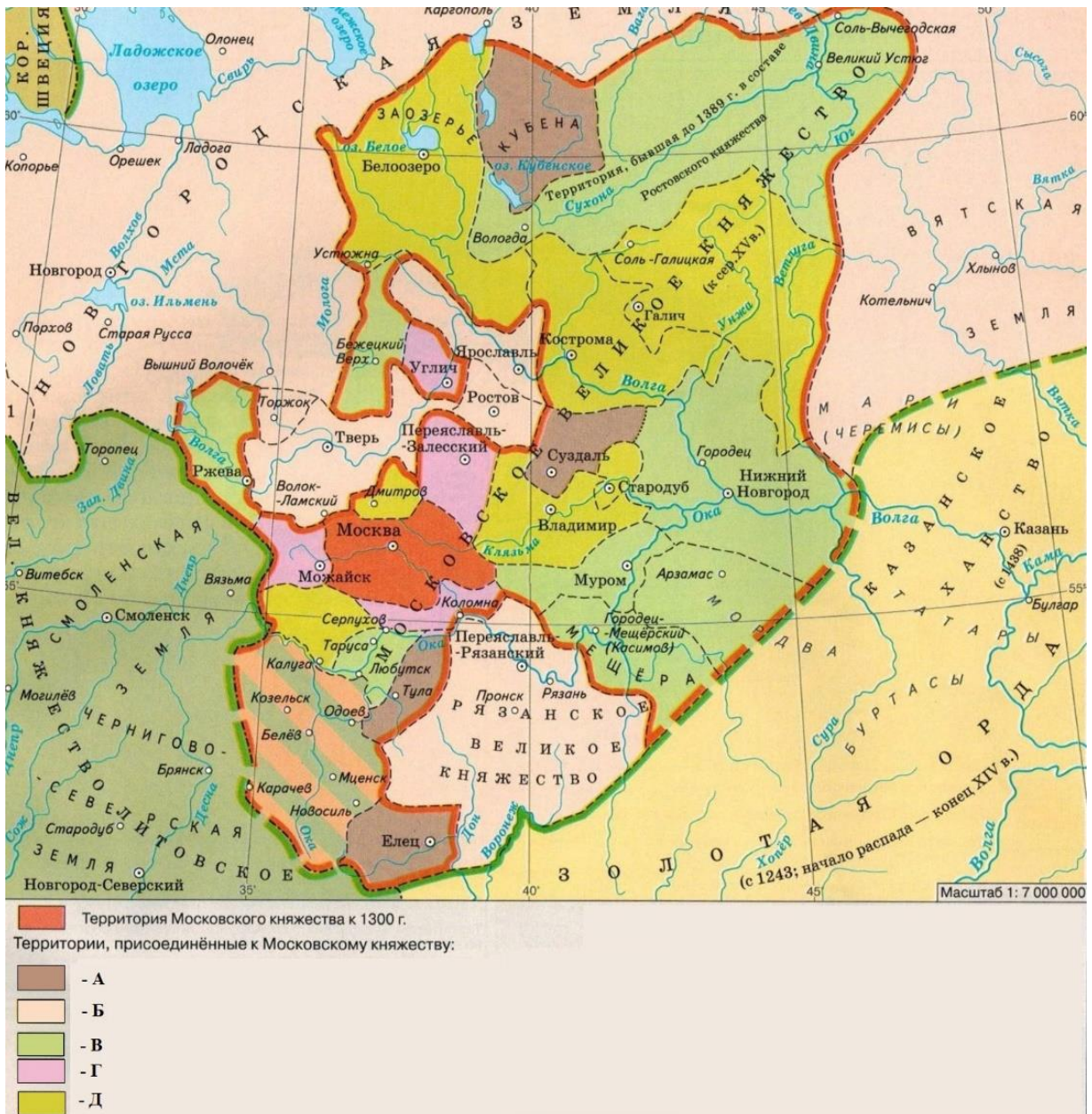
- 2) «Решительный и смелый, он был до крайности осторожен там, где возможно было какое-нибудь противодействие его предприятиям. Он не затруднился вскоре после смерти отца, в 1463 году, покончить с ярославским княжеством, потому что там не могло быть никакого сопротивления... Но не так относился он к более сильным князьям: тверскому и рязанскому. С тверским, своим шурином, он тотчас по смерти отца своего заключил договор, в котором положительно охранялось владетельное право тверского князя над своею землёй, хотя и до поры... Но не в политике московского князя было раздражать без нужды соседа, жившего на перепутье между Москвой и Новгородом, в то время, когда он предвидел неминуемую разделку с Новгородом и должен был подготавливать союзников себе, а не Новгороду против себя...»
- 3) «Обстоятельства продолжали благоприятствовать Москве. Бывший тверской князь хотя вернулся во Псков и прожил там десять лет, но был уже бессилён; его брат Константин, управляя разорённую тверскую землёю, угождал московскому князю, любимцу царя, так как страшился повторения над своею областью того, что она испытала при его брате. В собственно московской земле князь московский уже владел Можайском, Коломною, Рузою, Звенигородом, Серпуховым, к ней присоединялся и Переяславль со своею волостью».
- 4) «Сын, насколько мы его понимаем, превосходил отца своего умом. При нём значительно двинулось расширение московских владений. Москва приобрела земли: суздальскую и нижегородскую. Получив от хана великое княжение, князь так впал к нему в милость, что получил от него ещё Нижний Новгород, Городец, Мещёру, Тарусу и Муром. Москвичи взяли Нижний изменой: нижегородский боярин Румянец предал своего князя Бориса Константиновича; московский князь приказал взять под стражу этого князя, его жену и детей; Нижний Новгород навсегда был присоединён к московским владениям...»
- 5) «Усевшись в Москве, слепой великий князь назначил своим соправителем старшего сына, который с тех пор стал называться, как и отец его, великим князем... Тогда же князь московской земли, серпуховской, Василий Ярославич, ревностный слуга и товарищ в несчастии князя московского, по какому-то наговору был схвачен и заточён в Вологду, где и умер со своими детьми: его старший сын убежал в Литву. Затем суздальские князья, получив от московского великого князя вотчины, чуя над собою беду, сами убежали из дарованных им вотчин, чтобы избежать опасных столкновений с Москвою...»

Ответ:

ПОРЯДКОВЫЕ НОМЕРА ОПИСАНИЙ КНЯЗЕЙ	ПЕРИОДЫ
1	1340–1389 гг.
2	1462–1505 гг.
3	1300–1340 гг.
4	1389–1425 гг.
5	1425–1462 гг.

По 2 балла за каждое верное соотнесение.
Максимум за задание – 10 баллов.

14. Соотнесите описания с буквенными обозначениями территориальных приобретений Московского княжества на карте в указанный период.



Ответ:

ПОРЯДКОВЫЕ НОМЕРА ОПИСАНИЙ КНЯЗЕЙ	БУКВЕННЫЕ ОБОЗНАЧЕНИЯ ТЕРРИТОРИЙ НА КАРТЕ
1	В
2	Б
3	Г
4	Д
5	А

По 2 балла за каждое верное соотнесение.

Максимум за задание – 10 баллов.

15. Внимательно ознакомьтесь с приведённым фрагментом источника и оцените правильность либо ошибочность выводов, сделанных на его основе. Укажите все верные выводы.

В год 6505... Князь Владимир пошёл к Новгороду собирать воинов верхних земель против ..., так как шла беспрестанная великая война... же узнали, что нет князя, пришли и стали под Белгородом. И не давали выйти из города, и был в городе сильный голод, и не мог Владимир помочь, так как не было у него воинов, а ... было великое множество. И собрали вече в городе и сказали: «Уже скоро умрём от голода, а помощи от князя нет. Разве лучше нам так умереть? Сдадимся – кого пусть умертвят, а кого оставят в живых: всё равно уж помираем от голода». И так порешили на вече. Был же один старец, который не был на вече том, и спросил он: «Зачем собиралось вече?» И поведали ему люди, что завтра хотят сдаться. Услышав об этом, послал он за городскими старейшинами и сказал им: «Слышал, что хотите сдаваться». Они же ответили: «Не вытерпят люди голода». И сказал им: «Послушайте меня, не сдавайтесь ещё три дня и сделайте то, что я вам велю». Они с радостью обещали послушаться. И сказал он: «Соберите хотя бы по горсти овса или отрубей». Они с радостью пошли и собрали. И повелел он женщинам сделать мучной раствор, на котором варят кисель, и велел выкопать колодец и вставить в него кадь, и налить кадь раствором. И велел выкопать другой колодец и вставить в него кадь, и повелел искать мёду. Они же пошли и взяли лукошко мёду, которое было схоронено в княжеской медуше. И повелел сделать из неё сыту и вылить в кадь в другом колодце. Наутро повелел он послать за противниками. И сказали горожане, придя к ним: «Возьмите от нас заложников, а сами войдите человек с десять в город, чтобы посмотреть, что делается в городе нашем». ... обрадовались, подумав, что хотят им сдаться, взяли заложников, а сами выбрали лучших мужей в своих родах и послали в город, чтобы проведали, что делается в городе. И пришли они в город, и сказали им люди: «Зачем губите себя? Разве можете перестоять нас? Будете стоять и десять лет – что сделаете нам? Ибо имеем мы пищу от земли. Если не верите – посмотрите своими глазами». И привели

их к колодцу, где была заготовка для киселя, и зачерпнули ведром, и разлили в горшки. И когда сварили кисель, пришли с ними к другому колодцу, и почерпнули сыты из колодца, и стали сперва есть сами, а потом и противники. И удивились те и сказали: «Не поверят нам князя наши, если не отведают сами». Люди же налили им корчагу мучного раствора и сыты из колодца и дали. Они же, вернувшись, поведали о происшедшем. И, сварив, ели князя ... и дивились. И, взяв своих заложников, а белгородских отпустив, поднялись и пошли от города восвояси.

- 1) Событие, о котором идёт в речь в приведённом фрагменте источника, произошло в 988 году.
- 2) Вид исторического источника, фрагмент которого приведён, – летопись.
- 3) Источник, фрагмент которого приведён, был создан тогда же, когда произошли события, описанные в приведённом фрагменте.
- 4) Название племён, пропущенное в приведённом фрагменте, – половцы.
- 5) Князем, упомянутым во фрагменте и не пришедшим на помощь белгородцам, является Владимир Святой.
- 6) Основной причиной отсутствия княжеской дружины во время обороны города стало нежелание князя явиться на помощь осаждённым.
- 7) Оборону Белгорода возглавило собрание горожан – вече.
- 8) Вече приняло решение прекратить оборону в связи с сильным голодом, разразившимся в городе в ходе осады.
- 9) Жители города предложили противникам взять нескольких горожан в заложники в качестве гарантии безопасности противников, приглашённых в город.
- 10) Основной причиной отступления противников от стен Белгорода стало появление дружины князя Владимира.

Ответ: 2, 5, 7, 8, 9.

За каждый верно выбранный/верно невыбранный пункт – 2 балла. За каждый неверный вычитается 1 балл. Максимум за задание - 20 баллов.