

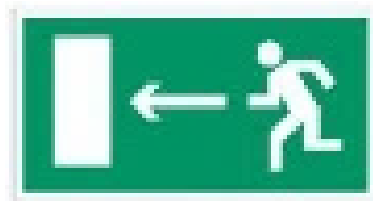
**ПРИГЛАСИТЕЛЬНЫЙ ШКОЛЬНЫЙ ЭТАП
ВСЕРОССИЙСКОЙ ОЛИМПИАДЫ ШКОЛЬНИКОВ
ОБЖ. 2020 г. 4–5 классы**

Тестовые задания

Определите один правильный ответ.
За правильный ответ начисляется 2 балла.

1 Что обозначает эвакуационный знак безопасности?

- а) «выход здесь» (левосторонний)
- б) «направление к эвакуационному выходу налево»
- в) «выход здесь» (правосторонний)
- г) «направление к эвакуационному выходу направо»



2 Какое значение имеет визуальный сигнал «земля – воздух»?

- а) «нужен врач»
- б) «нужны вода и пища»
- в) «нужны медикаменты»
- г) «требуется оружие и боеприпасы»



3 Определите аббревиатуру огнетушителя с порошковым огнетушащим веществом.

- а) ОП
- б) ОВП
- в) ОВ
- г) ОВЭ

4 Если сумма обхватов головы равна 1035–1055 мм, то размер (рост) маски противогаза ПДФ–2Ш равен

- а) 1
- б) 2
- в) 3
- г) 4

5 У противогаза ПДФ-2Ш, в отличие от ГП-7, имеется

- а) переговорное устройство
- б) узел клапана вдоха
- в) фильтрующе-поглощающая коробка
- г) соединительная трубка

6 Человек начинает ощущать землетрясение интенсивностью

- а) 1–2 балла по шкале MSK-64
- б) 3–4 балла по шкале MSK-64
- в) 5 баллов по шкале MSK-64
- г) 6 баллов по шкале MSK-64

- 7 **Верны ли суждения, что при захвате Вас в заложники для противодействия террористам стоит применять**
А. газовые баллончики и другие средства самообороны
Б. электрошокеры или другие средства самообороны
а) верно только А
б) верно только Б
в) верны оба суждения
г) оба суждения неверны
- 8 **Верны ли следующие суждения о правилах закаливания?**
А. Нарращивание силы и длительности действия закаливающих процедур должно происходить постепенно.
Б. Закаливающие процедуры рекомендуется выполнять периодически.
а) верно только А
б) верно только Б
в) верны оба суждения
г) оба суждения неверны
- 9 **Какая информация сообщается диспетчеру в первую очередь при вызове скорой медицинской помощи?**
а) фамилия, имя, отчество вызывающего скорую медицинскую помощь
б) количество пострадавших
в) примерный возраст, пол пострадавших
г) место происшествия, что случилось
- 10 **Верны ли следующие суждения о правилах оказания первой помощи при носовом кровотечении в случае, если пострадавший находится в сознании?**
А. Пострадавшего усадить со слегка наклонённой вперёд головой.
Б. Зажать пострадавшему нос в районе крыльев носа на 15–20 минут.
а) верно только А
б) верно только Б
в) верны оба суждения
г) оба суждения неверны

Порядок оценивания тестовых заданий с одним правильным ответом.

- за правильный ответ начисляется **2 балла**;
- **0 баллов** выставляется за неправильный ответ, а также если отмечены несколько ответов (в том числе правильный).

Определите все правильные ответы.

За каждый правильный ответ начисляется 2 балла.

1 **Лёд считается прочным с**

- а) зеленоватым оттенком
- б) молочным оттенком
- в) синеватым оттенком
- г) серым оттенком
- д) фиолетовым оттенком

2 **Порядок включения прибора в сеть:**

- а) сначала шнур – к прибору
- б) не имеет значения
- в) затем в сеть
- г) сначала шнур – в сеть
- д) затем к прибору

3 **Какие виды опасных насекомых изображены на фотографиях?**

- а) клещ
- б) каракурт
- в) слепень
- г) аргиопа
- д) оса



4 **В случае грозы опаснее всего укрываться под**

- а) берёзой
- б) дубом
- в) клёном
- г) тополем
- д) липой

5 **В случае возникновения катастрофических ситуаций на самолётах обычно проявляются два опасных типа поведения пассажиров:**

- а) агрессия
- б) тревога
- в) паника
- г) страх
- д) апатия

6 **В случае пожара в квартире вызвать пожарную охрану можно по телефону:**

- а) 101
- б) 102
- в) 103
- г) 104
- д) 112

- 7 **Терроризм переводится как**
- а) страх
 - б) паника
 - в) крайность
 - г) ужас
 - д) преступление
- 8 **Согласно данным ВОЗ, здоровье примерно на 20% зависит от**
- а) генетических факторов
 - б) образа жизни
 - в) уровня медицинского обеспечения
 - г) состояния окружающей среды
 - д) материального благополучия
- 9 **По каким признакам можно судить о том, что кровоостанавливающий жгут наложен правильно?**
- а) побледнение кожи конечности ниже наложения жгута
 - б) синюшность кожи конечности ниже наложения жгута
 - в) отсутствие пульса на артерии конечности ниже наложения жгута
 - г) появление отёка конечности ниже наложения жгута
 - д) уменьшение кровотечения
- 10 **Какие действия необходимо выполнить для оказания первой помощи пострадавшему в случае укуса собаки?**
- а) небольшие раны (ссадины) промыть проточной водой с мылом, наложить стерильную повязку
 - б) промыть рану спиртовым раствором бриллиантового зелёного
 - в) дать обезболивающее лекарственное средство
 - г) обратиться за медицинской помощью
 - д) если повреждение незначительное, лечить рану самостоятельно

Порядок оценивания тестовых заданий с несколькими правильными ответами. Максимальная оценка за каждое правильно выполненное задание – **4 балла**, при этом

- за каждый правильный ответ начисляется **2 балла**;
- **0 баллов** выставляется за неправильный ответ, а также если отмечены более двух ответов (в том числе правильные).

Максимум за задания – 60 баллов.

Теоретические задания

Задание 1

Знание значений сигналов светофора помогает пешеходу и водителю сохранить жизнь и здоровье. Сопоставьте цвет сигнала светофора и его значение.

Сигнал светофора	Значение сигнала светофора
Зелёный сигнал	разрешает движение и информирует о том, что время его действия истекает и вскоре будет включён запрещающий сигнал
Зелёный мигающий сигнал	разрешает движение и информирует о наличии нерегулируемого перекрёстка или пешеходного перехода, предупреждает об опасности
Жёлтый сигнал	разрешает движение
Жёлтый мигающий сигнал	запрещает движение
Красный сигнал, в том числе мигающий	запрещает движение, кроме случаев, предусмотренных пунктом 6.14 Правил, и предупреждает о предстоящей смене сигналов

Максимальная оценка за правильно выполненное задание – **10 баллов**.

Задание 2




Оборона Москвы занимает особое место в истории Великой Отечественной войны – от результатов битвы за столицу СССР зависел весь дальнейший ход войны. В Москве установлено много памятников людям, внёсшим значительный вклад в победу над врагом. Соотнесите изображения памятников с их названиями.

Изображение памятника	Кому установлен памятник
	<p>Памятник воинам – героям противовоздушной обороны Москвы</p>
	<p>Памятник в честь воинов, чьи имена не были установлены</p>
	<p>Памятник подольским курсантам</p>
	<p>Памятник воинам-сапёрам</p>
	<p>Памятник воинам-медикам</p>

Максимальная оценка за правильно выполненное задание – **10 баллов.**

Задание 3

Туристические костры делятся на типы. Каждый тип костра имеет своё название. Сопоставьте изображение костра и его название.

Изображение костра	Название типа костра
	«ТАЁЖНЫЙ»
	«ЗВЁЗДНЫЙ»
	«ШАЛАШ»
	«НОДЬЯ»
	«КОЛОДЕЦ»

Максимальная оценка за правильно выполненное задание – **10 баллов**.

Задание 4–5

Установите соответствие между видом травмы и её признаками.

Вид травмы	Признаки травмы
Вывих	<ul style="list-style-type: none">• отёк• боль• кровоизлияние• нарушение функции конечности
Ушиб	<ul style="list-style-type: none">• отёк• боль• кровоизлияние• нарушение функции конечности
Перелом	<ul style="list-style-type: none">• деформация в области сустава• пружинящее сопротивление при попытке изменить положение
Растяжение	<ul style="list-style-type: none">• отёк• боль• кровоизлияние• нарушение функции конечности• деформация конечности• костный хруст

Максимальная оценка за правильно выполненное задание – **8 баллов**.

Укажите термин, обозначающий придание неподвижности конечности, части тела:

1. абберация
2. иммобилизация
3. гипотензия
4. дисплазия

Ответ: 2

Максимальная оценка за правильно выполненное задание – **2 балла**.

Максимальная оценка за работу – 100 баллов.