

**Задача 1.8.1. «Часы» (10 баллов).** На часах в некоторый момент времени угол между часовой и минутной стрелками составил  $\alpha = 60^\circ$ . Определите, через сколько минут угол между стрелками в следующий раз может снова оказаться равным  $\alpha$ ? Положение стрелок на рисунке – условное.



**Решение (В. Яворский).** Минутная стрелка за час (60 минут) повернется на угол  $360^\circ$ , а за минуту – на  $360^\circ/60 \text{ мин} = 6^\circ$ . Часовая стрелка за 12 часов совершит полный оборот, т.е. повернется на угол  $360^\circ$ , а за час на  $360^\circ/12 \text{ ч} = 30^\circ$ . За минуту она повернется на  $0,5^\circ$ . Таким образом, минутная стрелка поворачивается в **12 раз** быстрее, чем часовая.

Заметим, что в условии не сказано, какая из стрелок изначально находится «впереди». Следовательно, возможны два варианта решения, когда А) часовая стрелка опережает минутную и Б) минутная стрелка опережает часовую. Рассмотрим эти варианты.

А) Часовая стрелка опережает минутную на угол  $\alpha = 60^\circ$ . Пусть часовая стрелка повернулась на угол  $\beta$ . Тогда минутная стрелка повернется на угол  $\varphi = \alpha + \beta + \alpha$ .

$$2\alpha + \beta = 12\beta.$$

$$\beta = 2\alpha/11 = 2 \cdot 60^\circ/11 \approx 11^\circ.$$

В результате получим  $\varphi \approx 2 \cdot 60^\circ + 11^\circ = 131^\circ$ . На это минутной стрелке потребуется время  $t_1 \approx 131^\circ/(6^\circ/\text{мин}) \approx 22 \text{ мин.}$

Б) Минутная стрелка опережает часовую на угол  $\alpha = 60^\circ$ . Пусть часовая стрелка повернулась на угол  $\beta$ . Тогда минутная стрелка повернулась на угол  $\varphi = 360^\circ - 2\alpha + \beta$ .

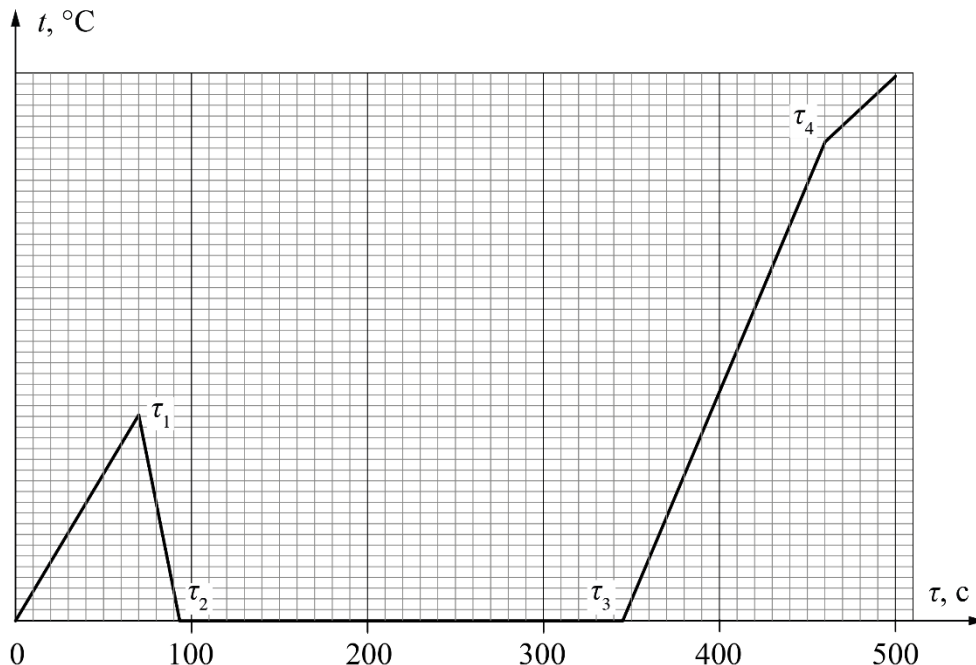
$$360^\circ - 2 \cdot 60^\circ + \beta = 12\beta.$$

$$\beta = 240^\circ/11 \approx 22^\circ.$$

Итак, минутная стрелка повернулась на угол  $360^\circ - 120^\circ + 22^\circ \approx 262^\circ$  за время  $t_2 \approx 262^\circ/(6^\circ/\text{мин}) \approx 44 \text{ мин.}$

№	Задача 1.8.1. Критерии оценивания (10 баллов)	Баллы
1	Показано, что минутная стрелка поворачивается в <b>12 раз</b> быстрее, чем часовая	2
2	А) Учтено, что минутная стрелка повернется на угол $\varphi = \alpha + \beta + \alpha$	3
	Найдено время $t_1 \approx 131^\circ/(6^\circ/\text{мин}) \approx 22 \text{ мин.}$	1
3	Б) Учтено, что минутная стрелка повернется на угол $\varphi = 360^\circ - 2\alpha + \beta$	3
4	Найдено время $t_2 \approx 262^\circ/(6^\circ/\text{мин}) \approx 44 \text{ мин.}$	1

**Задача 1.8.2. Соревнование калориметров (10 баллов).** В два калориметра положили по куску льда и в течение  $\tau_k = 10$  минут стали нагревать их содержимое с одинаковой мощностью. Известно, что первый кусок льда легче второго на  $\Delta m = 100$  г. На рисунке приведена зависимость разности температур  $t$  в калориметрах от времени  $\tau$ .



К сожалению, шкала оси разности температур не сохранились, а изломам графика соответствуют времена  $\tau_1$ ,  $\tau_2$ ,  $\tau_3$ ,  $\tau_4$ .

Объясните, какие физические процессы соответствуют каждому линейному участку графика.

Определите:

- 1) мощность  $P$  нагревателя;
- 2) массы  $m_1$  и  $m_2$  кусков льда;
- 3) начальные и конечные температуры кусков льда;
- 4) разность температур  $\Delta t$  в момент времени  $\tau_1$ .

*Справочные данные:* удельная теплоемкость льда  $c_{\text{л}} = 2\,100$  Дж/кг $^{\circ}$ С, удельная теплоемкость воды  $c_{\text{в}} = 4\,200$  Дж/кг $^{\circ}$ С, удельная теплота плавления льда  $\lambda = 330$  КДж/кг.

**Решение (А. Евсеев).** Из графика находим:  $\tau_1 = 70$  с,  $\tau_2 = 93$  с,  $\tau_3 = 345$  с,  $\tau_4 = 460$  с. Поскольку график начинается из нуля, температуры кусков льда вначале равны. Первые 70 с разность температур растет. Потом, более легкий кусок начинает плавиться, и разность температур уменьшается в течение 23 с. Третий участок графика соответствует плавлению обоих кусков льда, когда их температура неизменна ( $0^\circ\text{C}$ ). Это происходит в течение 252 с. Четвертый участок соответствует нагреву воды в том калориметре, где был кусок меньшей массы, а в другом – продолжает плавиться лед (115 с). На пятом – в обоих калориметрах нагревается вода.

Разница во времени плавления обусловлена разницей в массе кусков льда. Т.е. время, которое ушло на плавление дополнительных 100 г льда – это  $[(\tau_4 - \tau_2) - (\tau_3 - \tau_1)] = 91,7$  с.

Отсюда мощность нагрева:  $P = \frac{\lambda \Delta m}{\tau} \approx 360$  Вт.

Разница во времени нагрева до температуры плавления обусловлена разницей в массе кусков льда. Т. е. дополнительные 23,3 с – это время, которое ушло на нагрев 100 г льда от

температуры вначале до  $0^\circ\text{C}$ . Откуда,  $t_{01} = t_{02} = t_0 = \frac{-P\tau_1}{c_{\text{л}}\Delta m} = -40^\circ\text{C}$ .

За 70 с легкий кусок льда нагревается до  $0^\circ\text{C}$ . Значит его масса:  $m_1 = \frac{-P\tau_1}{c_{\text{л}}t_0} \approx 0,3$  кг. Масса

второго куска  $m_2 \approx 0,4$  кг.

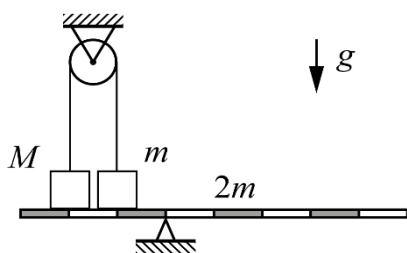
За те же 70 с второй кусок успеет нагреться до  $t_{21} = \frac{c_{\text{л}}m_2t_0 + P\tau_1}{c_{\text{л}}m_2} \approx -10^\circ\text{C}$ ,

то есть температуры кусков льда будут отличаться от  $\Delta t = 10^\circ\text{C}$ .

К концу нагрева в первом калориметре установится температура:

$$t_{1\text{К}} = \frac{P(\tau_{\text{К}} - \tau_3)}{c_{\text{в}}m_1} \approx 73^\circ\text{C}, \text{ а во втором } t_{2\text{К}} = \frac{P(\tau_{\text{К}} - \tau_4)}{c_{\text{в}}m_2} \approx 30^\circ\text{C}.$$

№	Задача 1.8.2. Критерии оценивания (10 баллов)	Баллы
1	Верно интерпретирован график:	2
	указано, что происходит в каждом калориметре на участках от 0 до $\tau_2$ (1 балл)	
	указано, что происходит в каждом калориметре на участках после $\tau_3$ (1 балл)	
2	Указано, что начальная температура кусков льда одинакова	0,5
3	Определена мощность нагревателя	2
4	Определена начальная температура в калориметрах	1,5
5	Определены исходные массы кусков льда (по 0,5 за каждую массу)	1
6	Определена разность температур в момент времени $\tau_1$	1
7	Определены конечные температуры в калориметрах (по 1 баллу за каждую)	2



**Задача 1.8.3. Неразрывность (10 баллов).** При каких значениях масс груза  $M$  возможно равновесие системы, приведенной на рисунке, если  $m = 4,0$  кг? Горизонтальный рычаг массой  $2m$  разделен на 8 одинаковых участков. Нить выдерживает максимальное натяжение  $T_0 = 25$  Н.  $g = 10$  Н/кг.

**Возможное решение (М. Замятнин).** Если груз  $M$  очень легкий, то связанный с ним нитью груз  $m$  перевешивает и касается рычага. Но вращающего момента груза  $m$  относительно точки опоры недостаточно, чтобы уравновесить момент силы тяжести самого рычага. Рычаг начинает проворачиваться по часовой стрелке. Нить провисает, и оба груза  $m$  и  $M$  «встают» на рычаг. Для равновесия системы необходимо, чтобы выполнялось правило моментов относительно точки опоры:

$$Mg2l + mgl = 2mgl, \quad (1)$$

где  $l$  – длина одного участка рычага.

Тогда минимальное значение  $M$  для равновесия системы равно  $M = m/2$ . Нить при этом не натянута.

Рассмотрим случай больших масс  $M$ . При  $M > m$  перевешивает груз  $M$  и он начинает давить на рычаг, а груз  $m$  повисает на нити. Для равновесия системы теперь достаточно выполнения условия:

$$(M - m)g2l = 2mgl, \text{ откуда } M = 2m. \quad (2)$$

Если не было бы ограничения на силу натяжения нити, равновесие системы наступило при  $m/2 < M < 2m$ , или  $2,0$  кг  $< M < 8,0$  кг. Но при больших значениях  $M$  груз  $m$  оказывается подвешенным, и сила натяжения становится 40 Н. Нить обрывается.

Рассмотрим случай, когда нить натянута до предельного значения  $T_0$ , но грузы не отрываются от рычага. Правило моментов принимает вид:

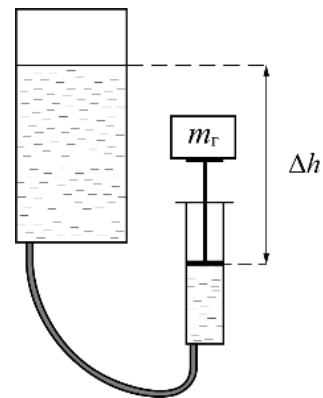
$$(Mg - T_0)2l + (mg - T_0)l = 2mgl, \quad (3)$$

откуда  $M = 0,5(m + 3T_0 / g) = 5,75$  кг.

Таким образом, равновесие системы возможно при  $2,0$  кг  $< M < 5,75$  кг.

№	Задача 1.8.3. Критерии оценивания (10 баллов)	Баллы
1	Учет нескольких возможных сценариев нарушения равновесия	1
2	Анализ случая малых значений $M$ и правило моментов (1)	1,5
3	Нахождение нижней границы: $M > 2,0$ кг	1
4	Анализ случая больших значений $M$ и правило моментов (2)	1,5
5	Нахождение верхней границы $M < 8,0$ кг	1
6	Учет предельного значения силы натяжения	1
7	Правило моментов (3)	2
8	Явно указан <b>правильный</b> диапазон допустимых значений $M$ , а не только его границы	1

**Задача 1.8.4. Физика в медицине (20 баллов).** Для измерения некоторых технических характеристик медицинского шприца экспериментатор Глюк собрал установку, изображенную на рисунке. Исследуемый шприц он закрепил в вертикальном положении. Вместо иглы к нему присоединил тонкую гибкую трубку, второй конец которой соединил с отверстием в дне цилиндрического сосуда. Затем Глюк измерил разность уровней  $\Delta h$  воды в сосуде и шприце, при которой поршень шприца начинал двигаться вверх в процессе плавного подъема сосуда. Оказалось, что величина  $\Delta h$  зависит от массы  $m_{\Gamma}$  груза, закрепленного на верхнем упоре поршня. Результаты измерений зависимости  $\Delta h(m_{\Gamma})$  он представил в таблице, в которой также приведена  $\Delta h_x$  для груза неизвестной массы  $m_x$ .



*Примечания:* массой поршня можно пренебречь; воздушная прослойка между поршнем и водой в шприце отсутствует; плотность воды  $\rho = 1,0 \cdot 10^3 \text{ кг/м}^3$ ;  $g = 10 \text{ Н/кг}$ ,

Определите площадь  $S$  поршня и силу трения скольжения  $F_{\text{тр}}$  между поршнем и стенкой шприца. Для этого:

1. Выведите теоретическую зависимость  $\Delta h(m_{\Gamma})$ .
2. Постройте график экспериментальной зависимости  $\Delta h(m_{\Gamma})$
3. С помощью графика определите  $F_{\text{тр}}$  и  $S$ .
4. Чему равна неизвестная масса  $m_x$  груза в шестой строке таблицы?

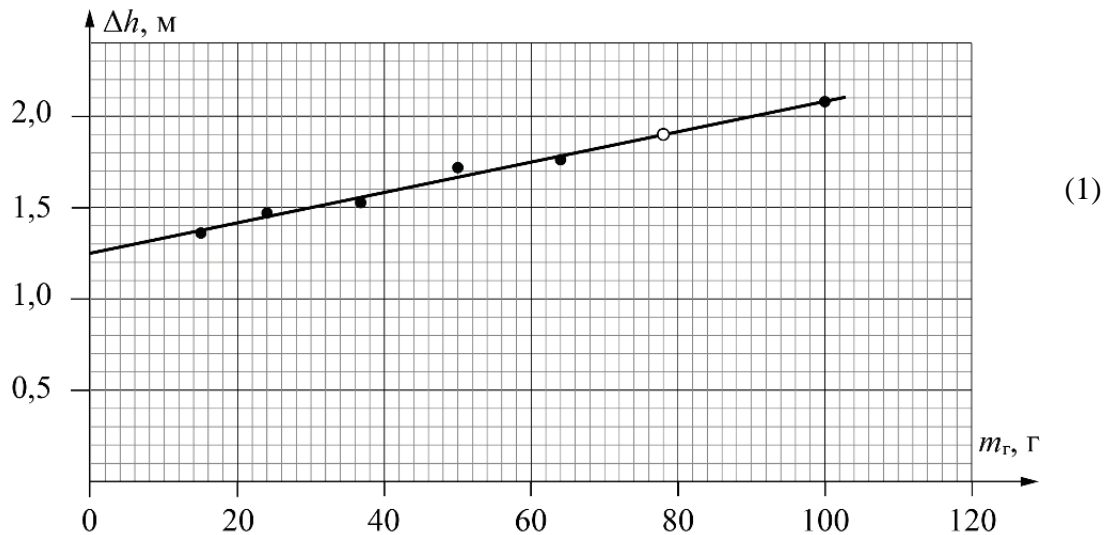
№	$m_{\Gamma}$ , г	$\Delta h$ , м
1	15	1,36
2	24	1,47
3	37	1,53
4	52	1,72
5	64	1,76
6	$m_x$	1,90
7	100	2,08

**Решение (М. Чжан, С. Кармазин).**

1. При равномерном движении поршня вверх сила тяжести груза и сила трения между поршнем и стенкой шприца уравновешены силой давления столба воды высотой  $\Delta h$  (атмосферное давление можно не учитывать):

$$m_{\Gamma}g + F_{\text{тр}} = \rho g S \Delta h,$$

Откуда



2. Мы видим, что  $\Delta h$  линейно зависит от  $m_{\Gamma}$  (см. график).

3. Для вычисления углового коэффициента прямой линии на графике удобно использовать точку  $m_{\Gamma 1} = 6$  г,  $\Delta h_1 = 1,3$  м, а также  $m_{\Gamma 2} = 90$  г,  $\Delta h_2 = 2$  м.

Из формулы (1) и графика вычисляем угловой коэффициент

$$k = \frac{1}{\rho S} = \frac{\Delta h_2 - \Delta h_1}{\Delta m_{\Gamma}} = \frac{0,7}{0,084} \left( \frac{\text{м}}{\text{кг}} \right) = 8,33 \left( \frac{\text{м}}{\text{кг}} \right)$$

и находим площадь поршня  $S = \frac{1}{k\rho} = \frac{1}{8330} \text{ м}^2 = 1,2 \text{ см}^2$ .

Из графика видно, что при  $m_{\Gamma} = 0$  прямая линия пересекает вертикальную ось в точке  $\Delta h_0 = 1,25$  м. В соответствии с (1) находим  $F_{\text{тр}} = \rho g S \Delta h_0 = 10^3 \cdot 10 \cdot 1,2 \cdot 10^{-4} \cdot 1,25 \text{ Н} = 1,5 \text{ Н}$ .

4. Из графика видно, что при  $\Delta h_x = 1,9$  м масса груза должна быть равной  $m_x = 78$  г.

№	Задача 1.8.4. Критерии оценивания (20 баллов)	Баллы
1	Получена зависимость (1)	5
2	Построен график зависимости $\Delta h(m_{\Gamma})$	5
	Указаны единицы измерения по обоим осям (1 балл)	
	Выбран разумный масштаб осей (1 балл)	
	Нанесены значения у делений осей (1 балл)	
	Нанесены экспериментальные точки (1 балл)	
	Через экспериментальные точки проведена прямая (1 балл)	
3	Найдена площадь поршня $S \in (1,15 \text{ см}^2 - 1,25 \text{ см}^2)$	4
	$S \in (1,10 \text{ см}^2 - 1,14 \text{ см}^2)$ или $(1,26 \text{ см}^2 - 1,30 \text{ см}^2)$ (2 балла)	
	$S \in (1,00 \text{ см}^2 - 1,09 \text{ см}^2)$ или $(1,31 \text{ см}^2 - 1,40 \text{ см}^2)$ (1 балл)	
4	С помощью графика определена $F_{\text{тр}}$ : $F_{\text{тр}} \in (1,45 \text{ Н} - 1,55 \text{ Н})$	4
	$F_{\text{тр}} \in (1,40 \text{ Н} - 1,44 \text{ Н})$ или $(1,56 \text{ Н} - 1,60 \text{ Н})$ (2 балла)	
	$F_{\text{тр}} \in (1,30 \text{ Н} - 1,39 \text{ Н})$ или $(1,61 \text{ Н} - 1,70 \text{ Н})$ (1 балл)	
5	Найдена масса груза $m_x$ : $m_x \in (76 \text{ г} - 80 \text{ г})$	2
	$m_x \in (73 - 75 \text{ г})$ или $(81 - 83 \text{ г})$ (1 балл)	