

**ВСЕРОССИЙСКАЯ ОЛИМПИАДА ШКОЛЬНИКОВ
ПО ОБЖ 2020–2021 уч. г. ШКОЛЬНЫЙ ЭТАП
5–6 классы**

ОТВЕТЫ И КРИТЕРИИ ОЦЕНИВАНИЯ

Максимальная оценка за работу – 200 баллов.

Тестовые задания

Определите один правильный ответ

За правильный ответ начисляется 4 балла

- 1 **Мигание красных наддверных огней поезда метро означает**
 - 1) «посадка запрещена»
 - 2) «высадка запрещена»
 - 3) «посадка разрешена»
 - 4) «высадка разрешена»

- 2 **Минимальная безопасная толщина льда при переходе через водоём одного человека должна составлять не менее**
 - 1) 12 см
 - 2) 7 см
 - 3) 5 см
 - 4) 15 см

- 3 **Если Вы встанете лицом к Полярной звезде, то справа будет направление на**
 - 1) запад
 - 2) восток
 - 3) юг
 - 4) север

- 4 **День пожарной охраны России отмечается**
 - 1) 27 декабря
 - 2) 30 апреля
 - 3) 4 октября
 - 4) 1 марта

- 5 **Дезинсекция представляет собой**
 - 1) обезвреживание (нейтрализация, разбавление) или удаление опасных химических веществ с поверхностей
 - 2) удаление (снижение) радиоактивного загрязнения поверхностей
 - 3) удаление (снижение) бактериального загрязнения поверхностей
 - 4) удаление членистоногих с поверхностей

- 6 **Верны ли утверждения?**
Газопылезащитный респиратор предназначен для защиты органов дыхания от
 - А. радиоактивных аэрозолей
 - Б. микробиологических аэрозолей, передающихся воздушно-капельным путём при эпидемиях и пандемиях
 - 1) верно только А
 - 2) верно только Б

3) верны оба суждения

4) оба суждения неверны

7 **Если Вы обнаружили бесхозный предмет в вагоне поезда метро, то необходимо незамедлительно связаться с**

1) полицейским

2) машинистом

3) дежурным по станции

4) сотрудником МЧС

8 **Верны ли следующие суждения?**

Школьник правильно сидит за рабочим столом, если

А. он сидит глубоко на стуле, ровно держит корпус и голову, ступни опираются на пол, угол сгибания в коленных и голеностопных суставах составляет около 90°

Б. расстояние от его глаз до поверхности стола равняется длине предплечья от локтя до конца пальцев

1) верно только А

2) верно только Б

3) верны оба суждения

4) оба суждения неверны

9 **Верны ли следующие суждения?**

Кровоостанавливающий жгут наложен правильно, если ниже места наложения жгута

А. пульс отсутствует

Б. конечность бледная

1) верно только А

2) верно только Б

3) верны оба суждения

4) оба суждения неверны

10 **Верны ли следующие суждения?**

Бинтовая повязка накладывается на конечности, как правило,

А. слева направо (по отношению к бинтующему)

Б. от периферии к центру

1) верно только А

2) верно только Б

3) верны оба суждения

4) оба суждения неверны

Порядок оценивания тестовых заданий с одним правильным ответом

- за правильный ответ начисляется **4 балла**;
- **0 баллов** выставляется за неправильный ответ, а также если участником отмечено более одного ответа (в том числе правильный).

Определите два правильных ответа

За каждый правильный ответ начисляется 4 балла

- 1 **Какой сигнальный цвет и какую геометрическую форму имеют знаки пожарной безопасности?**
 - 1) синий
 - 2) оранжевый
 - 3) квадрат
 - 4) красный
 - 5) круг

- 2 **Для тушения небольшого бытового возгорания можно воспользоваться**
 - 1) поваренной солью
 - 2) мукой
 - 3) плотной синтетической тканью
 - 4) стиральным порошком
 - 5) какао-порошком

- 3 **Какие растения являются ядовитыми?**
 - 1) актинидия острая
 - 2) белокопытник широкий
 - 3) анис
 - 4) борщевик
 - 5) вороний глаз

- 4 **К опасным геологическим явлениям и процессам относятся**
 - 1) сель
 - 2) обвал
 - 3) лавовый поток
 - 4) затор
 - 5) цунами

- 5 **По каким номерам в Российской Федерации возможно вызвать экстренные службы с сотового телефона?**
 - 1) 911
 - 2) 112
 - 3) 985
 - 4) 413
 - 5) 113

- 6 **К средствам индивидуальной защиты органов дыхания относятся**
 - 1) камера защитная детская
 - 2) щиток защитный лицевой
 - 3) респиратор
 - 4) скафандр
 - 5) гидроизолирующий костюм

- 7 **День солидарности в борьбе с терроризмом стал памятной датой после событий, произошедших в школе № 1 города Беслана**
1) 1–3 сентября
2) 2004 года
3) 23–26 октября
4) 14–19 июня
5) 1995 года
- 8 **Какие действия запрещены при оказании первой помощи пострадавшему с термическим ожогом при наличии целых и вскрывшихся пузырей?**
1) вскрывать пузыри
2) накладывать нетугую повязку
3) смазывать ожоговую рану маслами, жирами
4) прикладывать поверх повязки холод
5) поить пострадавшего
- 9 **Какие признаки характерны для ушиба конечности?**
1) отёк
2) деформация
3) кровоизлияние
4) кровотечение наружное
5) костный хруст
- 10 **Как правильно проверить наличие сознания у пострадавшего?**
1) слегка похлопать по щекам
2) обратиться с вопросом, например «что с Вами?»
3) аккуратно потрясти за плечи
4) надавить на точку, находящуюся между носом и верхней губой
5) растереть мочки ушей

Порядок оценивания тестовых заданий с несколькими правильными ответами

Максимальная оценка за каждое правильно выполненное задание – **8 баллов**, при этом:






- за каждый правильный ответ начисляется **4 балла**;
- **0 баллов** выставляется за неправильный ответ, а также если участником отмечены более двух ответов (в том числе правильные).

Максимум за тестовые задания – 120 баллов.

Теоретические задания

Задание 1

Установите соответствие между изображением дорожного знака и его наименованием.

	«Опасный поворот»
	«Выброс гравия»
	«Скользкая дорога»
	«Опасные повороты»
	«Пересечение с велосипедной дорожкой»
	«Прочие опасности»
	«Жилая зона»
	«Начало населённого пункта»
	«Пешеходная дорожка»
	«Пешеходный переход»

Оценка задания

Максимальная оценка за правильно выполненное задание – **20 баллов**, при этом:

- за каждое правильно установленное соответствие начисляется **4 балла**;
- при отсутствии правильных ответов баллы не начисляются.

Задание 2

Каждый визуальный сигнал «поверхность – воздух», применяемый при поисково-спасательных операциях, имеет определённое значение. Установите соответствие между изображением сигнала и его значением.

	«Нет, или отрицательно»
	«Ничего не обнаружено, продолжаем поиски»
	«Неспособны двигаться, требуется медицинская помощь»
	«Двигаемся в этом направлении»
	«Получены сведения, что воздушное судно находится в этом направлении»
	«Требуется помощь»
	«Требуется оружие и боеприпасы»






Оценка задания

Максимальная оценка за правильно выполненное задание – **20 баллов**, при этом:

- за каждое правильно установленное соответствие начисляется **4 балла**;
- при отсутствии правильных ответов баллы не начисляются.

Задание 3

Установите соответствие между изображением топографического знака и его наименованием.

	Редколесье
	Овраг
	Кустарники
	Луг
	Озеро. Проходимое болото

Оценка задания

Максимальная оценка за правильно выполненное задание – **20 баллов**, при этом:

- за каждое правильно установленное соответствие начисляется **4 балла**;
- при отсутствии правильных ответов баллы не начисляются.

Задание 4

При оказании первой помощи можно использовать аптечку первой помощи (автомобильную).

Вариант 1. Укажите какие средства или медицинские изделия входят в аптечку первой помощи (автомобильную).

Вариант 2. Укажите какие средства или медицинские изделия НЕ входят в аптечку первой помощи (автомобильную).

Средства или медицинские изделия	
1	 Бриллиантовый зелёный, 1%-ный спиртовой раствор
2	 Анальгин, таблетки
3	 Перчатки медицинские нестерильные смотровые
4	 Лейкопластырь рулонный
5	 Устройство для проведения искусственного дыхания «Рот–устройство–рот»
6	 Шина складная
7	 Бинт марлевый медицинский стерильный 7 м x 14 см

8		Губка гемостатическая коллагеновая
9		Жгут кровоостанавливающий
10		Йод, 5%-ный спиртовой раствор

Ответ:

Вариант 1	Вариант 2
3, 4, 5, 7, 9	1, 2, 6, 8, 10

Оценка задания

Максимальная оценка за правильно выполненное задание – **20 баллов**, при этом:

- за каждый правильный ответ начисляется по **4 балла**;
- если указано более 5 ответов (в том числе правильные), то выставляется **0 баллов**;
- при отсутствии правильных ответов баллы не начисляются.

Максимальная оценка за работу – 200 баллов.