

# Пригласительный (пробный) этап ВсОШ в городе Москве, ОБЖ, 4-5 класс, 2021

10:00—21:00 19 апр 2021 г.

## Тестовые задания

Определите один правильный ответ

За правильный ответ начисляется 2 балла

№ 1

2 балла

Как покинуть троллейбус, если произошёл обрыв контактного провода?

- через окно, положив на края рамы что-нибудь из одежды
- через дверь приставными шагами
- через дверь прыжком
- через люк, обмотав руки одеждой

**№ 2**

---

2 балла

Перпендикуляр, проведённый к Земле от Полярной звезды, покажет направление на

север

юг

запад

восток

**№ 3**

---

2 балла

В толпе НЕ ПРЕДСТАВЛЯЮТ опасности

острые предметы (броши, браслеты, кулоны)

длинные подолы юбок

каблуки и шлёпанцы

облегающая обувь

**№ 4**

---

2 балла

Ветер разрушительной силы и значительной продолжительности, скорость которого превышает 32 м/с является

**циклоном**

**ураганом**

**смерчем**

**торнадо**

**№ 5**

---

2 балла

Какой цвет имеют знаки пожарной безопасности, используемые для обозначения путей эвакуации?

**красный**

**жёлтый**

**зелёный**

**синий**

№ 6

---

2 балла

Какое растение является смертельно ядовитым

- кислица**
- горец змеиный**
- вороний глаз четырёхлистный**
- ревень**

№ 7

---

2 балла

Что рекомендуют сделать при звонке с угрозой террористического акта?

- положить трубку и не слушать говорящего**
- внимательно выслушать сообщение, отметить особенности голоса, сообщить полиции**
- постараться вести долгий диалог с преступником**
- сделать попытку убедить не совершать теракт**

**№ 8**

---

2 балла

О начале утомления свидетельствует

- нарушение сна
- плохой аппетит
- появление чувства усталости
- частые простудные заболевания

**№ 9**

---

2 балла

Укажите соотношение давлений руками на грудину пострадавшего и вдохов ИВЛ при выполнении СЛР.

- 5 надавливаний и 1 вдох
- 15 надавливаний и 2 вдоха
- 30 надавливаний и 2 вдоха
- 20 надавливаний и 2 вдоха

№ 10

---

2 балла

При повреждении мелких артерий кистей и стоп основным способом остановки кровотечения считается

наложение кровоостанавливающего жгута

наложение давящей повязки

применение закрутки

максимальное сгибание конечности

### Тестовые задания

Определите два правильных ответа

За каждый правильный ответ начисляется 2 балла

№ 1

---

4 балла

Если во время приготовления пищи на сковороде вспыхнуло масло, то рекомендуется

выключить плиту и залить огонь водой

выключить плиту и засыпать сковороду стиральным порошком

выключить плиту и накрыть сковороду крышкой

выключить плиту, взять сковороду, вылить горящее масло в раковину и залить водой

выключить плиту и засыпать огонь мукой

№ 2

---

4 балла

Какие из перечисленных признаков могут указывать на наличие брода?

сужение реки на прямом участке

быстрое течение

отмель

чистая вода

перекаты

№ 3

---

4 балла

Где должен передвигаться пешеход согласно ПДД?

по тротуару

по правому краю проезжей части

по велосипедной дорожке

по пешеходной дорожке

по левому краю проезжей части

**№ 4**

---

4 балла

Какие существуют виды противогазов по принципу защитного действия?

- детские
- фильтрующие
- изолирующие
- гражданские
- смешанные

**№ 5**

---

4 балла

Во время землетрясения безопаснее всего расположиться

- возле оконного проёма
- в широком коридоре
- в узком коридоре
- в центре комнаты
- в дверном проёме, предварительно открыв двери



№ 6

---

4 балла

Какие из указанных признаков могут служить предвестниками ухудшения погоды?

- низкие облака
- высокие перистые облака
- повышение давления
- вечерняя заря ярко-красного цвета
- уменьшение скорости ветра

№ 7

---

4 балла

Если Вы оказались в числе заложников в общественном месте, то для обеспечения личной безопасности рекомендуется

- сообщить о захвате в полицию
- продемонстрировать лояльность к террористам
- оставаться на своём месте
- не привлекать внимания террористов
- постараться войти в доверие к террористам

№ 8

---

4 балла

Какие упражнения развивают силу мышц?

- с внешним сопротивлением
- с выполнением наклонов и махов
- требующие высокой скорости
- с преодолением веса собственного тела
- упражнения на удержание равновесия

№ 9

---

4 балла

При укусе пчелы рекомендуется

- потереть место укуса землёй
- удалить жало
- смазать место укуса подсолнечным маслом
- зафиксировать конечность
- приложить холод

**№ 10**

---

4 балла

При носовом кровотечении рекомендуется

- наклонить голову вперёд
- запрокинуть голову назад
- повернуть голову набок
- приложить холод к переносице
- приложить тепло к переносице

**Теоретические задания**

№ 1

10 баллов

При эвакуации эвакуируют не только население, но и материальные и культурные ценности. Что из предложенного списка, по Вашему мнению, относится к культурным ценностям, а что к материальным?

Медицинское имущество

Российский библиотечный фонд

Производственное и научное оборудование

Золотовалютные резервы

Экспонаты музеев

Запасы зерновых культур, семян и фуража

Электронные информационные ресурсы на жёстких носителях

Медицинское оборудование

Запасы драгоценных камней и металлов

Ценные бумаги

Материальные ценности

Культурные ценности

**№ 2**

12 баллов





Одним из видов закаливания является закаливание воздухом. Заполните таблицу, выбрав названия воздушных ванн в зависимости от тепловых ощущений (температуры, °С).

Температура, °С	Вид воздушных ванн
выше 22	Ответ <input type="text"/>
21-22	Ответ <input type="text"/>
17-20	Ответ <input type="text"/>
9-16	Ответ <input type="text"/>
0-8	Ответ <input type="text"/>
ниже 0	Ответ <input type="text"/>

**№ 3 – 4**

8 баллов

Напишите наименование дорожных знаков согласно ПДД.

	
Ответ <input type="text"/>	Ответ <input type="text"/>
	
Ответ <input type="text"/>	Ответ <input type="text"/>

2 балла

Выберите два знака, которые запрещают движение пешеходов.



## № 5

8 баллов

Одной из опасных ЧС природного характера является извержение вулкана. Вулканические явления принадлежат к величественным и в то же время грозным, катастрофически стремительным процессам, перед которыми человек бессилён и которые он изучает.

Расположите предложенные фрагменты в верной последовательности, чтобы в итоге получилось определение.

1	их развитие, строение и
2	и причины образования вулканов,
3	закономерности размещения вулканов,
4	наука, изучающая процессы
5	состав продуктов извержения,
6	изменения характера их деятельности

Запишите термин, определение которому Вы составили.

Ответ