

ВСЕРОССИЙСКАЯ ОЛИМПИАДА ШКОЛЬНИКОВ

2021 уч. г.

Пригласительный этап.**История. 4 класс.**

№ задания	Тип задания	Критерии
1	Выбрать один ответ	Максимум за задание – 1 балл.
2-3	Выбрать несколько ответов	За каждый правильный ответ – 1 балл. Если выбрано больше трех утверждений, то 0 баллов. Максимум за задания – 6 баллов.
4	Установить соответствия	По 1 баллу за каждую верную пару. Максимум за задание – 8 баллов.
5	Выбрать несколько ответов	За каждый правильный ответ – 1 балл. Если выбрано больше пяти утверждений, то 0 баллов. Максимум за задание – 5 баллов.
6-8	Выбрать один ответ	Максимум за задания – 3 балла.
9	Выбрать несколько ответов	За каждый правильный ответ – 1 балл. Если выбрано больше трёх утверждений, то 0 баллов. Максимум за задание – 3 балла.
10	Выбрать один ответ	Максимум за задание – 6 баллов.

Максимум за работу – 32 балла.

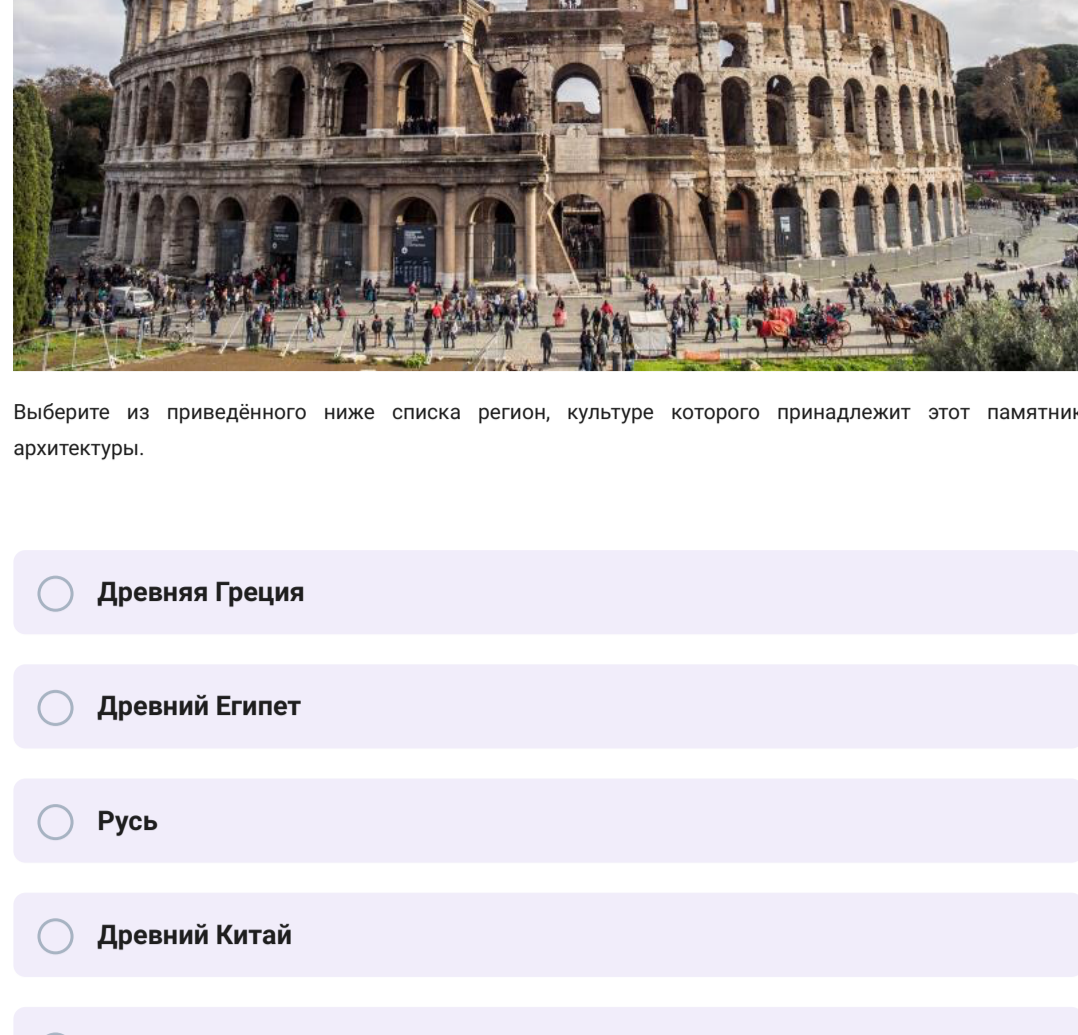
Пригласительный (пробный) этап ВсОШ в городе Москве, история, 4 класс, 2021

10:00–21:00 14 май 2021 г.

№ 1 – 3

1 балл

Рассмотрите изображение и выполните предложенные задания.



Выберите из приведённого ниже списка регион, культуре которого принадлежит этот памятник архитектуры.

Древняя Греция

Древний Египет

Русь

Древний Китай

Индия

Древний Рим

3 балла

Выберите три верных названия данного объекта.

Гладаторские бои

Морские сражения

Рыночная торговля

Заседания Сената

Праздничные мероприятия

Наблюдения за звёздами

3 балла

Выберите трёх богов, которым поклонялись жители региона, создавшие изображённый памятник архитектуры.

Перун

Марс

Ра

Юпитер

Венера

Зевс

№ 4

8 баллов

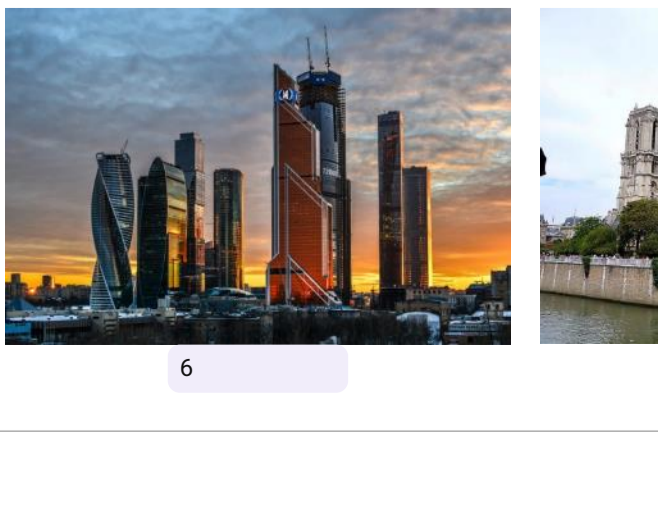

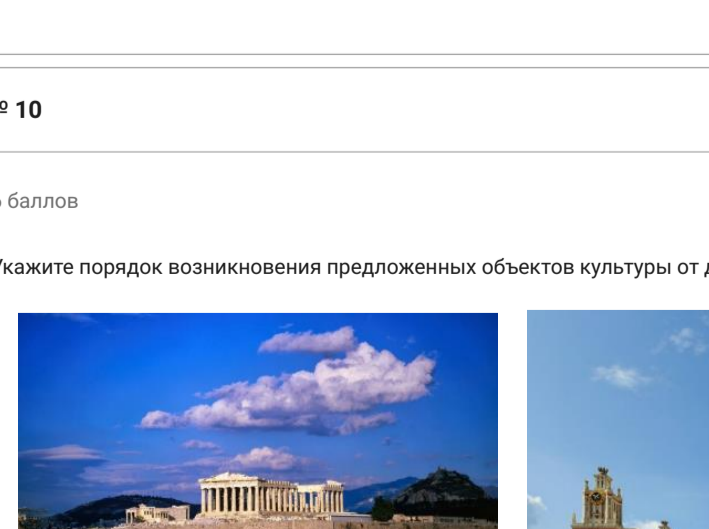
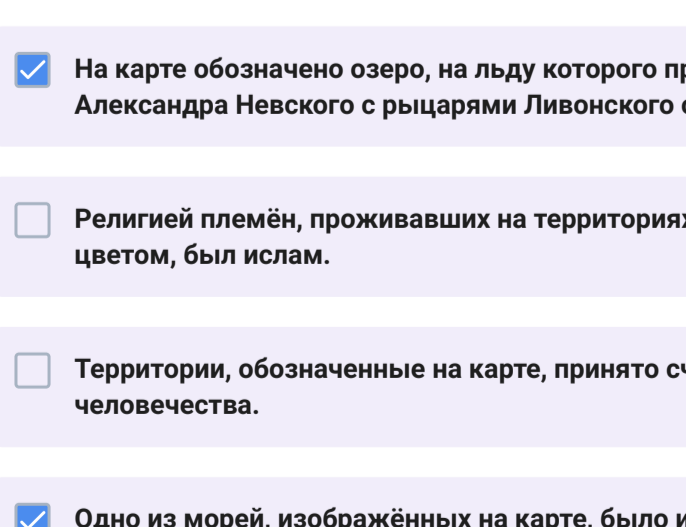
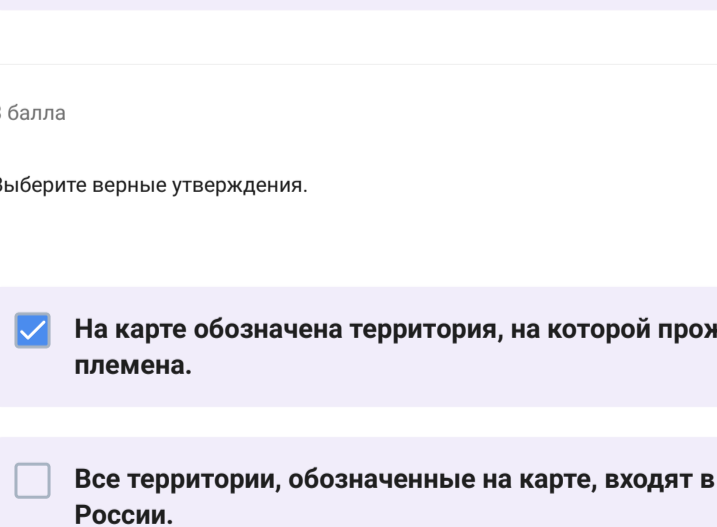
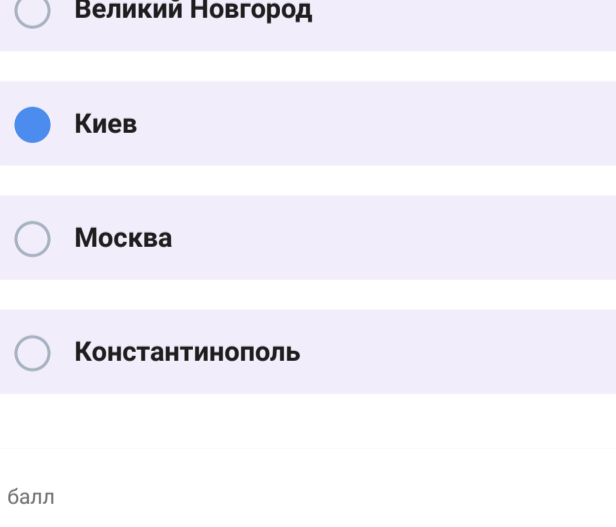
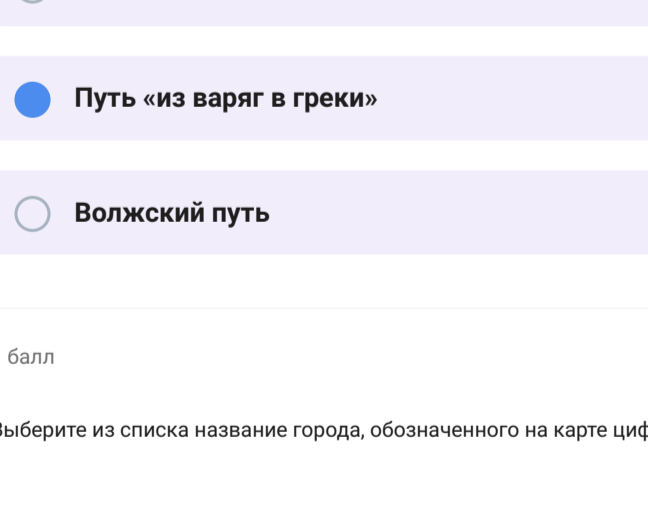
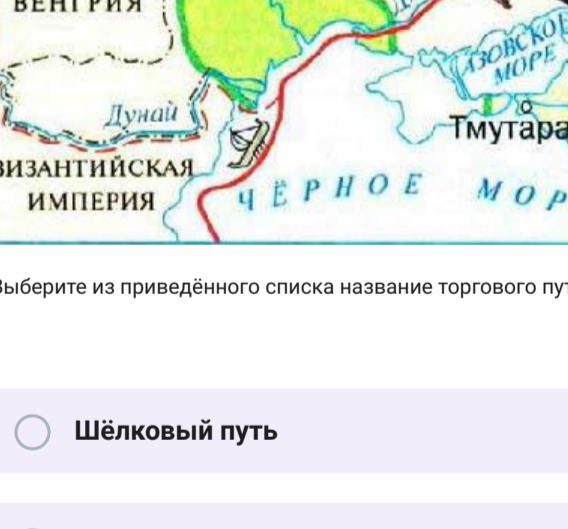
Распределите перечисленные ниже события на две группы: произошедшие до нашей эры и в нашу эру.

Создание первого алфавита		До нашей эры
Изобретение книгопечатания Иоганном Гутенбергом		До нашей эры
Путешествие Христофора Колумба		Наша эра
Строительство египетских пирамид		До нашей эры
Эпоха рыцарства		Наша эра
Появление первых письменных записей		Наша эра
Путешествия финикийских мореплавателей		Наша эра
Образование России		Наша эра

№ 5

5 баллов

Выберите пять изображений из представленных ниже, которые связаны с событиями Великой Отечественной войны.



№ 6 – 9

1 балл

Рассмотрите представленную карту и ответьте на вопросы.

Выберите из приведённого списка название торгового пути, обозначенного на карте красной линией.

Шёлковый путь

Золотой путь

Путь «из варяг в греки»

Волжский путь

1 балл

Выберите из списка название города, обозначенного на карте цифрой I.

Великий Новгород

Киев

Москва

Константинополь

1 балл

Выберите из приведённого списка год, когда Рюрик начал править в городе, обозначенном на карте цифрой II.

858 г.

862 г.

879 г.

882 г.

3 балла

Выберите верные утверждения.

На карте обозначена территория, на которой проживали славянские племена.

Все территории, обозначенные на карте, входят в состав современной России.

На карте обозначено озеро, на льду которого произошла битва дружины Александра Невского с рыцарями Ливонского ордена.

Религий племён, проживавших на территориях, обозначенных зелёным цветом, был ислам.

Территории, обозначенные на карте, принято считать «колыбелью» человечества.

Одно из морей, изображённых на карте, было известно древним грекам.

№ 10

6 баллов

Укажите порядок возникновения предложенных объектов культуры от древних к современным (от 1 к 6).

