

**Инструкция по заполнению листа ответов тестового тура**

- Листы с тестовыми заданиями остаются у участников, их можно использовать в качестве черновиков.
- В листе ответов каждому вопросу соответствует поле для ответа. Необходимо вписать в поле **ТОЛЬКО ОДИН** вариант ответа (А – Г), который вы считаете правильным.
- Исправления в листе ответов **НЕДОПУСТИМЫ**. Ответы, где есть исправления не рассматриваются и не оцениваются.
- За правильный ответ на один вопрос начисляется **1 балл**. Максимальная оценка – **30 баллов**.

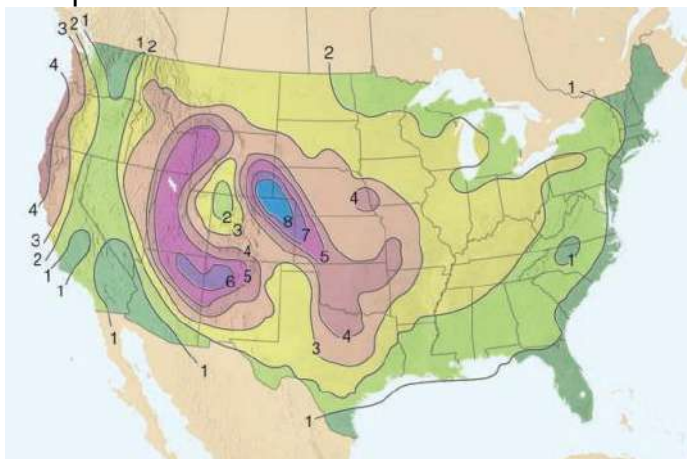
1. Где 22 декабря Солнце весь день находится ниже линии горизонта?

- А. Анадырь и Корф  
 Б. Норильск и Воркута  
 В. Сусуман и Омсукчан  
 Г. Котлас и Сургут

2. В каком из этих перечисленных субъектов РФ можно оказаться выше всего относительно уровня моря?

- А. Астраханская область  
 Б. Ивановская область  
 В. Омская область  
 Г. Саратовская область

3. Что изображено на карте?



- А. Максимальная толщина сугробов, дюймов  
 Б. Повторяемость гроз, раз в год  
 В. Повторяемость торнадо, раз в год  
 Г. Среднее число дней с градом, в год

4. Какой из этих городов никогда не был региональным центром?

- А. Арзамас  
 Б. Балашов  
 В. Великие Луки  
 Г. Тольятти

5. Какая из рек НЕ относится к бассейну внутриматерикового стока?

- А. Амударья  
 Б. Селенга  
 В. Тарим  
 Г. Вожа

6. Строящийся в Саудовской Аравии The Line представляет собой сплошной линейный небоскрёб шириной 200 м. Площадь плоской крыши здания составит 34 млн кв. м. На карте какого масштаба длина небоскрёба будет равна 2 см?

- А. 1:1 700 000  
 Б. 1:2 500 000  
 В. 1:8 500 000  
 Г. 1:85 000 000

7. Что изображено на аэрофотоснимке в виде тёмных параллельных полос?



- А.** Виноградники
- Б.** Жилые кварталы

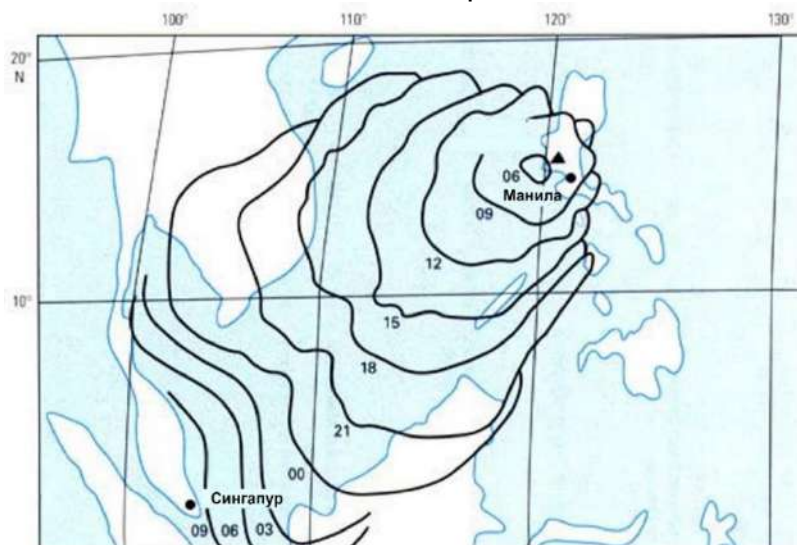
- В.** Солнечные батареи
- Г.** Устричные фермы

**8.** Для какого района Земли характерны наиболее выраженные температурные инверсии?

- А.** Акватории центральной части Индийского океана
- Б.** Внутренние территории Антарктиды

- В.** Внутренние территории Сахары
- Г.** Центральная часть Западно-Сибирской равнины

**9.** Последствия какого события показаны на карте?



- А.** Извержение вулкана
- Б.** Авария на атомной электростанции

- В.** Тайфун
- Г.** Разлив нефти

**10.** Какая из этих стран имеет наибольшую протяжённость береговой линии?

- А.** Судан
- Б.** Намибия

- В.** Джибути
- Г.** Демократическая Республика Конго

**11.** В какой из перечисленных стран доля жителей, родившихся за ее пределами, максимальна?

- А.** Дания
- Б.** Индия

- В.** Люксембург
- Г.** Филиппины

12. Для какого города основными отраслями специализации являются точное машиностроение и производство безалкогольных напитков?

- А. Минеральные Воды  
Б. Новая Ляля  
В. Тосно  
Г. Черноголовка

13. Какое утверждение является верным?

- А. Поророка – наименование цунами у индейцев Центральной и Южной Америки  
Б. Геоглифы – россыпные месторождения драгоценных камней в Перу и Колумбии  
В. Томболо – песчаная коса, которая причленяет бывший остров к суше  
Г. Росарио – холодный штормовой северный ветер в Аргентине и Уругвае

14. Кто из этих исследователей НЕ изучал Антарктику?

- А. Дуглас Моусон  
Б. Александр Маккензи  
В. Жюль Дюмон-Дюрвиль  
Г. Арчибальд Мак-Мердо

15. В каком городе сосредоточено более 50% мирового производства футбольных мячей?

- А. Бостон (США)  
Б. Пематангсиантар (Индонезия)  
В. Сиалкот (Пакистан)  
Г. Херцогенаурах (Германия)

16. Какое из перечисленных государств входит в Европейскую ассоциацию свободной торговли (ЕАСТ)?

- А. Босния и Герцеговина  
Б. Исландия  
В. Люксембург  
Г. Черногория

17. Какое европейское государство не меняло административных границ с XIII века?

- А. Андорра  
Б. Австрия  
В. Греция  
Г. Дания

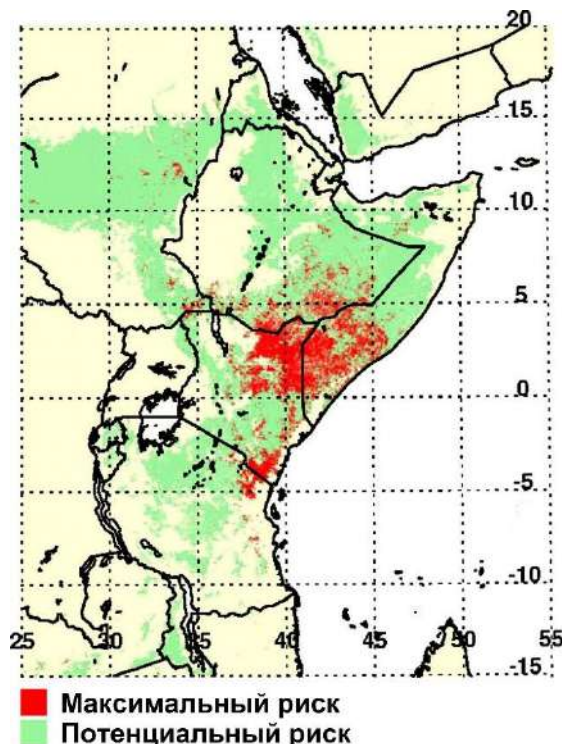
18. Что образуется при смыкании тёплого и холодного фронтов циклона?

- А. Антициклон  
Б. Интрузия  
В. Торнадо  
Г. Фронт окклюзии

19. На какую страну приходится более 30% валового сбора авокадо в мире?

- А. Ливия  
Б. Мавритания  
В. Мексика  
Г. Япония

20. Очаг какого вирусного заболевания изображён на карте?



А. Болезнь Лайма

Б. Геморрагическая лихорадка Эбола

В. Лихорадка Рифтовой долины

Г. Пятнистая лихорадка Скалистых гор

21. Каким в норме будет атмосферное давление на уровне Мёртвого моря, если на уровне Мирового океана оно составляет 760 мм рт. ст.?

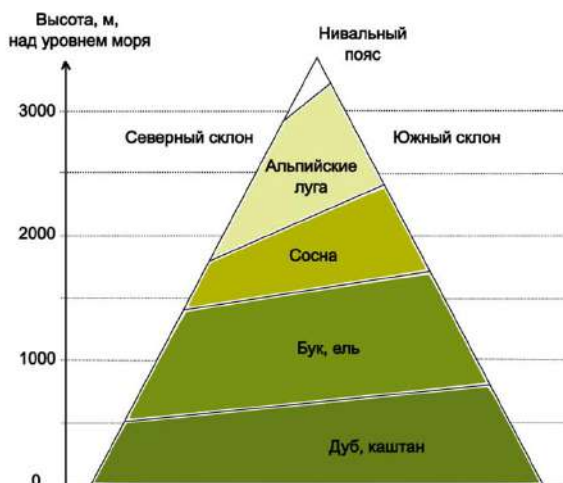
А. около 700 мм рт. ст.

Б. около 750 мм рт. ст.

В. около 800 мм рт. ст.

Г. около 850 мм рт. ст.

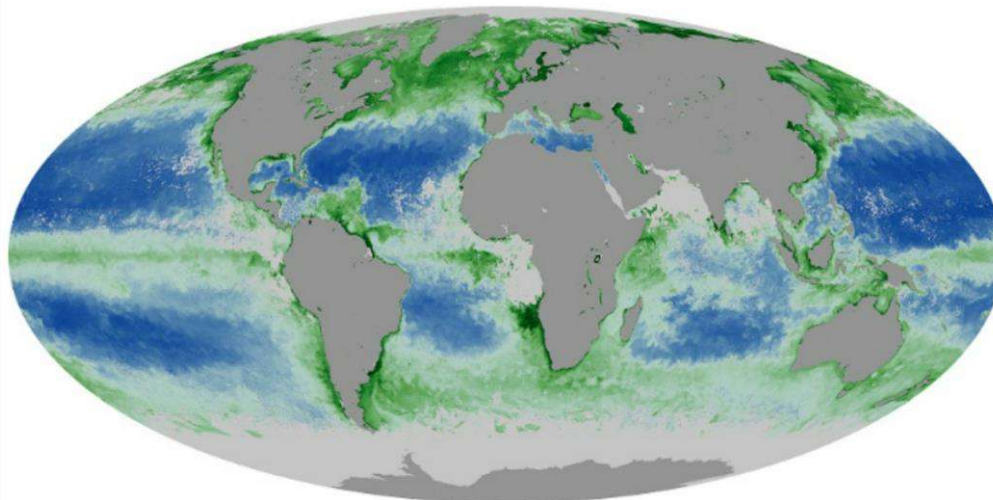
22. Профиль высотной поясности какой горной системы изображён на рисунке?



А. Карпаты  
Б. Пиренеи

В. Саяны  
Г. Сихотэ-Алинь

23. Для какого месяца характерно распределение концентрации хлорофилла в Мировом океане, которое показано на карте?



Хлорофилл, мг/м<sup>3</sup>



- А. Январь  
Б. Март

- В. Август  
Г. Ноябрь

24. Крупное месторождение какого металла расположено в пустыне Атакама?

- А. Алюминий  
Б. Олово

- В. Кобальт  
Г. Литий

25. Какой морской маршрут с открытием Панамского канала сократился более чем в два раза?

- А. Балтимор – Сингапур  
Б. Вальпараисо – Ванкувер

- В. Нью-Йорк – Сан-Франциско  
Г. Сидней – Лос-Анджелес

26. Какой часовой пояс использовался в Либерии до 1972 года?

- А. UTC-2:34  
Б. UTC-0:44

- В. UTC+1:24  
Г. UTC+3:24

27. На каком языке преимущественно снимают фильмы в городе, киноиндустрия которого получила название «Dhallywood»?

- А. Бенгали  
Б. Малаялам

- В. Панджаби  
Г. Хауса

28. Территория какого современного государства являлась частью вице-королевства Новой Гранады?

- А. Аргентина  
Б. Колумбия

- В. Никарагуа  
Г. Суринам

29. В каком из перечисленных субъектов Российской Федерации расположен завод по производству гелия?

- А. Республика Татарстан  
Б. Самарская область

- В. Оренбургская область  
Г. Ставропольский край



30. На каком снимке показан фрагмент территории Центральной Европы?

