



ВСЕРОССИЙСКАЯ ОЛИМПИАДА ШКОЛЬНИКОВ  
ПРАВО. 2022–2023 уч. г.  
МУНИЦИПАЛЬНЫЙ ЭТАП. 11 КЛАСС  
ОТВЕТЫ И КРИТЕРИИ ОЦЕНИВАНИЯ

**Максимальная оценка за работу – 274 балла.**

**Часть 1**

***Задания № 1–15. Выберите один или несколько правильных ответов.***

**1.** Выберите виды соучастников по УК РФ.

- А) организатор
- Б) подстрекатель
- В) пособник
- Г) зачинщик
- Д) подговорщик
- Е) исполнитель

**Ответ:** А, Б, В, Е.

**2.** С каким государством Российская Федерация заключила соглашения о признании двойного гражданства, которые действуют на сегодняшний день?

- А) Республика Казахстан
- Б) Республика Таджикистан
- В) Республика Туркменистан
- Г) Государство Израиль
- Д) Республика Молдова
- Е) Латвийская республика
- Ж) Литовская республика
- З) Франция
- И) Федеративная республика Германия
- К) Швейцарская Конфедерация

**Ответ:** Б.

**3.** Кто является автором слов современного гимна Российской Федерации?

- А) Тургенев И.С.
- Б) Цветаева М.И.
- В) Эренбург И.Г.
- Г) Михалков Н.С.
- Д) Пушкин А.С.
- Е) Есенин С.А.
- Ж) Барто А.Л.
- З) Булгаков М.А.
- И) Бунин И.А.
- К) Гроссман В.С.
- Л) нет верного ответа

**Ответ:** Л.

**4.** Имя монарха, который правит в Британии по состоянию на 7 декабря 2022 г.

- А) Карл II
- Б) Чарльз I
- В) Елизавета II
- Г) Георг III
- Д) Эдвард II
- Е) Оливер IV
- Ж) Гарри I
- З) Карл III

**Ответ:** З.

**5.** Сторонники какой теории права полагали, что в основе права должны лежать правила поведения, нормы, которые формулируют суды при вынесении решений?

- А) историческая
- Б) позитивистская
- В) реалистическая
- Г) нормативистская
- Д) феноменологическая
- Е) психологическая
- Ж) солидаристская

**Ответ:** В.

6. В каких случаях расторжение брака производится в органах ЗАГС по заявлению одного из супругов независимо от наличия у супругов общих несовершеннолетних детей?

- А) другой супруг отсутствует 4 года по месту жительства
- Б) другой супруг признан умершим
- В) другой супруг осуждён за совершение преступления к лишению свободы на срок 3 года
- Г) другой супруг осуждён за совершение преступления к пожизненному лишению свободы
- Д) другой супруг переехал на постоянное место жительства в иностранное государство

**Ответ:** Г.

7. Какой должна быть минимальная разница в возрасте усыновителя и усыновлённого, если ребёнка усыновляет мачеха?

- А) 18 лет
- Б) 16 лет
- В) 14 лет
- Г) 12 лет
- Д) 10 лет
- Е) минимальный возраст не установлен

**Ответ:** Е.

8. Какие регионы Российской Федерации с 1991 г. были самостоятельными, но затем вошли в состав других регионов Российской Федерации?

- А) Корякский автономный округ
- Б) Самарская область
- В) Коми-Пермяцкий автономный округ
- Г) Мурманская область
- Д) Чернозёмная область
- Е) Ивановская область

**Ответ:** А, В.

9. Выберите объекты, которые включены в список всемирного наследия ЮНЕСКО и расположены в Северо-Западном федеральном округе.

- А) Московский Кремль
- Б) культурно-исторический ансамбль Соловецких островов
- В) вулканы Камчатки
- Г) Куршская Коса
- Д) ансамбль Новодевичьего монастыря
- Е) исторический центр Санкт-Петербурга
- Ж) озеро Байкал

**Ответ:** Б, Г, Е.

**10.** Как часто в течение календарного года сдаются квартальные расчёты по страховым взносам в РФ?

- А) 1 раз в год
- Б) 2 раза в года
- В) 3 раза в год
- Г) 4 раза в год
- Д) 6 раз в год
- Е) 12 раз в год

**Ответ:** Г.

**11.** Как называется заявление об использовании лесов в соответствии с проектом освоения лесов?

- А) лесной отчёт
- Б) лесной баланс
- В) лесной расчёт
- Г) лесная декларация
- Д) лесная ведомость
- Е) лесной ордер

**Ответ:** Г.

**12.** Какие способы обеспечения исполнения обязательств поименованы в ГК РФ?

- А) неустойка
- Б) обеспечительный платёж
- В) задаток
- Г) аванс
- Д) залог
- Е) предикат

**Ответ:** А, Б, В, Д.

**13.** Как называется штраф, назначаемый судом по требованию и в пользу кредитора за неисполнение должником обязательства, установленного судебным актом?

- А) пеня
- Б) апостиль
- В) аваль
- Г) эстоппель
- Д) астрент

**Ответ:** Д.

**14.** Чему равен срок исковой давности по требованиям, которые вытекают из договора страхования риска ответственности по обязательствам, возникающим вследствие причинения вреда жизни?

- А) 1 год
- Б) 2 года
- В) 3 года
- Г) 5 лет
- Д) 10 лет

**Ответ:** В.

**15.** Гражданин приобрёл подарочный сертификат, который даёт право выбрать в магазине товары на определённую сумму. Срок действия сертификата составляет 10 месяцев. По окончании этого срока воспользоваться им будет нельзя. Что заключил гражданин?

- А) опцион на заключение договора
- Б) опционный договор
- В) абонентский договор
- Г) рамочный договор
- Д) нет правильного ответа

**Ответ:** Б.

*По 2 балла за каждый полностью правильный ответ, любая ошибка – 0 баллов, максимум – 30 баллов.*

## Часть 2

1. Посмотрите на приведённый документ. Вставьте пропущенные слова на места пропусков.

**РОССИЙСКАЯ ФЕДЕРАЦИЯ**



\_\_\_\_\_ (1)

на товарный знак (знак \_\_\_\_\_ (2))  
№ **000000**

**ВАШ  
ТОВАРНЫЙ  
ЗНАК**

Правообладатель: *Общество с ограниченной ответственностью*  
**НАИМЕНОВАНИЕ КОМПАНИИ, Адрес, (RU)**

Заявка № **НОМЕР**  
Приоритет товарного знака **ДАТА ПОДАЧИ ЗАЯВКИ**  
Зарегистрировано в Государственном \_\_\_\_\_ (3)  
товарных знаков и знаков \_\_\_\_\_ (2)  
Российской Федерации **ДАТА РЕГИСТРАЦИИ**  
Срок действия регистрации истекает **ДАТА ЗАЯВКИ + (4) ЛЕТ**

Дубликат выдан Федеральной \_\_\_\_\_ (5)  
по интеллектуальной собственности **ДАТА ВЫДАЧИ**

Врио руководителя  Л.Л. Кирий

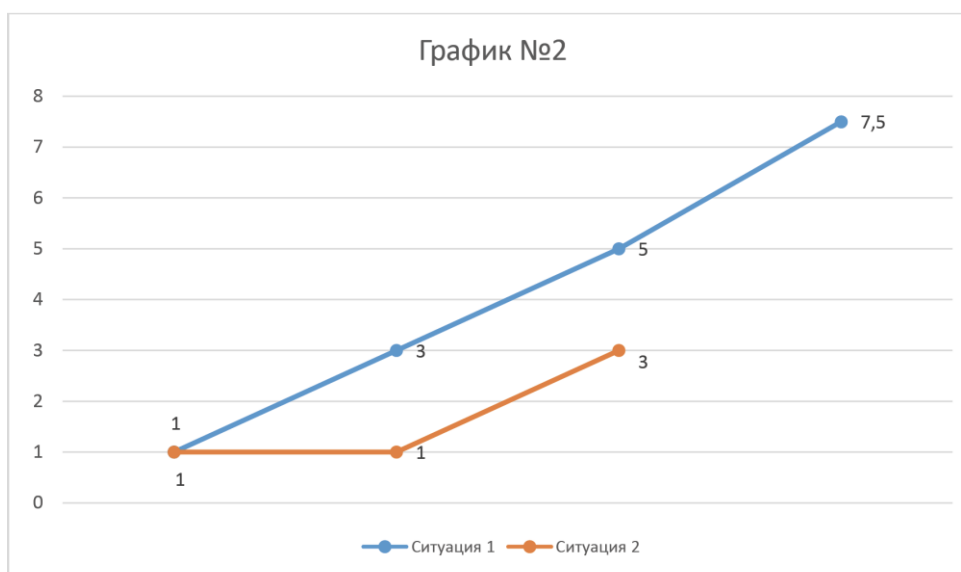
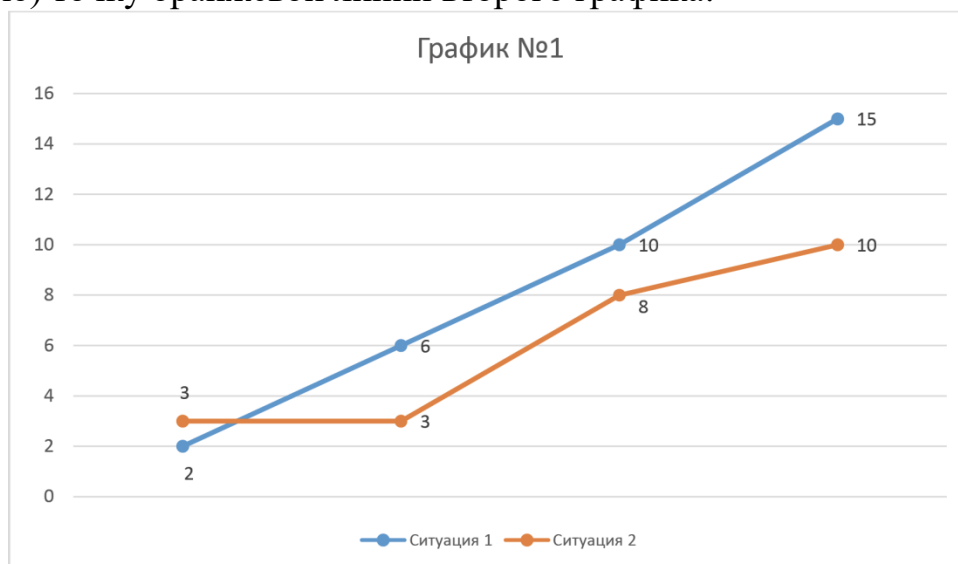


## Ответы

- 1) свидетельство
- 2) обслуживания
- 3) реестре
- 4) 10
- 5) службой

*По 2 балла за каждое правильно указанное слово. Максимум за задание – 10 баллов.*

2. Внимательно изучите два графика. Оба графика связаны между собой, но регулируют разные категории лиц. Синяя линия в обоих графиках отражает динамику в ситуации № 1, оранжевая линия в обоих графиках – динамику в ситуации № 2. Основываясь на знании права, определите последнюю (четвёртую) точку оранжевой линии второго графика.



**Ответ: 3. Правильный ответ – 7 баллов, любая ошибка – 0 баллов.**

Объяснение: оба графика связаны с уголовным правом и иллюстрируют два института: сроки давности привлечения к уголовной ответственности (синяя линия) и сроки погашения судимости (оранжевая линия). Каждая из точек показывает соответствующий срок для одной из четырёх категорий: точка № 1 – небольшая тяжесть, точка № 2 – средняя тяжесть, точка № 3 – тяжкие, точка № 4 – особо тяжкие.

График № 1 регулирует соответствующие вопросы в отношении совершеннолетних лиц, а график № 2 – в отношении несовершеннолетних лиц. Таким образом, определив, что оранжевая линия связана со сроками погашения судимости, а график № 2 – с несовершеннолетними, определяется верный ответ: 3, так как 3 года – срок погашения судимости за особо тяжкие преступления для несовершеннолетних.

**3.** Соотнесите отрывок из Конституции и государство, цитата из Конституции которого приведена. Будьте внимательны, количество стран больше, чем приведено отрывков.

1) Члены Бундесрата и Федерального правительства, а также их уполномоченные имеют право присутствовать на всех заседаниях Бундестага и его комиссии. Они должны быть заслушаны в любое время	А) Бельгия
2) Органические законы могут быть промульгированы только после того, как Конституционный совет объявит об их соответствии Конституции	Б) Лихтенштейн
3) Споры между кантонами или между кантонами Союзом разрешаются по возможности через переговоры и посредничество	В) Нидерланды
4) Государство и Католическая церковь независимы и суверенны в принадлежащей каждому из них сфере. Их отношения регулируются Латеранскими соглашениями	Г) Люксембург
5) Существуют правительство Французского сообщества и правительство Фламандского сообщества, состав и порядок деятельности которых определяются законом, принятым большинством, предусмотренным последним абзацем статьи 4 Конституции	Д) ФРГ
6) Как только Король вновь становится способным исполнять королевские полномочия, данный факт устанавливается Актом парламента. Указанный Акт принимается на совместном заседании обеих палат Генеральных штатов	Е) Финляндия



7) Ландтаг состоит из 25 депутатов, избираемых народом всеобщим, равным, тайным и прямым голосованием по системе пропорционального представительства. Горная и низменная часть страны составляют каждая отдельный избирательный округ. Из 25 депутатов 15 избираются горной частью и 10 – низменной	Ж) Монако
8) Фолькетинг состоит из одной палаты, в состав которой входят не более 179 депутатов, в том числе 2 депутата от Фарерских островов и 2 – от Гренландии	З) Венгрия
9) Великий Герцог является главой государства, символом единства и гарантом национальной независимости. Он осуществляет исполнительную власть в соответствии с Конституцией и законами страны	И) Австрия
10) Эдускунта имеет право получать информацию от Государственного совета, справки, необходимые ей для рассмотрения дела	К) Франция
	Л) Швеция
	М) Швейцарская Конфедерация
	Н) Дания
	О) Италия
	П) США

**Ответы**

<b>1</b>	<b>2</b>	<b>3</b>	<b>4</b>	<b>5</b>	<b>6</b>	<b>7</b>	<b>8</b>	<b>9</b>	<b>10</b>
Д	К	М	О	А	В	Б	Н	Г	Е

*По 1 баллу за каждое правильно указанное соответствие. Максимум за задание – 10 баллов.*

**4.** В 1972 году на экраны вышла комедия режиссера Эльдара Рязанова «Старики-разбойники». Кинокартина пользовалась большим успехом: за первый год её посмотрели 31,5 млн человек. Фильм стал одним из лидеров советского кинопроката.

В основе сценария лежит история о 60-летнем следователе прокуратуры Мячикове Николае Сергеевиче, которому очень не хотелось уходить на пенсию. Его друг Валентин Петрович Воробьёв предложил ему устроить «преступление века», а потом тут же раскрыть это громкое дело, чтобы доказать незаменимость Мячикова на службе. План Воробьёва был дерзок, элегантен и прост, как всё великое!



Рассмотрите внимательно изображения кадров из кинокартины и ответьте на вопросы.

**4.1.** Являются ли следователи сотрудниками прокуратуры в современной системе правоохранительных органов?

- А) да
- Б) нет

**Ответ:** Б. *Правильный ответ – 1 балл.*

**4.2.** В каком году Следственный комитет при прокуратуре Российской Федерации был преобразован в самостоятельное ведомство?

**Ответ:** 2011. *Правильный ответ – 1 балл.*

**4.3.** Каким родовым термином Уголовного кодекса РФ следует охарактеризовать преступление, совершённое героями в эпизоде киноленты? Напишите только ОДНО слово.

**Ответ:** хищение. *Правильный ответ – 2 балла.*

**4.4.** Как называется форма соучастия, в которой действовали герои при совершении преступления?

- А) группа лиц
- Б) группа лиц по предварительному сговору
- В) организованная группа
- Г) преступное сообщество

**Ответ:** Б. *Правильный ответ – 1 балл.*

**4.5.** Представим, что Мячиков выходит на пенсию в 2022 году в связи с достижением предельного возраста пребывания на занимаемой должности. Укажите его максимальный возраст, при условии, что Мячиков

а) Генеральный прокурор РФ

**Ответ:** 70 лет. *Правильный ответ – 1 балл.*

б) Прокурор города Москвы

**Ответ:** 70 лет. *Правильный ответ – 1 балл.*

в) Прокурор Зюзинской межрайонной прокуратуры города Москвы

**Ответ:** 65 лет. *Правильный ответ – 1 балл.*

г) Следователь Следственного управления по Центральному административному округу г. Москвы

**Ответ:** 65 лет. *Правильный ответ – 1 балл.*

**4.6.** С 2019 года в Российской Федерации проводится пенсионная реформа, предусматривающая постепенный подъём пенсионного возраста от 55 до 60 лет для женщин и от 60 до 65 для мужчин. Ниже приведена таблица сдвига возраста выхода на пенсию для граждан, не относящихся к льготным категориям. В каком возрасте выйдет на пенсию гражданин-мужчина, не относящийся к льготным категориям, в 2022 году?

Год выработки спецстажа	Сдвиг выхода на пенсию, лет
2019	0,5
2020	1,5
2021	3
2022	4
2023 и далее	5

**Ответ:** 64 года. *Правильный ответ – 2 балла.*

**4.7.** Какую картину похитили из музея старики-разбойники?

- А) Портрет Густава Гуго
- Б) Портрет Генриха III – короля Франции
- В) Портрет молодого человека в белом воротнике
- Г) Танец

**Ответ:** В. *Правильный ответ – 2 балла.*

**4.8.** Кто автор картины, которую похитили из музея старики-разбойники?

- А) Софи фон Шмерфельд
- Б) Рембрандт Харменс ван Рейн
- В) Анри Матисс
- Г) Илья Ефимович Репин

**Ответ:** Б. *Правильный ответ – 2 балла.*

*Максимум за задание – 15 баллов.*

**5.** Соотнесите латинское выражение и ситуацию, которое оно обозначает.

1) Nemo debet bis puniri pro uno delicto	А) Одна из целей уголовного наказания
2) Audiatur et altera pars	Б) Ситуация, иллюстрирующая универсальное правопреемство
3) Manifestum non eget probatione	В) Принцип справедливости в уголовном праве
4) Nulla poena sine lege stricta	Г) Институт наследственной трансмиссии
5) Qui prior est tempore, potior est jure	Д) Основополагающий принцип гражданского (договорного) права
6) Poena constituitur in emendationem hominum	Е) Принцип законности в уголовном праве
7) Heres, succedens in honore, succedit in onere	Ж) Принцип состязательности и равноправия сторон в гражданском процессе
8) Heres heredis mei est meus heres	З) Порядок рассмотрения дела, в котором раскрывается государственная тайна
9) Pacta sunt servanda	И) Институт свидетельского иммунитета
10) Januis clausis.	К) Обстоятельства, которые не подлежат доказыванию в гражданском процессе
11) Nemo tenetur se ipsum accusare	Л) Порядок распределения вознаграждения при публичном обещании награды

**Ответы**

<b>1</b>	<b>2</b>	<b>3</b>	<b>4</b>	<b>5</b>	<b>6</b>	<b>7</b>	<b>8</b>	<b>9</b>	<b>10</b>	<b>11</b>
В	Ж	К	Е	Л	А	Б	Г	Д	З	И

*По 2 балла за каждый правильный ответ. Максимум за задание – 22 балла.*

**6. Оцените верность суждений.**

- 1) Аудиозапись в открытом судебном разбирательстве не требует согласия председательствующего в уголовном процессе.
- 2) Высшей мерой наказания по Псковского судной грамоте были «поток и разграбление».
- 3) Предельная продолжительность работы по совместительству не может превышать 4 часа в неделю.
- 4) Генеральный Прокурор РФ назначает на должность своих заместителей.
- 5) Ставка НДФЛ для налоговых нерезидентов РФ, выше, чем для налоговых резидентов РФ.
- 6) Для работы медиатором на профессиональной основе обязательно требуется высшее юридическое образование.
- 7) Три субъекта РФ входят в состав других регионов: Ямало-Ненецкий и Ханты-Мансийский автономные округа в состав Красноярского края, Ненецкий автономный округ – в состав Архангельской области.
- 8) Для назначения на должность Председателя Счётной Палаты РФ требуется поддержка более половины депутатов Государственной Думы.
- 9) Лицо, которое предлагает оферту, называется оферистом.
- 10) Эмансипация не означает признания несовершеннолетнего совершеннолетним.
- 11) На флаге Канады изображён кленовый лист.
- 12) Дотации являются одним из видов межбюджетных трансфертов.
- 13) Налоговой базой транспортного налога является мощность двигателя в лошадиных силах.
- 14) Федеральные законы «О гербе», «О гимне», «О флаге» были приняты в России в один день – 25 декабря 2000 г.
- 15) Лица, которые осуждены к пожизненному лишению свободы, лишены права на подачу ходатайства об условно-досрочном освобождении.
- 16) Двусторонне обязывающий договор иначе называется синаллагматическим.
- 17) Подача внепроцессуального обращения в уголовном процессе является безусловным основанием для отвода судьи.
- 18) Общество с ограниченной ответственностью является унитарным юридическим лицом.
- 19) В гражданском процессе суд может по своей инициативе применить последствия истечения срока исковой давности, даже если стороны об этом не заявили.
- 20) Если подсудимым является несовершеннолетний, минимальный размер любого наиболее строгого вида наказания сокращается на 50 %.

**Ответы**

<b>1</b>	<b>2</b>	<b>3</b>	<b>4</b>	<b>5</b>	<b>6</b>	<b>7</b>	<b>8</b>	<b>9</b>	<b>10</b>
да	нет	нет	нет	да	нет	нет	нет	нет	да

<b>11</b>	<b>12</b>	<b>13</b>	<b>14</b>	<b>15</b>	<b>16</b>	<b>17</b>	<b>18</b>	<b>19</b>	<b>20</b>
да	да	да	нет	нет	да	нет	нет	нет	нет

*По 1 баллу за каждый правильный ответ. Максимум за задание – 20 баллов.*

**7.** Соотнесите систему престолонаследия и ситуацию, которую она иллюстрирует.

1) Шведская система престонаследия	А) трон наследует самый младший ребёнок
2) Английская система престонаследия	Б) трон наследует первая родившаяся в роду дочь
3) Минорат	В) трон наследует самый старший в роду родственник
4) Сеньорат	Г) трон наследует первый родившийся в роду сын
5) Салическая система престонаследия	Д) трон наследует первый родившийся ребёнок, независимо от пола
6) Матрилинейная примогенитура	Е) трон наследует дочь, только если среди всех детей монарха нет сыновей

**Ответы**

<b>1</b>	<b>2</b>	<b>3</b>	<b>4</b>	<b>5</b>	<b>6</b>
Д	Е	А	В	Г	Б

*По 1 баллу за каждый правильный ответ. Максимум за задание – 6 баллов.*

**8.** Решите задачу.

В ООО «Быстро и недорого» работали следующие работники: Иванов, Петров, Сидоров, Глебов, Макаров, Гречихин, Малышев, Кондратов, Сеницын, Леонов. Со всеми из них было заключено соглашение о коллективной материальной ответственности.

с 20.03.2022 г. по 24.03.2022 г. все работники выполняли свои трудовые функции на новом объекте под контролем своего работодателя. При этом Иванов и Петров отсутствовали всё время, так как были в служебной командировке. Макаров, Леонов и Малышев отсутствовали всё время, так как были на больничном. Работодатель заранее был предупреждён об отсутствии, согласовал отсутствие этих работников. Остальные работники не возражали, чтобы выйти на работу в усечённом составе.

27.03.2022 г. выяснилось, что в результате нарушения работниками технологического процесса в период с 20.03.2022 по 24.03.2022 г. был причинён ущерб работодателю в размере 200 000 рублей. Кто конкретно из работников, непосредственно работавших в данный период, нарушил технологический процесс, по итогам проверки установить не удалось.

В целях разрешения трудового спора, работодатель пригласил лиц, подпадающих под коллективную материальную ответственность в данной ситуации, на переговоры с участием медиатора – профессионального психолога Лаврицкой.

На встрече присутствовали все работники, подпадающие под материальную ответственность, психолог Лаврицкая, а также руководитель организации Андреев.

Для лучшей коммуникации каждый из участников встречи обменялся с каждым участником визиткой, где были указаны контактные данные.

Какое количество визиток перешло из рук в руки по итогам встречи?

**Ответ:** 42 визитки. *Правильный ответ – 5 баллов.*

**Комментарий:** полная (бригадная) материальная ответственность означает, что работник несёт ответственность, если не докажет, что вред причинён не по его вине. В связи с отсутствием работников на рабочем месте, они не могли своими действиями причинить ущерб работодателю. Соответственно, на встрече было 5 работников, медиатор и работодатель, всего 7 человек. Каждый из 7-ми специалистов отдал по 6 визиток (всем, кроме себя). Потребовалось  $7 \cdot 6 = 42$  визитки.

9. Прочитайте судебный акт. Вставьте недостающие слова на места пропусков.

### Именем Российской Федерации

\_\_\_\_\_ (1)  
от 1 июля 2020 г. по делу N 123456

\_\_\_\_\_ (2) часть \_\_\_\_\_ (1) объявлена 27 июня 2020 года.

\_\_\_\_\_ (1) в полном объёме изготовлено 1 июля 2020 года.

Арбитражный суд Московской области в составе:

судьи Маришина А.А. при ведении \_\_\_\_\_ (3) судебного заседания секретарём Пироговой Е.В., рассмотрев в судебном заседании итоги процедуры наблюдения

по делу о признании АО «Стройка» несостоятельным (\_\_\_\_\_ (4)),  
при участии в судебном заседании согласно протоколу,

установил:

определением Арбитражного суда Московской области от 12.10.2019 АО «Стройка» признано несостоятельным (\_\_\_\_\_) (4)), в отношении должника введена процедура наблюдения, \_\_\_\_\_ (5) управляющим утверждён Дмитриев А.П.

В настоящем судебном заседании дело рассматривается по существу.

В материалы дела от \_\_\_\_\_ (5) управляющего поступило ходатайство об отложении судебного заседания по рассмотрению итогов процедуры наблюдения до рассмотрения судом заявления ИП Шимкина А.В. о намерении погашения требований кредитора.

Представитель кредитора Спицына А.В. возражала относительно заявленного \_\_\_\_\_ (5) управляющим ходатайства об отложении судебного заседания, ходатайствовала о признании должника \_\_\_\_\_ (4) и открытии в отношении него процедуры \_\_\_\_\_ (6) производства.

Как установлено судом, \_\_\_\_\_ (5) управляющим было заявлено ходатайство об отложении судебного заседания в связи с наличием в производстве не рассмотренного заявления ИП Шимкина А.В. о намерении погашения требований уполномоченного органа.

Заявления ИП Шимкина А.В. о намерении погашения требований уполномоченного органа не является основанием для отложения судебного заседания по рассмотрению итогов процедуры наблюдения в отношении АО «Стройка».

Исследовав материалы дела, суд полагает возможным признать АО «Стройка» несостоятельным (\_\_\_\_\_) (4) по следующим основаниям.

На основании положений ст. ст. 51, 53, абзаца 5 п. 2 ст. 75 Закона о банкротстве следует, что арбитражный суд вправе самостоятельно принять решение о признании должника \_\_\_\_\_ (4) и об открытии \_\_\_\_\_ (6) производства, при условии, что первым собранием \_\_\_\_\_ (7) не принято решение о применении одной из процедур в деле о банкротстве, а также при отсутствии оснований для введения иных применяемых в деле о банкротстве процедур и (или) прекращения производства по делу.

В пункте 21 Постановления \_\_\_\_\_ (8) Высшего Арбитражного Суда Российской Федерации от 30.06.2011 N 51 «О рассмотрении дел о банкротстве индивидуальных предпринимателей» разъяснено, что проведение собраний \_\_\_\_\_ (7), в том числе первого, в соответствии со статьей 75 Закона о банкротстве требуется только в случае утверждения мирового \_\_\_\_\_ (9) или в иных случаях, когда суд признает это необходимым.

В остальных случаях суд принимает решение о признании должника банкротом без проведения собрания \_\_\_\_\_ (7).

Судом установлено, что первое собрание \_\_\_\_\_ (7) АО «Стройка» не проводилось, вопрос собранием об обращении в суд с ходатайством о применении одной из процедур в деле о банкротстве не разрешён.

Основания для применения иной процедуры банкротства в отношении должника у суда отсутствуют.



Из материалов дела следует, что у должника имеются признаки банкротства, установленные ст. 3 Закона о банкротстве, а именно: должником не удовлетворены требования кредиторов по денежным обязательствам в размере, превышающем \_\_\_\_\_ (10) рублей, в течение трёх месяцев с даты, когда оно должно было быть исполнено.

Доказательства погашения задолженности должником в материалах дела не представлены.

При таких обстоятельствах, в соответствии со ст. 53 Закона о банкротстве, должника надлежит признать \_\_\_\_\_ (4) и открыть в отношении него \_\_\_\_\_ (6) производство.

Согласно п. 1 ст. 127 Закона о банкротстве при принятии решения о признании должника \_\_\_\_\_ (4) и об открытии \_\_\_\_\_ (6) производства арбитражный суд утверждает \_\_\_\_\_ (6) управляющего в порядке, предусмотренном статьей 45 Закона о банкротстве.

Руководствуясь ст. ст. 13, 65–75, 110, 112, 123, 156, 167–170, 176, 223 АПК РФ, ст. ст. 32, 45, 52, 53, 75, 124, 127 Закона о банкротстве, Арбитражный суд Московской области

решил:

Признать АО «Стройка» несостоятельным (\_\_\_\_\_ (4)).

Открыть в отношении АО «Стройка» \_\_\_\_\_ (6) производство сроком на 6 месяцев, до 28.11.2020.

Утвердить вознаграждение конкурсному управляющему в размере 30 000 рублей ежемесячно за счёт средств должника.

\_\_\_\_\_ (1) подлежит немедленному исполнению и может быть обжаловано в течение \_\_\_\_\_ (11) со дня его принятия в Десятый арбитражный апелляционный суд через Арбитражный суд Московской области.

Судья  
А.А. Маришина

Ответы:

- 1 – решение
- 2 – резолютивная
- 3 – протокола
- 4 – банкротом
- 5 – временным
- 6 – конкурсного
- 7 – кредиторов
- 8 – пленума
- 9 – соглашения
- 10 – 300000
- 11 – месяца / 1 месяца

*По 2 балла за каждый правильный ответ. Максимум за задание – 22 балла.*

10. Изучите представленное изображение, посвящённое такой административной единице, как Campione d'Italia (Кампионе-д'Италия). Данная территория принадлежит Италии, хотя со всех сторон окружена Швейцарией.



Ответьте на вопросы.

- 1) Чем для Италии является территория *Campione d'Italia*? Напишите одно слово в ИМЕНИТЕЛЬНОМ падеже.
- 2) Чем для Швейцарии является территориии *Campione d'Italia*? Напишите одно слово в ИМЕНИТЕЛЬНОМ падеже.

Ответ: 1) Эксклав. 2) Анклав.

По 3 балла за каждый правильный ответ.

Максимум за задание – 6 баллов.

**11.** Распределите акты, которые издают Федеральные органы исполнительной власти, на нормативные акты и акты, не являющиеся нормативными.

1) постановления	А) являются нормативными
2) приказы	Б) не являются нормативными
3) правила	
4) положения	
5) телеграммы	
6) письма	
7) инструкции	
8) распоряжения	

**Ответы**

<b>1</b>	<b>2</b>	<b>3</b>	<b>4</b>	<b>5</b>	<b>6</b>	<b>7</b>	<b>8</b>
А	А	А	А	Б	Б	А	Б

*По 1 баллу за каждый правильный ответ. Максимум за задание – 8 баллов.*

**12.** Составьте правовой термин, состоящий из 9 букв. Буквы можно найти, решив задания. Ответ на каждое задание – двузначное число. Первая цифра этого числа – номер столбца таблицы, вторая цифра числа – номер строки таблицы. Буква находится на пересечении угаданных столбца и строки.

Например, при решении задания у вас получилось число 42. В этом случае цифра 4 показывает столбец по вертикали № 4, цифра 2 показывает строку по горизонтали № 2. Получается буква «Л».

После того, как вы найдёте все буквы слова, вам нужно составить правовой термин. Буквы даны в случайной последовательности.

Запишите получившиеся числа, а также загаданное слово.

	<b>1</b>	<b>2</b>	<b>3</b>	<b>4</b>	<b>5</b>	<b>6</b>	<b>7</b>	<b>8</b>	<b>9</b>
<b>1</b>	О	С	Ж	Б	Е	Л	С	З	Б
<b>2</b>	Т	М	П	Л	Ц	О	К	Э	Х
<b>3</b>	Ь	К	П	Р	О	У	П	А	Е
<b>4</b>	И	Ф	О	Т	Ь	С	Ь	Р	Д
<b>5</b>	Н	Т	Т	И	Г	Ф	О	Н	Я
<b>6</b>	К	В	Ц	Ы	Д	В	Л	Б	К
<b>7</b>	З	У	Щ	Ф	Е	С	П	У	М
<b>8</b>	Б	М	Т	Н	Ю	С	Д	С	Ъ
<b>9</b>	А	П	С	У	Ж	Ч	М	А	Е

**12.1.** Наибольший общий делитель чисел: продолжительность отпуска для учителей в общеобразовательной школе; срок для обмена товара надлежащего качества, если он не подошёл по фасону (в днях).

**Ответ:** НОД (56;14) = 14, буква «И».

**12.2.** Площадь квадрата, сторона которого равна сумме двух чисел: предельная продолжительность временных работ (в месяцах) и минимальное количество членов в артели.

**Ответ:**  $S = (2 + 5)^2 = 49$ , буква «У».

**12.3.** Произведение двух чисел: общий срок для получения гражданства в РФ на основании натурализации (в годах) и количество государств, которые являются постоянными членами Совета Безопасности ООН.

**Ответ:**  $5 \cdot 5 = 25$ , буква «Т».

**12.4.** Арифметический квадратный корень из числа, равного разности двух чисел: количество государств – членов ООН и срок (в часах), в течение которого Совет Федерации рассматривает вопрос об утверждении Указа Президента о введении чрезвычайного положения в РФ.

**Ответ:**  $\sqrt{193 - 72} = \sqrt{121} = 11$ , буква «О».

**12.5.** Произведение трёх чисел: срок на который мировой судья назначается первый раз (в годах); количество судей в Президиуме Верховного Суда РФ; дробь, показывающая минимальный размер наиболее строгого наказания при любом виде рецидива.

**Ответ:**  $3 \cdot 13 \cdot 1/3 = 13$ , буква «Б».

**12.6.** Сумма квадратов двух чисел: количество кассационных судов общей юрисдикции и количество уголовных наказаний, которые могут быть назначены в качестве дополнительных.

**Ответ:**  $9^2 + 4^2 = 81 + 16 = 97$ , буква «М».

**12.7.** Наименьшее общее кратное двух чисел: номер главы Конституции РФ, которая регулирует статус основ местного самоуправления и стаж по юридической специальности для занятия должности судьи Московского городского суда (в годах).

**Ответ:** НОК (8;7) = 56, буква «Д».

**12.8.** Числовое значение угла, противолежащего основанию равнобедренного треугольника (угла при вершине), если числовое значение одного из двух равных углов (углов при основании) соответствует произведению двух чисел: количество присяжных заседателей в областном суде при рассмотрении уголовного дела и предельная продолжительность рабочего дня (в часах) для 17-летнего лица, которое работает во время летних каникул.

**Ответ:**  $180 - (8 \cdot 7) \cdot 2 = 180 - 112 = 68$ , буква «С».

**12.9.** Разность чисел: предельное количество участников ООО и количество дней в феврале високосного года.

**Ответ:**  $50 - 29 = 21$ , буква «С».

Буквы: И, У, Т, О, Б, М, Д, С, С.

Слово: судимость.

*По 2 балла за каждое верно указанное число, 4 балла за верное написанное слово, максимум – 22 балла.*

**13.** Соотнесите государство и группу, в которую оно входит.

1) Швейцарская Конфедерация	А) Государство является членом ЕС. Пограничного контроля на внешних границах с государствами – участниками шенгенского соглашения (законодательства) по общему правилу нет
2) Люксембург	Б) Государство является членом ЕС. Пограничный контроль на внешних границах с государствами – участниками шенгенского соглашения (законодательства) присутствует
3) Норвегия	В) Государство НЕ является членом ЕС. Пограничного контроля на внешних границах с государствами – участниками шенгенского соглашения (законодательства) по общему правилу нет
4) Кипр	Г) Государство НЕ является членом ЕС. Пограничный контроль на внешних границах с государствами – участниками шенгенского соглашения (законодательства) присутствует
5) Болгария	
6) Румыния	
7) Израиль	
8) Республика Беларусь	
9) Исландия	
10) Литовская республика	

**Ответы**

<b>1</b>	<b>2</b>	<b>3</b>	<b>4</b>	<b>5</b>	<b>6</b>	<b>7</b>	<b>8</b>	<b>9</b>	<b>10</b>
В	А	В	Б	Б	Б	Г	Г	В	А

*По 1 баллу за каждый правильный ответ. Максимум за задание – 10 баллов.*

**14.** Соотнесите категорию дела и уровень суда, который его рассматривает в соответствии с правилами гражданского процесса.

Категория дела	Уровень суда
1) Иск по имущественным спорам, цена иска – 60 тысяч рублей	А) мировой судья
2) Вынесение судебного приказа	Б) районный суд
3) Восстановление на работе	В) Верховный суд республики, краевой, областной...
4) О признании забастовки незаконной	Г) дело в гражданском процессе не рассматривается
5) О принудительном исполнении решения третейского суда, принятого на территории РФ	
6) О принудительном исполнении решения третейского суда, принятого за пределами территории РФ	
7) Групповые иски	
8) Дело содержит государственную тайну	
9) Дело о признании гражданина безвестно отсутствующим	
10) О банкротстве физического лица	

**Ответы**

1	2	3	4	5	6	7	8	9	10
Б	А	Б	В	Б	В	Б	В	Б	Г

*По 1 баллу за каждый правильный ответ. Максимум за задание – 10 баллов.*

**15.** Соотнесите место массового убийства людей во время Холокоста и государство, в котором сейчас находится данное место.

1) Понары	А) Латвия
2) Румбульский лес	Б) Литва
3) Малый Тростянец	В) Германия
4) Бухенвальд	Г) Польша
5) Майданек	Д) Чехия
6) Терезиенштадт	Е) Беларусь

**Ответы**

1	2	3	4	5	6
Б	А	Е	В	Г	Д

*По 1 баллу за каждое верное соотнесение. Максимум за задание – 6 баллов.*

**16.** Распределите международные организации в хронологическом порядке (в зависимости от момента их возникновения).

- \_\_\_\_\_ Международный комитет красного креста
- \_\_\_\_\_ Евразийский Экономический союз
- \_\_\_\_\_ ООН
- \_\_\_\_\_ Лига Наций
- \_\_\_\_\_ Содружество независимых государств
- \_\_\_\_\_ Шанхайская организация сотрудничества

**Ответы**

1	6	3	2	4	5
---	---	---	---	---	---

Справочно:

Международный комитет красного креста – 1863 г.

Евразийский экономический союз – 2015 г.

ООН – 1945 г.

Лига наций – 1920 г.

СНГ – 1991 г.

ШОС – 2001г.

*По 1 баллу за каждую правильно указанную цифру. Максимум за задание – 6 баллов.*

**17.** Сохранение исторического и культурного наследия является одной из приоритетных задач российского государства. Для реализации конституционного права каждого гражданина на доступ к культурным ценностям и конституционной обязанности каждого заботиться о сохранении исторического и культурного наследия, беречь памятники истории и культуры, а также на реализацию прав народов и иных этнических общностей в Российской Федерации на сохранение и развитие своей культурно-национальной самобытности, защиту, восстановление и сохранение историко-культурной среды обитания, защиту и сохранение источников информации о зарождении и развитии культуры Государственной Думой РФ в 2002 году был принят закон «Об объектах культурного наследия (памятниках истории и культуры) народов Российской Федерации»

Статья 3 ФЗ-73 «Об объектах культурного наследия (памятниках истории и культуры) народов Российской Федерации» приводит подразделение на виды объектов культурного наследия:

1) памятники – отдельные постройки, здания и сооружения с исторически сложившимися территориями (в том числе памятники религиозного назначения, относящиеся в соответствии с ФЗ от 30 ноября 2010 года N 327-ФЗ «О передаче религиозным организациям имущества религиозного назначения, находящегося в государственной или муниципальной собственности» к имуществу религиозного назначения); мемориальные квартиры; мавзолеи,

отдельные захоронения; произведения монументального искусства; объекты науки и техники, включая военные; объекты археологического наследия;

2) ансамбли – чётко локализуемые на исторически сложившихся территориях группы изолированных или объединённых памятников, строений и сооружений фортификационного, дворцового, жилого, общественного, административного, торгового, производственного, научного, учебного назначения, а также памятников и сооружений религиозного назначения, в том числе фрагменты исторических планировок и застроек поселений, которые могут быть отнесены к градостроительным ансамблям; произведения ландшафтной архитектуры и садово-паркового искусства (сады, парки, скверы, бульвары), некрополи; объекты археологического наследия;

3) достопримечательные места – творения, созданные человеком, или совместные творения человека и природы, в том числе места традиционного бытования народных художественных промыслов; центры исторических поселений или фрагменты градостроительной планировки и застройки; памятные места, культурные и природные ландшафты, связанные с историей формирования народов и иных этнических общностей на территории Российской Федерации, историческими (в том числе военными) событиями, жизнью выдающихся исторических личностей; объекты археологического наследия; места совершения религиозных обрядов; места захоронений жертв массовых репрессий; религиозно-исторические места.


Рассмотрите изображения объектов культурного наследия Российской Федерации с названиями. Выберите, к какому виду объектов культурного наследия, определения которых даны в тексте ФЗ-73 «Об объектах культурного наследия (памятниках истории и культуры) народов Российской Федерации», относится каждый объект, из представленных на изображениях.

#### А) Киж







Б) Церковь Покрова на Нерли




В) Архитектурно-исторический комплекс «Булгар»



Г) Дворцовая площадь в Санкт-Петербурге



Д) Музей-заповедник «Коломенское»



Е) Российский крейсер «Аврора»





Ж) Мамаев курган



З) Узловая железнодорожная станция Лев Толстой (до 1918 года Астапово)



И) Дворцово-парковый ансамбль Петергоф



**Ответы**

А	Б	В	Г	Д	Е	Ж	З	И
2	1	3	2	2	1	3	3	2

*По 1 баллу за каждый верный ответ. Максимум за задание – 9 баллов.*

**18.** Расположите страны в порядке возрастания значений максимального номинала банкноты, валюта которой является официальной в данной стране.

- \_\_\_\_\_ Израиль
- \_\_\_\_\_ Швейцарская Конфедерация
- \_\_\_\_\_ Литовская республика
- \_\_\_\_\_ Российская Федерация
- \_\_\_\_\_ Япония
- \_\_\_\_\_ Великобритания
- \_\_\_\_\_ Венгрия

**Ответ**

- 1) Великобритания / Фунт стерлингов (50)
- 2) Израиль / Новый израильский шекель (200)
- 3) Литовская республика / евро (500)
- 4) Швейцарская конфедерация / франк (1000)
- 5) Российская Федерация / российский рубль (5000)
- 6) Япония / Иена (10 000)
- 7) Венгрия / Форинт (20 000)

*По 1 баллу за каждый верный ответ, максимум – 7 баллов.*

**19.** Соотнесите теории юридического лица с их представителями.

А) Теория фикции	1) С. Ландкоф
Б) Теория целевого имущества	2) С. Аскназий
В) Органическая	3) Ф. Савиньи
Г) Теория государства	4) Ю. Толстой
Д) Теория директора	5) О. Гирке

**Ответы**

А	Б	В	Г	Д
3	1	5	2	4

*По 1 баллу за каждый верный ответ, максимум – 5 баллов.*

**20.** Прочитайте документ и оцените, верными или неверными являются следующие утверждения.

### *Доверенность*

г. Энск

1 декабря 2022 г.

Я, **Морозова Алла Ивановна**, 1965 года рождения, паспорт серия 1234 номер 567891, зарегистрированная по адресу: г. Москва, Подмосковный переулок, д.6, кв. 12, настоящей доверенностью **уполномочиваю**:

**Солнцеву Зою Михайловну**, 1980 года рождения, паспорт серия 4321 номер 234567, зарегистрированную по адресу: г. Москва, ул. Надежды, д.1, кв. 5,

1) управлять всеми моими банковскими счетами, открытыми в Банке «Оптимист» (ИНН 7712345678), включая осуществление действий по внесению денежных средств, получению/снятию денежных средств, совершение иных операций по счёту;

2) совершать завещание в отношении всего моего имущества, кроме недвижимого;

3) работать вместо меня по трудовому договору в период моего отсутствия в Москве.

Доверенность выдана без права передоверия.

Доверенность выдана сроком на пять лет.

*Морозова Алла Ивановна* (подпись).

*Солнцева Зоя Михайловна* (подпись отсутствует).

Настоящая доверенность удостоверена мной, нотариусом г. Энск, Ивановой Светланой Семёновной (подпись, печать).

Утверждения	Верно	Неверно
1. Доверенность не может быть совершена в г. Энгс, поскольку Морозова А.И. зарегистрирована в г. Москве		
2. Полномочие на управление банковскими счетами не имеет силы, т.к. оно должно быть закреплено только в доверенности, удостоверенной сотрудником Банка «Оптимист», а не нотариусом		
3. Совершение завещания по доверенности невозможно		
4. Замещение работника на основании доверенности возможно		
5. Доверенность не может устанавливать запрет передоверия		
6. Максимальный срок действия доверенности составляет 3 года		
7. Морозова А.И. вправе отозвать доверенность до истечения её срока		
8. Отсутствие подписи Солнцевой З.М. делает доверенность недействительной		

### Ответы

1	2	3	4	5	6	7	8
неверно	неверно	верно	неверно	неверно	неверно	верно	неверно

*По 2 балла за каждый верный ответ, максимум – 16 баллов.*

**21.** Решите правовые задачи, выбрав верный вариант ответа.

**21.1.** ООО «Одуванчик» передало в аренду ООО «Василёк» складское помещение с условием уплаты арендной платы за весь год. К окончанию срока действия договора аренды ООО «Василёк» оплатило 50 % арендных платежей. Стороны заключили соглашение, в соответствии с которым, правоотношения по договору аренды заменены договором займа. Укажите способ прекращения первоначального обязательства.

- А) отступное
- Б) новация
- В) прощение долга
- Г) зачёт
- Д) невозможность исполнения

**Ответ:** Б.



**21.2.** Во время осуществления мероприятий на основании распоряжения Правительства N-ой области, направленных на ликвидацию особо опасного заболевания животных – африканской чумы свиней, имущество гражданина Чумакова в виде трёх сараев было уничтожено. Чумаков получил компенсацию стоимости утраченного имущества. Имущество Чумакова было подвергнуто

- А) национализации
- Б) конфискации
- В) экспроприации
- Г) реквизиции
- Д) дереликции

**Ответ:** Г.

*По 5 баллов за каждый верный ответ. Максимум за задание – 10 баллов.*

**22.** Тема Великой Отечественной войны 1941–1945 гг. представляет особое явление в творчестве советских деятелей искусства и в художественной культуре нашей страны. Память об общенародном подвиге советских граждан составляет основу национального духа и гордости за страну, национальной идентичности. Среди произведений о Великой Отечественной войне выделяются монументальные скульптурные композиции. Рассмотрите изображения монументов, посвящённых теме победы советского народа в Великой Отечественной войне и выполните задание.

Триптих – произведение искусства, состоящее из трёх частей, объединённых общей идеей.



1. «Тыл и фронт» или «Тыл — фронту», 1979



2. «Родина-мать зовёт!», 1967



3. «Воин-освободитель», 1949

Первая часть трилогии «Тыл – фронту» символизирует советский тыл, который обеспечил стране победу в Великой Отечественной войне. В скульптурной композиции рабочий передаёт меч воину на фоне металлургического комбината. Рабочий ориентирован на восток, в сторону металлургического комбината. Воин – на запад, в сторону, где во время войны находился враг. Подразумевается, что это Меч Победы, который выкован и поднят на Урале, в дальнейшем он был поднят «Родиной-матерью» в городе, в котором наступил коренной перелом в войне, а гитлеровская Германия потерпела одно из своих самых существенных поражений. Третий монумент серии «Воин-освободитель» опускает Меч Победы в самом логове врага. Меч символизирует

борьбу и победу, единение народов в стремлении одолеть пришедшую в их страну беду: меч передан – меч поднят – меч опущен.

Напишите названия городов, в которых расположены монументы.

**Ответы**

Монумент «Тыл – фронту» – г. Магнитогорск.

Монумент «Родина-мать зовёт!» – г. Волгоград.

Монумент «Воин-освободитель» – г. Берлин.

*По 3 балла за каждый верный ответ, максимум за задание – 9 баллов.*

**23.** Составьте аббревиатуру международной организации по формуле: (первые две буквы первого термина) + (первые две буквы второго термина) = аббревиатура международной организации.

**ПРИМЕР**

1-е слово: в Древней Руси территория, подчинённая одной власти, преимущественно княжеской.

2-е слово: лицо, которое обратилось в суд за защитой своего нарушенного или оспариваемого права или охраняемого законом интереса.

Ответ: 1. Волость + 2. Истец = ВОИС.

**23.1.**

1-е слово: институт защиты прав и интересов граждан, устанавливается над малолетними, а также над гражданами, признанными судом недееспособными вследствие психического расстройства.

2-е слово: имя российского императора, при которой была принята Жалованная Грамота Дворянства.

**Ответ:** ОПЕК (опека+Екатерина).

*Максимум за задание – 3 балла.*