

ВСЕРОССИЙСКАЯ ОЛИМПИАДА ШКОЛЬНИКОВ
ПО ОБЖ. 2022–2023 уч. г.
ШКОЛЬНЫЙ ЭТАП. 5–6 КЛАССЫ

ОТВЕТЫ И КРИТЕРИИ ОЦЕНИВАНИЯ

Тестовые задания

Определите один правильный ответ.

За правильный ответ начисляется 4 балла.

1. **Определите смысловое значение данного дорожного знака.**

- а) запрещение движения на велосипеде
- б) приоритет велосипеда при движении
- в) наличие велосипедной дорожки
- г) **пересечение с велосипедной дорожкой или велопешеходной дорожкой**




2. **Запрещается выгуливать собак, появляться с ними в общественных местах и в транспорте детям младше**

- а) 11 лет
- б) 12 лет
- в) 13 лет
- г) **14 лет**

3. **Определите смысловое значение данного знака, на водных объектах г. Москвы.**

- а) «Купаться запрещено»
- б) «Входить в воду запрещено»
- в) «Опасно! Грязная вода»
- г) «Купаться запрещено без сопровождения взрослых»



4. **Что представляет основную опасность во время грозы?**

- а) **удар молнии**
- б) сильный порывистый ветер
- в) ливневый дождь
- г) раскат грома

5. **Выберите единый номер системы обеспечения вызова экстренных оперативных служб субъекта Российской Федерации.**

- а) **112**
- б) 911
- в) 101
- г) 102

6. **Подземные толчки и колебания земной поверхности, возникающие в результате внезапных смещений и разрывов в земной коре или верхней части мантии Земли и передающиеся на большие расстояния в виде упругих колебаний, являются**
- а) землетрясением
 - б) вулканическим землетрясением
 - в) эпицентром землетрясения
 - г) обвалом
7. **Кому необходимо в первую очередь сообщить об обнаружении бесхозной вещи в наземном городском транспорте?**
- а) водителю лично или через пассажиров
 - б) сотруднику полиции по телефону
 - в) сотруднику МЧС по телефону
 - г) диспетчеру по переговорному устройству
8. **Какой витамин образуется в коже из провитаминов под воздействием солнечных лучей?**
- а) А
 - б) В₁
 - в) С
 - г) D
9. **Какой признак является общим для всех закрытых механических травм?**
- а) деформация
 - б) патологическая подвижность
 - в) отёк
 - г) укорочение повреждённой части конечности
10. **Какое оптимальное положение тела придают пострадавшему с отсутствием сознания?**
- а) лёжа на спине с приподнятой головой
 - б) лёжа на спине на ровной твёрдой поверхности
 - в) полусидя
 - г) устойчивое боковое положение

Определите два правильных ответа.

За каждый правильный ответ начисляется 4 балла.

0 баллов выставляется за неправильный ответ, а также если участником отмечены более двух ответов (в том числе правильные).

1. Определите смысловое значение и область применения данного знака безопасности на объектах инфраструктуры ОАО «РЖД».

а) «Запрещается прикасаться. Корпус под напряжением».

б) «Самовольное открытие и задержка закрытия дверей не допускается!»

в) размещается в непосредственной близости от входных дверей в вокзал

г) «Внимание. Опасность зажима».

д) наклеивается в тамбурах возле автоматических дверей, ведущих на выход



2. Определите смысловое значение и группу данного знака безопасности.

а) запрещающий знак

б) «Запрещается прикасаться. Опасно»

в) «Запрещается нажимать»

г) предупреждающий знак

д) «Не включать!»



3. Костёр нодья оптимально использовать для

а) просушки вещей

б) подачи светового сигнала

в) обогрева

г) приготовления пищи

д) ночёвки

4. Что может являться источником природной ЧС?

а) зажор

б) химическая авария

в) эпизоотия

г) обвал

д) катастрофа

5. К признакам возникновения урагана относят

а) резкое падение атмосферного давления

б) повышение температуры воздуха

в) резкое прекращение дождя

г) ливневые дожди

д) быстрое исчезновение грозовых облаков

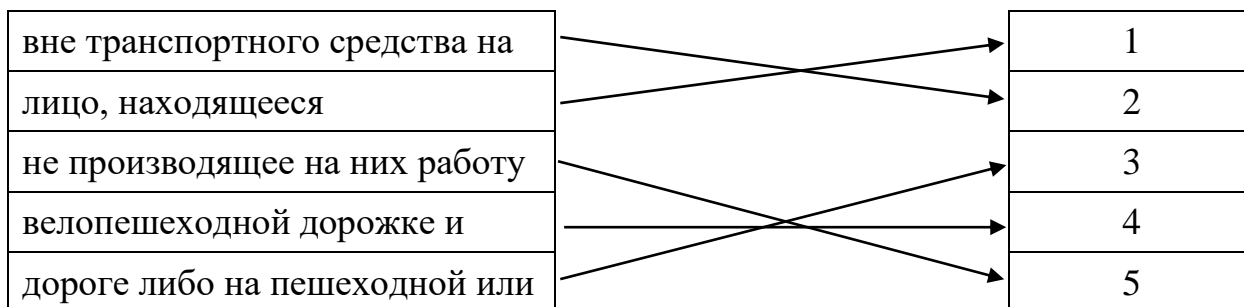
6. **К опасным гидрологическим явлениям и процессам относят**
- а) карст
 - б) град
 - в) ливень
 - г) лавину (снежную)
 - д) сель
7. **В каком положении лучше держать руки, оказавшись в толпе?**
- а) перед грудью
 - б) перед лицом
 - в) отвести сильно в стороны
 - г) сцепить в замок
 - д) в карманах
8. **Выберите группы факторов, которые оказывают равноценное влияние на здоровье человека по данным Всемирной организации здравоохранения.**
- а) образ жизни
 - б) наследственность
 - в) уровень медицинского обеспечения
 - г) регулярность диспансеризации
 - д) состояние окружающей среды
9. **Какие признаки свидетельствуют о наличии у пострадавшего частичной обструкции дыхательных путей при попадании в них инородного тела?**
- а) может говорить
 - б) не может говорить
 - в) кашляет
 - г) дыхание значительно затруднено (шумное, хриплое)
 - д) дыхание отсутствует
10. **Какие действия запрещены при оказании первой помощи пострадавшему с термическим ожогом?**
- а) наложение нетугой повязки
 - б) вскрытие ожоговых пузырей
 - в) смазывание повреждённого участка жирами
 - г) охлаждение повреждённого участка
 - д) иммобилизация при глубоких ожогах

Максимум за тестовые задания – 120 баллов.

Теоретические задания

Задание 1

Расположите предложенные фрагменты в верной последовательности, чтобы в итоге получилось определение одного из участников дорожного движения.




Запишите термин, определение которому Вы составили.

Ответ: пешеход

По каким пешеходным переходам могут передвигаться люди в изображённой ситуации? Выберите все верные ответы.

- 1
- 2
- 3
- 4



Ответ: 24

Оценка задания. Максимальная оценка за правильно выполненное задание – **20 баллов**, при этом:

- за полностью правильно составленное определение выставляется **12 баллов**;
- за правильно названный термин выставляется **4 балла**;

- за каждый правильно определённый пешеходный переход выставляется **по 2 балла**, если участник отметил более двух переходов (в том числе и правильные) выставляется **0 баллов**;
- при отсутствии правильных ответов баллы не выставляются.

Задание 2

В вестибюле станции метрополитена размещён знак безопасности. О чём он предупреждает?

- «Осторожно. Малоаметное препятствие»
- «**Осторожно. Скользко**»
- «Осторожно. Возможность падения с высоты»
- «Осторожно. Возможно опрокидывание»



Выберите пять правил безопасности на эскалаторе.

- Стой справа, лицом по направлению движения.**
- Если нужно спуститься, то делай это с правой стороны, при этом не держись за поручень.
- Стой слева, лицом по направлению движения.
- Если нужно спуститься, то делай это с левой стороны и держись за поручень.**
- Не наступать на ограничительную линию на ступенях и не задерживаться при спуске с эскалатора.**
- При спуске с эскалатора остановись и осмотришься, прежде чем сделать шаг.
- На эскалаторе нельзя сидеть и бегать.**
- Сидеть на ступенях эскалатора можно только по направлению движения.
- Не ставить вещи на ступени и поручни.**
- На ступени и поручни можно ставить вещи, сумма измерений которых по длине, ширине и высоте не превышает 150 см.

Оценка задания. Максимальная оценка за правильно выполненное задание – **12 баллов**, при этом:

- за правильно определённое значение знака безопасности выставляется **2 балла**;
- за каждое правильно определённое правило безопасности на эскалаторе выставляется **по 2 балла**, если участник отметил более пяти правил (в том числе и правильные) выставляется **0 баллов**;
- при отсутствии правильных ответов баллы не выставляются.

Задание 3

Объекты железнодорожного транспорта являются зонами повышенной опасности, на которых действуют определённые правила поведения. Укажите, какие действия запрещены, а какие необходимо выполнять с целью обеспечения безопасности на объектах железнодорожного транспорта.

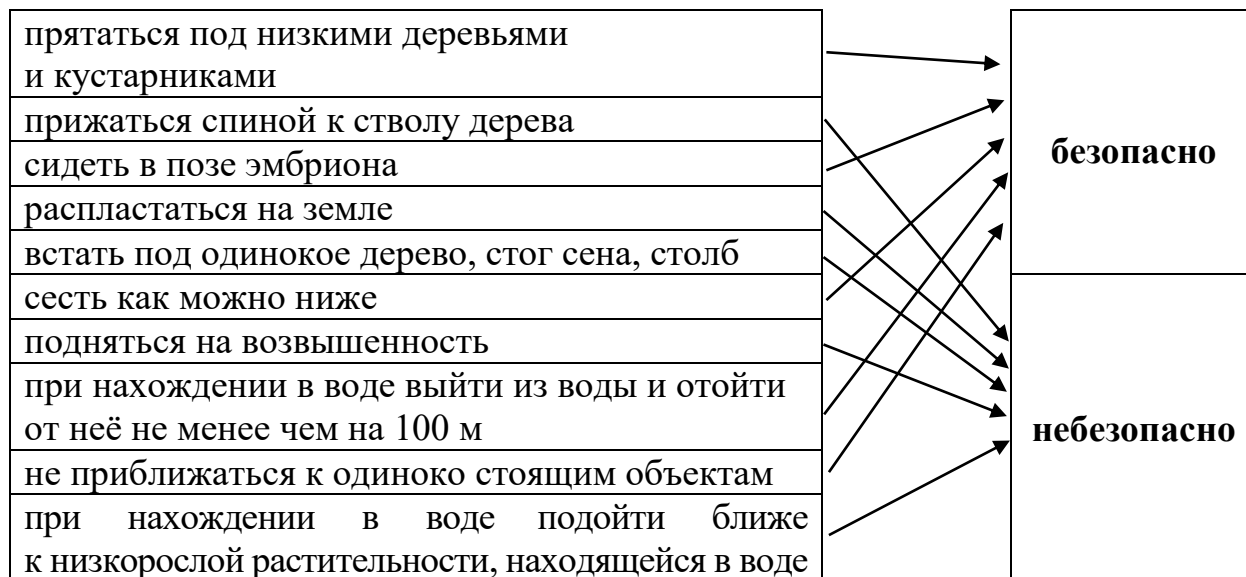


Оценка задания. Максимальная оценка за правильно выполненное задание – **8 баллов**, при этом:

- за каждое правильно определённое запрещённое действие выставляется **по 1 баллу**;
- за каждое правильно определённое действие, которое необходимо сделать, для обеспечения безопасности, выставляется **по 1 баллу**;
- при отсутствии правильных ответов баллы не выставляются.

Задание 4

Выберите безопасные и небезопасные действия во время грозы.



Выберите пять деревьев, в которые чаще всего бьёт молния.

- акация
- бук
- липа
- дуб
- тополь
- ель
- сосна
- берёза

Оценка задания. Максимальная оценка за правильно выполненное задание – **20 баллов**, при этом:

- за каждое правильно определённое безопасное и небезопасное действие выставляется **по 1 баллу**;
- за каждое правильно определённую породу дерева выставляется **по 2 балла**, если участник отметил более пяти деревьев (в том числе и правильные) выставляется **0 баллов**;
- при отсутствии правильных ответов баллы не выставляются.

Задание 5

Бинтовые повязки накладываются по определённым правилам. Определите, пять правил наложения бинтовых повязок, которые являются верными.

- **Во время перевязки рекомендуется стоять лицом к пострадавшему (по возможности)**
- Расположение человека, накладывающего повязку, относительно пострадавшего не имеет значения
- Положение перевязываемой части тела можно менять в процессе перевязки
- **Положение перевязываемой части тела нельзя менять в процессе перевязки**
- **Ширина бинта должна быть равна или больше диаметра перевязываемой конечности**
- Ширина бинта должна быть меньше диаметра перевязываемой части тела
- **Туры бинта накладываются по часовой стрелке относительно бинтующего (преимущественно)**
- Туры бинта накладываются всегда против часовой стрелки относительно бинтующего
- **Повязку следует начинать накладывать с более узкого места, постепенно переходя к более широкому**
- Повязку следует начинать накладывать с более широкого места, постепенно переходя к более узкому

Оценка задания. Максимальная оценка за правильно выполненное задание – **20 баллов**, при этом:

- за каждый правильный ответ выставляется **по 4 балла**;
- если участник отметил более пяти вариантов (в том числе и правильные) выставляется **0 баллов**;
- при отсутствии правильных ответов баллы не выставляются.

Максимальная оценка за работу – 200 баллов.